



Geometría Plana

fundamentos para Secundaria & Media

Libro Interactivo

Carlos Alberto Rojas Hincapié



Geometría Plana

fundamentos para Secundaria & Media

INTERACTIVO



Carlos Alberto Rojas Hincapié
Red Educativa Digital Descartes, Colombia

1ª edición – 2024

Fondo Editorial

RE **educativa**
digital **descartes** .org **proyecto**
descartes

2024



Título de la obra

Geometría Plana

fundamentos para Secundaria & Media

Autor

Carlos Alberto Rojas Hincapié

Primera edición: 2024

Código JavaScript para el libro: [Joel Espinosa Longi](#), [IMATE](#), UNAM.

Recursos interactivos: [DescartesJS](#)

Fuentes: [Lato](#) y [UbuntuMono](#)

Fórmulas matemáticas: [K^AT_EX](#)

Diseño de personajes:

Orlando Antonio Martinez Hoyos

Red Educativa Digital Descartes,
Córdoba (España)

descartes@proyectodescartes.org

<https://proyectodescartes.org>

Proyecto iCartesiLibri

<https://proyectodescartes.org/iCartesiLibri/index.htm>

ISBN: 978-84-18834-94-3



Esta obra está bajo una
licencia [Creative Commons 4.0 internacional:
Reconocimiento-No Comercial-Compartir Igual](#).


Puedes descargar el libro en formato pdf:




Descargar PDF

Tabla de contenido

Prefacio	6
Componente Curricular de Matemáticas	9
1. Conceptos preliminares	17
1.1 Un poco de historia	18
1.2 Conceptos básicos de la geometría	22
1.3 Los ángulos	26
1.4 Los polígonos	35
1.5 Evaluemos lo aprendido	44
2. Formas Geométricas	47
2.1 Figuras de dos dimensiones	48
2.2 El Triángulo	49
2.3 Los Cuadriláteros	62
2.4 Cuadriláteros especiales	66
2.5 La Circunferencia	84
2.6 Evaluemos lo aprendido	88
3. Área y perímetro	91
3.1 ¿Todo se puede medir?	92
3.2 Unidades de medida	95
3.3 Perímetro y área de figuras planas	104
3.4 Figuras geométricas compuestas	125
3.5 Evaluemos lo aprendido	128
4. Aplicaciones de la geometría	131
4.1 El teorema de Pitágoras	132
4.2 Teoremas de Thales	139



4.3 Relaciones métricas del triángulo	143
4.4 Evaluemos lo aprendido	146
5. Exploremos, juguemos y aprendamos	149
5.1 El Tangram Chino	152
5.2 Los Pentominós	164
5.3 Juguemos con la Geometría	171
5.4 Evaluemos lo aprendido	176
6. Referencias Bibliográficas	179



Prefacio

De la colección iCartesiLibri surge este libro digital interactivo, diseñado de tal forma que permita el aprendizaje significativo a través de la intervención directa y personal del usuario, el cual se convierte en el protagonista del libro, en tanto que podrá interactuar con algunos objetos de aprendizaje. Estos objetos de aprendizaje interactivos fueron diseñados con el editor DescartesJS.

La herramienta Descartes se caracteriza por una innata interactividad, por permitir realizar representaciones de objetos bi y tridimensionales, por gestionar expresiones de texto y de fórmulas, por integrar objetos multimedia como imágenes, audios y vídeos, por tener la posibilidad de reflejar casos concretos y también potenciar la conceptualización de tareas y procedimientos mediante la utilización de semillas aleatorias y controles numéricos, gráficos y de texto, y con ellos poder abordar la evaluación de manera automática, tanto la correctiva como la formativa. Con Descartes es posible el diseño y desarrollo de objetos educativos que promueven el aprendizaje significativo, posibilitando esa deseada construcción del conocimiento.

[1]

Retomando la introducción a la [documentación de DescartesJS](#) de Radillo, Abreu y Espinosa, podríamos coincidir en que este libro está destinado tanto a personas que no han usado DescartesJS como a personas que tienen cierta experiencia y desean mejorarla. En cada apartado del libro se proponen ejercicios y se incluyen ejemplos para que el lector pueda comprender paso a paso la funcionalidad de DescartesJS y su enorme potencial para crear objetos interactivos de aprendizaje.

Este libro, que, acompañado del diseño y elaboración de diferentes objetos interactivos de aprendizaje con todas las ventajas de las tic

y sus nuevas tecnologías, pretende posicionarse como alternativa didáctica en el desarrollo de la asignatura de geometría.

Todos los recursos incluidos en este libro se basan en el estándar HTML y consecuentemente son plenamente accesibles y operativos en cualquier ordenador, tableta o smartphone sin más que utilizar un navegador compatible con dicho estándar. Diseñar en HTML, significa que usaremos:

1. Lenguaje HTML
2. Hojas de estilo CSS
3. Programación en JavaScript

"La enseñanza de la geometría en la educación, ha perdido interés por parte de muchos docentes, por lo tanto, se hace necesario recuperar la motivación y el interés del docente por esta área del conocimiento, y darle el lugar que le corresponde en cualquier plan de estudios. Esta situación ha influido positivamente en la presentación de esta propuesta pedagógica, que además de pretender impulsar la enseñanza de tan importante asignatura, vincula la interacción de medios computacionales de gran vigencia en los sistemas educativos actuales y con ello contribuir a mejorar la didáctica tradicional en el proceso de enseñanza – aprendizaje". [\[12\]](#)

Este material interactivo contiene cinco capítulos temáticos, actividades de exploración, actividades de construcción, talleres, juegos, el editor de GeoGebra y actividades evaluativas, los cuales se presentan de modo agradable y que garantizan el aprendizaje al aumentar la motivación cuando se utiliza en ordenadores o diferentes dispositivos móviles.



Componente Curricular de Matemáticas

El Estado colombiano, decidido a elevar la calidad de la educación, introdujo el enfoque basado en el desarrollo de competencias en los estudiantes, lo cual supone el tránsito desde el aprendizaje que centra la atención en el dominio de contenidos, a una educación basada en competencias que no se agota en el sistema educativo, sino que se desarrolla de manera permanente en interacción con el mundo.

De esta manera, consolidar una política de calidad enmarcada en el desarrollo de competencias implica, entonces, una transformación de fondo de las prácticas pedagógicas, del funcionamiento de la institución educativa y del papel de los actores educativos, teniendo como protagonista al estudiante. Buscando desarrollar este modelo se han realizado esfuerzos por elevar la calidad de la educación en el país; en este sentido, el Ministerio de Educación Nacional (MEN) ha puesto a disposición de docentes, directivos docentes, padres de familia y público en general herramientas pedagógicas como:

- Los lineamientos curriculares. (1998).
- Los Estándares Básicos de Competencias (EBC). (2006).
- Los Derechos Básicos de Aprendizaje (DBA). (2015).
- Las matrices de referencia. 2016.
- Las mallas de aprendizaje. 2017.

Herramientas que constituyen el punto de partida y sustento de todas las estrategias de mejoramiento, además son un importante insumo para el diseño curricular y el cambio en las prácticas pedagógicas [\[9\]](#).

ESTRATEGIAS DE MEJORAMIENTO

Elementos que contribuyen a mejorar los procesos de evaluación por competencias y las prácticas en el aula de clase por parte de los docentes para alcanzar cada vez mejores resultados y hacer que la educación en Colombia mejore su calidad.

[Ampliar imagen](#)

Componentes / Pensamientos Específicos del área de matemáticas.

5 categorías conceptuales que conforman esta asignatura según los Lineamientos y los Estándares Básicos de Competencia diseñados por el Ministerio de Educación Nacional, los cuales son:

1. Pensamiento numérico y sistemas numéricos.

Se asocia con "la organización de actividades centradas en la comprensión del uso y de los significados de los números y de la numeración; el desarrollo de diferentes técnicas de cálculo y estimación".

2. Pensamiento espacial y sistemas geométricos.

Contempla las actuaciones del sujeto en todas sus dimensiones y relaciones espaciales para interactuar de diversas maneras con los objetos situados en el espacio, hacer acercamientos conceptuales que favorezcan la creación y manipulación de nuevas representaciones mentales.



Tomados de los EBC, orientaciones pedagógicas, determinados por el M.E.N. Se encuentran en la MALLA DE RELACIÓN DE COMPONENTES CURRICULARES.

Por cada área o asignatura reciben nombres específicos de acuerdo a su propósito cognitivo. Ejemplo:

Matemáticas: Pensamientos.
Ciencias Naturales: Entornos.
Idioma extranjero: Habilidades.

Lenguaje: Factores.
Ciencias Sociales: Relaciones.
Educación Religiosa: Enfoques.

Tomados del Ministerio de Educación Nacional para las áreas en las cuales están definidas. En su implementación se tuvieron en cuenta las mallas de aprendizaje del MEN.

Se especifican los temas a evaluar, guardando la secuencia de progresión establecida en los EBC.

3. Pensamiento métrico y sistemas de medidas.

Hace referencia a la comprensión general que tiene una persona sobre las magnitudes y las cantidades, su medición y el uso flexible de los sistemas métricos o de medidas en diferentes situaciones.

4. El pensamiento variacional y sistemas algebraicos y analíticos.

Comprensión y uso de los conceptos y procedimientos de las funciones y sus sistemas analíticos, para el aprendizaje con sentido del cálculo numérico y algebraico.

5. Pensamiento aleatorio y sistemas de datos.

El pensamiento aleatorio se apoya directamente en conceptos y procesos de la teoría de probabilidades y de la estadística inferencial, e indirectamente, en la estadística descriptiva y en la combinatoria.

¿Qué son los Estándares Básicos de Competencias?

"Un estándar es un criterio claro y público que permite juzgar si un estudiante, una institución o el sistema educativo en su conjunto cumplen con unas expectativas comunes de calidad; expresa una situación deseada en cuanto a lo que se espera que todos los estudiantes aprendan en cada una de las áreas a lo largo de su paso por la Educación Básica y Media, especificando por grupos de grados (1 a 3, 4 a 5, 6 a 7, 8 a 9, y 10 a 11) el nivel de calidad que se aspira alcanzar.

(Ministerio de Educación Nacional, 2006, p. 11)". [\[8\]](#)

Estándares Básicos de Competencias en Matemáticas.



Componente 2.

Pensamiento espacial y sistemas geométricos.

1. *Comparo y clasifico objetos tridimensionales de acuerdo con componentes (caras, lados) y propiedades.*
2. *Comparo y clasifico figuras bidimensionales de acuerdo con sus componentes (ángulos, vértices) y características.*
3. *Identifico, represento y utilizo ángulos en giros, aberturas, inclinaciones, figuras, puntas y esquinas en situaciones estáticas y dinámicas.*
4. *Utilizo sistemas de coordenadas para especificar localizaciones y describir relaciones espaciales.*
5. *Identifico y justifico relaciones de congruencia y semejanza entre figuras.*
6. *Construyo Y descompongo figuras y sólidos a partir de condiciones dadas.*
7. *Conjeturo y verifico los resultados de aplicar transformaciones figuras en el plano para construir diseños.*
8. *Construyo objetos tridimensionales a partir de representaciones bidimensionales y puedo realizar el proceso contrario en contextos de arte, diseño y arquitectura.*

Competencias específicas del área de matemáticas.

Son las encargadas de desarrollar la capacidad de formular, resolver y modelar fenómenos de la realidad; comunicar, razonar, comparar y ejercitar procedimientos para fortalecer la adquisición de conocimientos, habilidades, actitudes y comprensiones del pensamiento matemático, relacionándolos entre sí para facilitar el desempeño flexible, eficaz y con sentido. Las competencias específicas en el área de matemáticas que evalúa la prueba Saber desde los grados 1° a 9° se reagrupan en las siguientes:

1. Comunicación, representación y modelación.

La capacidad del estudiante para expresar ideas, interpretar, usar diferentes tipos de representación, describir relaciones matemáticas, describir situaciones o problemas usando el lenguaje escrito, concreto, pictórico, gráfico y algebraico, manipular expresiones que contengan símbolos y fórmulas, utilizar variables y describir cadenas de argumentos orales y escritas, traducir, interpretar y distinguir entre diferentes tipos de representaciones, interpretar lenguaje formal y simbólico así como traducir de lenguaje natural al simbólico formal y viceversa, que se resume en decodificar de manera entendible aquello expresado matemáticamente en palabras sencillas y manejables.

2. Planteamiento y resolución de problemas.

Es la capacidad para formular problemas a partir de situaciones dentro y fuera de las matemáticas, desarrollar, aplicar diferentes estrategias y justificar la elección de métodos e instrumentos para la solución de problemas, justificar la pertinencia de un cálculo exacto o aproximado

en la solución de un problema y lo razonable o no de una respuesta obtenida, verificar e interpretar resultados a la luz del problema original y generalizar soluciones y estrategias para dar solución a nuevas situaciones problema.

3. Razonamiento y argumentación.

Está relacionada con la capacidad para dar cuenta del cómo y del porqué de los caminos que se siguen para llegar a conclusiones, justificar estrategias y procedimientos puestos en acción en el tratamiento de situaciones problema, formular hipótesis, proponer opiniones e ideas, explorar ejemplos y contraejemplos, probar y estructurar argumentos, generalizar propiedades y relaciones, identificar patrones y expresarlos matemáticamente y plantear preguntas, reconocer distintos tipos de razonamiento y distinguir y evaluar cadenas de argumentos.

Tomado Saber 3° Guía de orientación (2017).

¿Qué son los Derechos Básicos de Aprendizajes (DBA)?

Los DBA, en su conjunto, explicitan los aprendizajes estructurantes para un grado y un área particular. Se entienden los aprendizajes como la conjunción de unos conocimientos, habilidades y actitudes que otorgan un contexto cultural e histórico a quien aprende.

Los DBA se organizan guardando coherencia con los Lineamientos Curriculares y los Estándares Básicos de Competencias (EBC). Su importancia radica en que plantean elementos para construir rutas de enseñanza que promueven la consecución de aprendizajes año a año para que, como resultado de un proceso, los estudiantes alcancen los EBC propuestos por cada grupo de grados.

DERECHOS BÁSICOS DE APRENDIZAJE (DBA) Asociados a la Geometría del grado 6° a 11°



DERECHOS BÁSICOS DE APRENDIZAJE (DBA) Asociados a la Geometría del grado 6° a 11°

Derechos Básicos de Aprendizaje - Grado 6°.

DBA.4. Utiliza y explica diferentes estrategias (desarrollo de la forma o plantillas) e instrumentos (regla, compás o software) para la construcción de figuras planas y cuerpos.

DBA.5. Propone y desarrolla estrategias de estimación, medición y cálculo de diferentes cantidades (ángulos, longitudes, áreas, volúmenes, etc.) para resolver problemas.

DBA.6. Representa y construye formas bidimensionales y tridimensionales con el apoyo en instrumentos de medida apropiados.

DESEMPEÑOS / ESTANDARES

Pensamiento espacial y sistemas geométricos.

2.1 M.III Represento objetos tridimensionales desde diferentes posiciones y vistas. DBA 6.

2.3 M.III Clasifico polígonos en relación con sus propiedades. DBA6.

2.5 M.III Resuelvo y formulo problemas que involucren relaciones y propiedades de semejanza y congruencia usando representaciones visuales. DBA 4.

Pensamiento métrico y sistemas de medidas.

3.1 M.III Utilizo técnicas y herramientas para la construcción de figuras planas y cuerpos con medidas dadas. DBA 4, 5.

3.4 M.III Identifico relaciones entre distintas unidades utilizadas para medir cantidades de la misma magnitud. DBA 5.

3.5 M.III Resuelvo y formulo problemas que requieren técnicas de estimación. DBA 5.

El desarrollo de estos Estándares Básicos de Competencia permitirá fortalecer los procesos de formulación, modelación y resolución de problemas. [\[7\]](#)



Capítulo I

"La geometría es la base de toda ciencia exacta."

Euclides

Conceptos preliminares



1.1 Un poco de historia

Geometría (del griego geo, 'tierra'; metrein, 'medir').

Rama de las matemáticas que se ocupa de las propiedades del espacio. En su forma más elemental, la geometría se preocupa de problemas métricos como el cálculo del área y diámetro de figuras planas y de la superficie y volumen de cuerpos sólidos. Otros campos de la geometría son la geometría analítica, geometría descriptiva, topología, geometría de espacios con cuatro o más dimensiones, geometría fractal, y geometría no euclídea.

En la antigüedad, la geometría era una disciplina empírica utilizada para la medición de terrenos, la construcción, observaciones astronómicas, la navegación, entre otros. En un principio era un conjunto de reglas prácticas, los problemas geométricos se resolvían mediante construcciones gráficas, dando origen al dibujo geométrico.

Evolucionó pasando por diferentes culturas tales como la de los babilonios, egipcios, caldeos, hasta llegar a los griegos, quienes ordenaron los conocimientos empíricos y les dieron un tratamiento más racional elevando la geometría a un nivel científico. Sabios como Euclides, Tales de Mileto, Pitágoras, Platón, Arquímedes y otros, contribuyeron grandemente a este proceso científico.

Cuando se habla de historia de la geometría, nos tenemos que remitir al gran matemático y geómetra griego, considerado uno de los grandes matemáticos y llamado "el Padre de la Geometría", **Euclides de Alejandría**. Nació alrededor de 300 A.C. y murió alrededor de 275 A.C. en Alejandría, Egipto.



Euclides, mejor conocido por su tratado sobre matemáticas llamado "*Los Elementos*", la vigencia de este tratado hace de Euclides el principal maestro de matemáticas de todos los tiempos.

De los trece libros que componen "*Los Elementos*", los seis primeros corresponden a lo que se entiende todavía como geometría plana o elemental, en estos presentan un conjunto de axiomas, que Euclides llamó postulados.

Postulados de Euclides.

Los cinco postulados de Euclides son cinco proposiciones no demostrables a partir de los cuales se fundamenta toda la geometría clásica.

Postulado 1.1.

Por dos puntos distintos pasa una recta.



Figura 1.1. Representación gráfica.

Postulado 1.2.

Un segmento puede prolongarse en una recta ilimitada.



Figura 1.2. Representación gráfica.



Postulado 1.3.

Se puede trazar una circunferencia a partir de un punto central y un radio cualquiera.

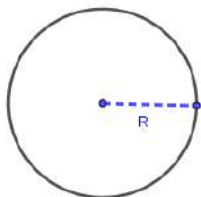


Figura 1.3. Representación gráfica.

Postulado 1.4.

Todos los ángulos rectos son iguales.

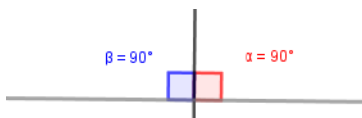


Figura 1.4. Representación gráfica.

Postulado 1.5.

Si una recta corta a otras dos formando ángulos interiores en un lado, siempre que la suma de los mismos sea inferior a la de dos ángulos rectos; esas dos rectas se cortarán en dicho lado.


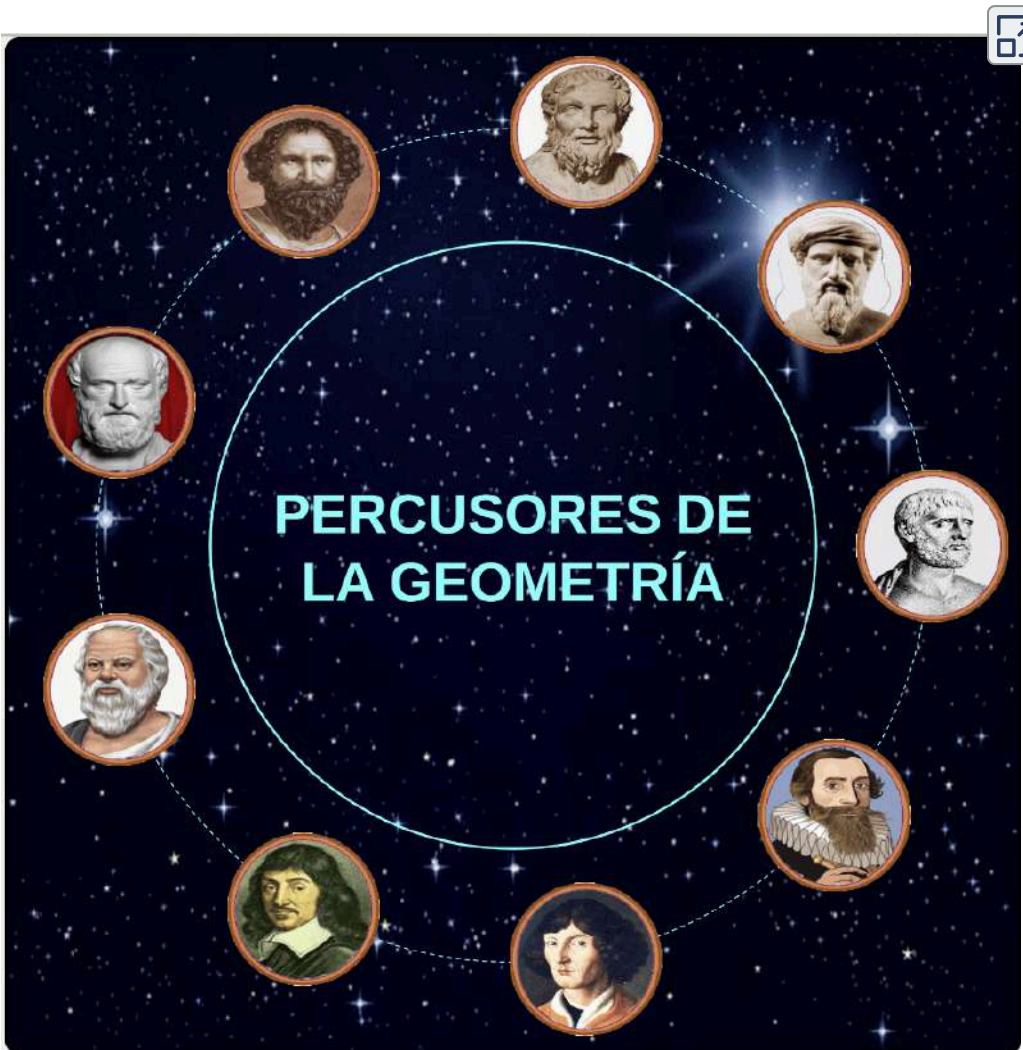


Figura 1.5. Representación gráfica.

Así mismo, la geometría de Euclides fue un punto fundamental en otros campos del conocimiento tales como la física, la química o la astronomía entre otros.

Otros precursores que contribuyeron con el estudio de la geometría, para hacer más fácil el desarrollo de ciertos procedimientos y obtener mejores resultados; algunos de ellos fueron (Pasa el mouse sobre la imagen del personaje):



Geómetras precursores.

[Descargar para imprimir](#)



1.2 Conceptos básicos de la geometría

Algunos conceptos para iniciar.



El punto en la geometría es uno de los entes fundamentales, junto con la recta y el plano, son considerados primarios.

Comencemos hablando del **punto**, se define como una ubicación en cualquier espacio y se representa como (.), no tiene dimensión, longitud, área, volumen, ni otro

ángulo dimensional.

Los puntos lo denotamos mediante letras, que pueden ser mayúsculas o minúsculas. Hablamos así, de los puntos A, B, C, d, e, \dots

Podemos describir una recta como cierto conjunto de puntos que cumplen determinadas propiedades, llamadas Postulados.

A partir de dos puntos distintos se determina una **línea recta**.

Una línea recta \overleftrightarrow{AB} puede ser, además, una semirrecta \overrightarrow{AB} o un segmento de recta \overline{AB} , lo cual definimos más adelante.



Figura 1.6. Representación gráfica.

Hablemos de la recta.

¿Qué significa la recta en geometría?

Una recta \overleftrightarrow{AB} es una sucesión infinita de puntos, situados en una misma dirección. La línea recta no tiene principio ni fin. Cuando dibujamos una línea recta, en realidad, representamos una parte de ella.

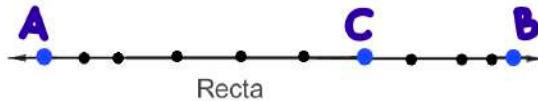


Figura 1.7. Representación gráfica.



¡Geonota!

Por dos puntos distintos pasa una recta.



"2° Postulado de Euclides"

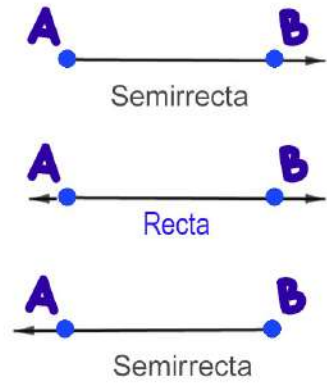


Las rectas suelen denotarse con dos puntos y letras mayúsculas, o en ocasiones, con una letra minúscula.

Una parte de una recta que tiene un extremo definido, pero se extiende el otro extremo hasta el infinito, corresponde a una **semirrecta** \overrightarrow{AB} .



Las dos semirrectas de una misma recta siempre son opuestas y además tienen el mismo origen. Las flechas nos indican que van en sentidos opuestos o contrarios (\overleftarrow{BA} , \overrightarrow{AB}).



La **semirrecta** \overrightarrow{AB} , también es conocida con el nombre de **Rayo** \overrightarrow{AB} .

Si se conoce otro punto de la semirrecta o rayo, además del origen, también se representa escribiendo primero el origen, luego el otro punto conocido y sobre ellos una flecha así: \overrightarrow{AB}

Ahora, si sobre una recta se señalan dos puntos, el trozo de esa recta se llamará **Segmento** \overline{AB} .

Un segmento \overline{AB} tiene un punto de inicio y un punto de fin.



Rectas notables.

Algunos tipos de rectas que son de gran valor para el estudio de geometría; según la relación posicional entre dos o más de ellas:

- 🌈 **Rectas Paralelas.** Rectas que están una al lado de la otra, siempre conservan la misma distancia, de tal forma que nunca se cruzan, se simbolizan: $m \parallel k$

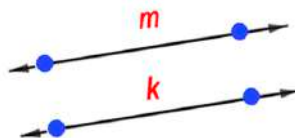


Figura 1.8. Representación gráfica.



- 
Rectas Oblicuas o secantes. Son rectas que se cortan formando ángulos no rectos.



Figura 1.9. Representación gráfica.

- 
Rectas Perpendiculares. Rectas que se cortan formando ángulos de 90° , ángulos rectos, se simboliza: $m \perp k$.

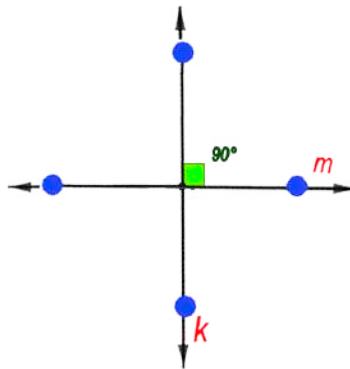
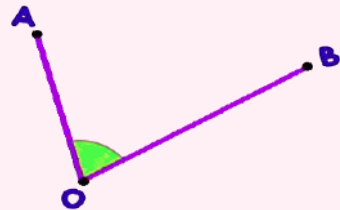


Figura 1.10. Representación gráfica.



¡Geonota!

Recibe el nombre de **ángulo**, la abertura entre dos segmentos o semirrectas, se nombra $\angle AOB$. Las semirrectas se llaman lados y el punto en común vértice O .



1.3 Los ángulos

Para nombrar los ángulos se utilizan letras griegas o se emplean las letras que identifican los lados del ángulo, cuidando que el vértice quede en la mitad, precedidas del símbolo \angle AOB.

Según su medida

Agudo	Su medida es menor de 90° .
Recto	Su medida es de 90° .
Obtuso	Su medida es mayor de 90° y menor de 180° .
llano	Su medida es de 180° .

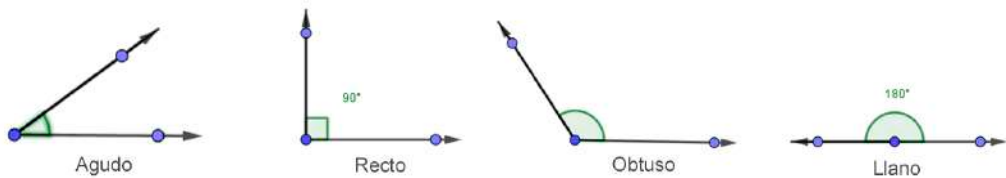


Figura 1.11. Representación gráfica.

Según la suma de los ángulos

Complementarios	Cuando la suma de los ángulos es igual a 90°
Suplementarios	Cuando la suma de los ángulos es igual a 180°

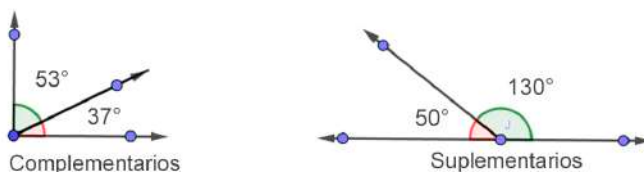


Figura 1.12. Representación gráfica.

Según su relación con otros ángulos

Adyacentes	Los ángulos con un lado común miden 180° .
Opuestos por el vértice	Sus medidas son iguales con igual vértice.
Consecutivos	Tienen el vértice y un lado común.

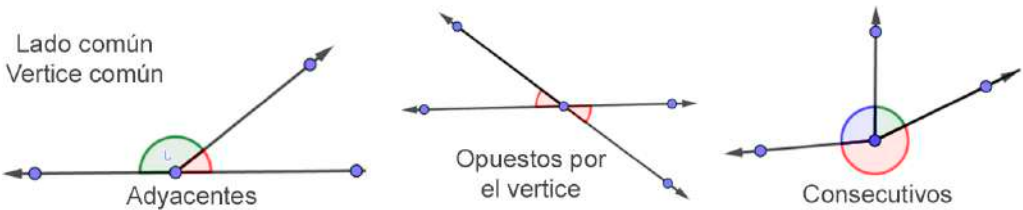


Figura 1.13. Representación gráfica.



¡Geonota!

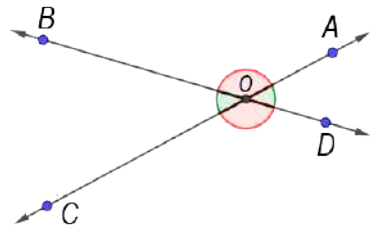
El sistema sexagesimal, tiene como unidad de medida el grado sexagesimal, y una vuelta completa es equivalente a $360 \text{ grados}(360^\circ)$.



Una situación geométrica es el caso de los ángulos que se forman con el corte de diferentes rectas, por ejemplo, con dos rectas oblicuas o secantes que forman ángulos opuestos por el vértice.

$$\angle AOB = \angle COD$$

$$\angle BOC = \angle DOA$$



Ángulos cóncavos y convexos.

Los ángulos cóncavos y los convexos son dos clasificaciones de ángulos más generales con respecto a los que ya hemos visto.

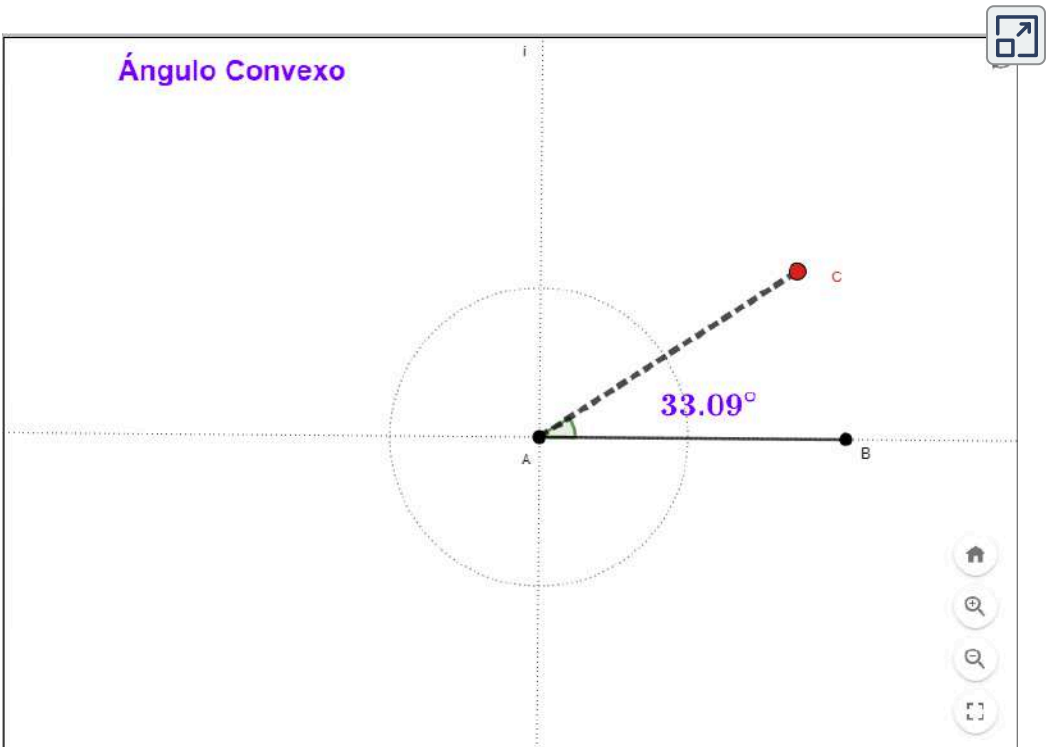
Los **ángulos convexos** son aquellos que miden menos de 180° , mientras que los **ángulos cóncavos** o **no convexos** tienen una amplitud entre 180° y 360° .

Exploremos.

Ángulos Cóncavos y convexos.



GeoGebra. Mueve el punto C y observa cómo cambia el ángulo según sus características.



¿Cómo se mide un ángulo?

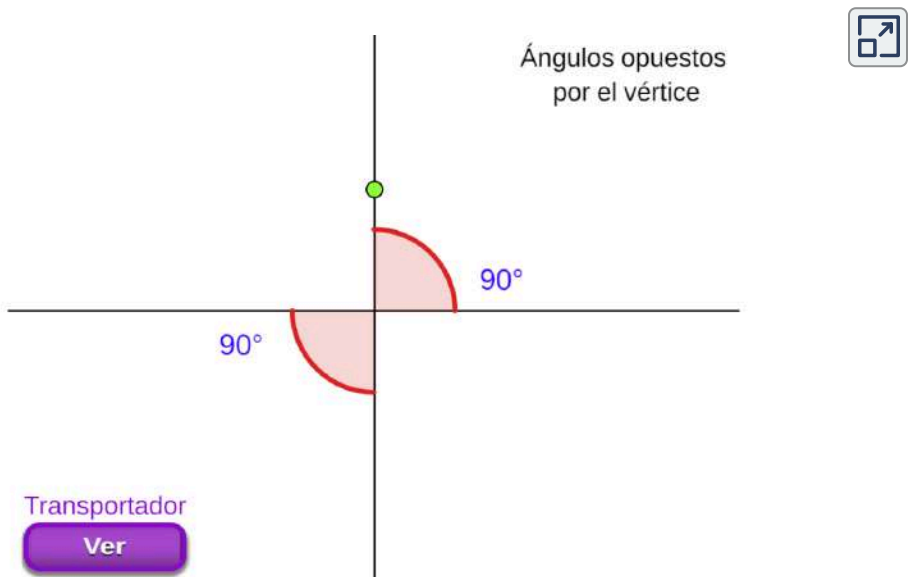
Para trazar o medir ángulos se utiliza como instrumento de medición **el transportador**, generalmente, tiene forma de semicírculo (180°), pero también se puede encontrar como un círculo completo (360°).

El ángulo de 360° es equivalente a un ángulo de 0° . Si se siguiera dando la vuelta, se completarían ángulos por ejemplo de 450° , 600° o más grados. Sin embargo, los grados se suelen representar solamente hasta 360° .

Exploremos.

Ángulos opuestos por el vértice.

Mueve el punto de color verde y observa la medida de los ángulos.



¡Piensa! ¿A cuántos grados equivale un ángulo de 510° ?
Respuesta.

Es importante mencionar que los ángulos se miden en sentido contrario a las manecillas del reloj, es decir, hacia la izquierda. Cuando se miden en la dirección contraria, hacia la derecha, se dice que son negativos.

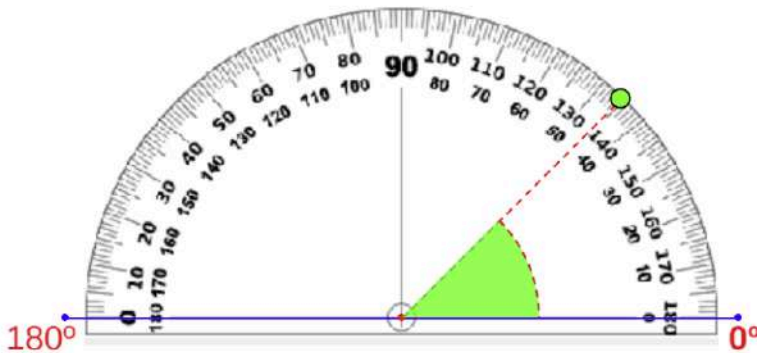


Figura 1.14. Representación gráfica.

Exploremos.

Medir ángulos con el transportador.

Mueve el punto de color verde y observa la medida del ángulo y el tipo de ángulo según su medida.



Medida del Ángulo : 45°

Según su medida, es un ángulo agudo

Ocultar



Ejercicio 1.1.

El transportador, ¿cómo se miden los ángulos?

Arrastra el transportador, mide el ángulo e ingresa su medida, oprime la tecla "enter \leftarrow", verifica la solución. Repite el proceso.

Ingresa el valor de la medida obtenida

Tipo de
El Transportador
Círculo

Comprueba lo aprendido respondiendo a la pregunta.



¿El equivalente en grados de 614° es?

Respuesta



¡Piensa! Si dos rectas se cortan y forman un ángulo de 63.5° , ¿Cuál será el valor de los demás ángulos? [Respuesta.](#)

Ángulos formados por rectas paralelas y una recta secante.

Observa la figura, se tiene dos rectas paralelas m y n , que son cortadas por una recta secante p , estas generan un sistema de ocho ángulos con ciertas características según su posición.

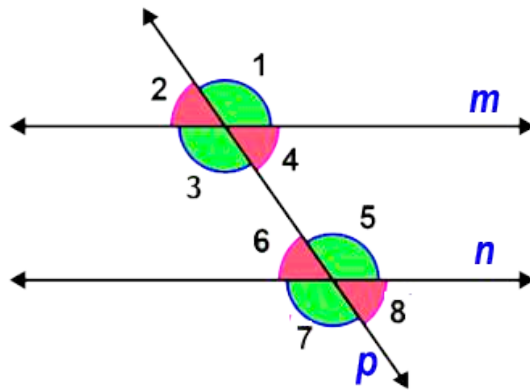


Figura 1.15. Representación gráfica.

- 🎨 **Ángulos opuestos por el vértice**, son pares de ángulos de igual medida.

$$\hat{1} = \hat{3}, \quad \hat{2} = \hat{4}, \quad \hat{5} = \hat{7}, \quad \hat{6} = \hat{8}$$

- 🎨 **Ángulos alternos internos**, estos están en lados distintos de la recta secante (alternos) y entre las rectas paralelas (internos), son ángulos de igual medida.

$$\hat{3} = \hat{5}, \quad \hat{4} = \hat{6}$$

- 🌈 **Ángulos alternos externos**, estos están en lados distintos de la recta secante (alternos) y fuera de las rectas paralelas (externos), son ángulos de igual medida.

$$\hat{1} = \hat{7}, \quad \hat{2} = \hat{8}$$

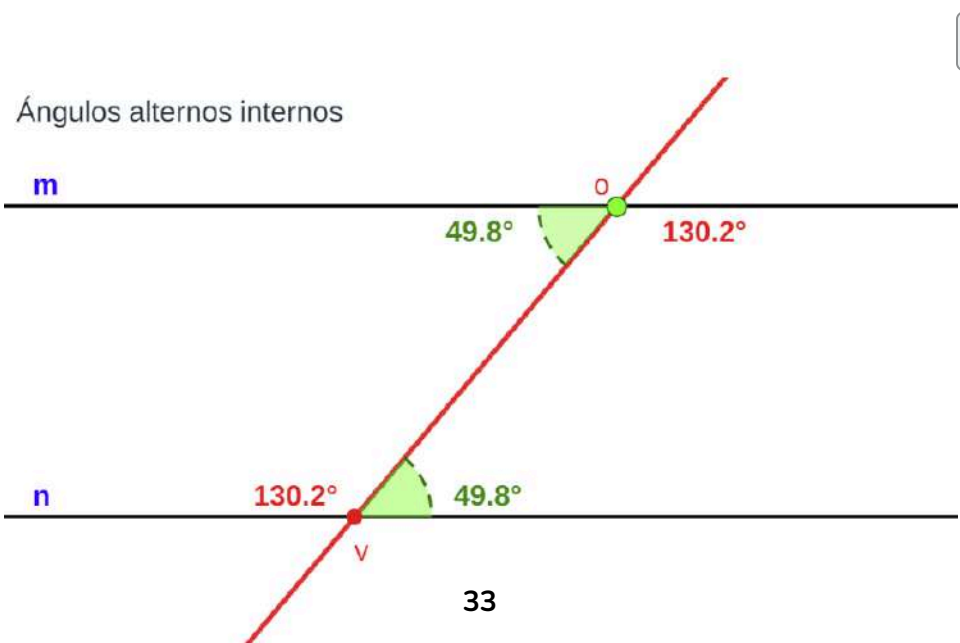
- 🌈 **Ángulos correspondientes**, son los que se encuentran del mismo lado de la recta secante que corta las rectas paralelas y están en el mismo nivel respecto a la recta paralela, son ángulos de igual medida.

$$\hat{1} = \hat{5}, \quad \hat{2} = \hat{6}, \quad \hat{3} = \hat{7}, \quad \hat{4} = \hat{8}$$

📌 Exploremos.

Ángulos formados por rectas paralelas y una recta secante.

Mueve el **punto o** de color verde y observa los ángulos que se forman por el corte de la recta (roja) oblicua o secante *p*.




En conclusión, en la [figura 1.15](#), según la posición de los ángulos, los de color verde todos son de igual medida y los de color rojo todos son de igual medida.

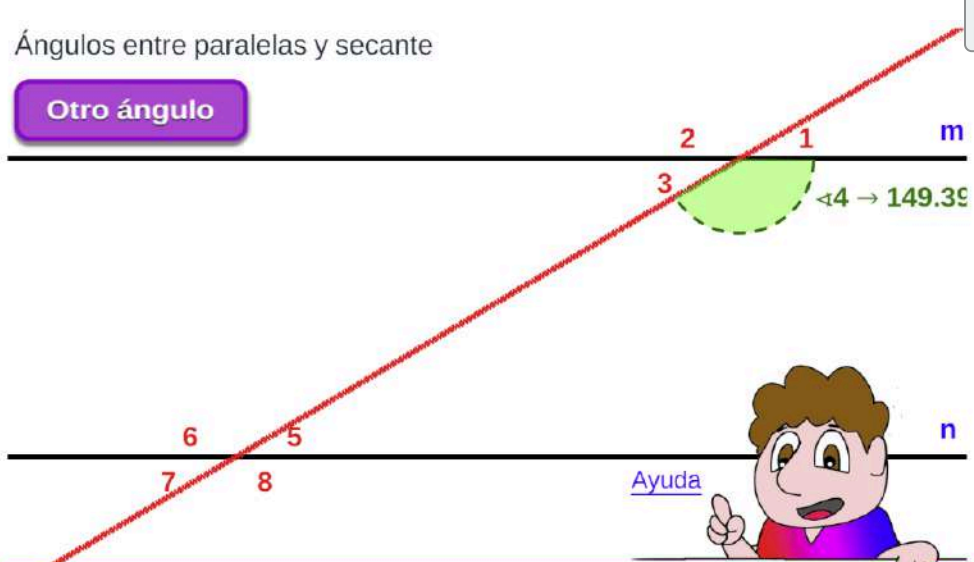
Ejercicio 1.2.

Rectas paralelas cortadas por una recta secante.

Observa el ángulo formado por las rectas $m \parallel k$ y la recta secante. Responde la pregunta seleccionando el valor del ángulo que consideres correcto. Oprime el botón **Otro ángulo** para generar otro ejercicio.

Ángulos entre paralelas y secante 

Otro ángulo




1 2 3 4 → 149.39

5 6 7 8

[Ayuda](#)

¿El valor del ángulo $\sphericalangle 4$ es?


 **¡Piensa!** ¿Cuándo todos los ángulos formados entre dos rectas paralelas y una recta secante, son de igual medida?

[Respuesta.](#)

1.4 Los polígonos



Un polígono es una figura geométrica plana cerrada, formada por segmentos de línea que se cortan en sus extremos, a estos segmentos de línea se les llama **lados** del polígono, y se cortan formando puntos llamados **vértices**.

Los polígonos pueden tener cualquier cantidad de lados y ángulos, pero sus lados nunca pueden ser curvos. Si existe alguna curvatura en la figura, no puede ser un polígono.



¡Geonota!

Los polígonos los podemos dividir en dos grupos:

- 
 Los **polígonos regulares**, son aquellos que tienen todos sus lados y ángulos iguales.
- 
 Los **polígonos irregulares**, son los que no cumplen esas dos condiciones.

Los polígonos se pueden clasificar de muchas formas, pero la más utilizada es según el número de lados, además, de esta forma, también se nombran según la cantidad de lados que este posea.

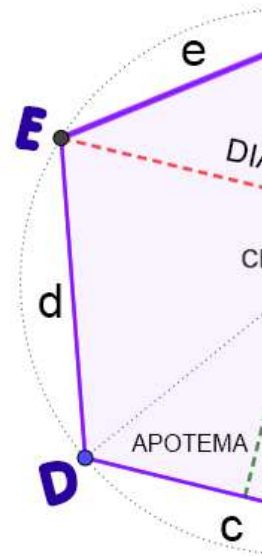



¡Piensa! Sabes... ¿Cuál es el polígono más pequeño o el más grande que existe según su número de lados? [Respuesta.](#)

Elementos que componen un polígono.



Un polígono está formado por unos elementos básicos:

- 🌟 **Vértice:** Es el punto donde se cortan dos segmentos contiguos. Se designan con una letra mayúscula $A, B, C, D \dots$
- 🌟 **Lados:** Es cada uno de los segmentos de recta que forman el polígono. Se designa con dos letras mayúsculas ubicadas en sus extremos, o con una letra minúscula en correspondencia con el vértice opuesto: $\overline{AB} = \bar{a}, \overline{BC} = \bar{b}, \overline{CD} = \bar{c}, \dots$
- 🌟 **Ángulo interior:** Es el ángulo formado por dos lados del polígono. El ángulo interior se designa con una letra griega o con las tres letras mayúsculas de los vértices que correspondan.
- 🌟 **Ángulo exterior:** Es el ángulo formado por un lado y la prolongación de otro contiguo hacia la región exterior. Generalmente se designa con la letra griega del ángulo interior adyacente acompañada de un subíndice.
- 🌟 **Ángulo central:** Es el ángulo formado por dos radios que unen el centro del polígono con dos vértices consecutivos del polígono.
- 🌟 **Diagonal:** Línea que une dos vértices no consecutivos del polígono. Se designa con las dos letras mayúsculas a los vértices que se unen, o por una letra \bar{d} con subíndice: $AC = \bar{d}_1, AD = \bar{d}_2, \dots$



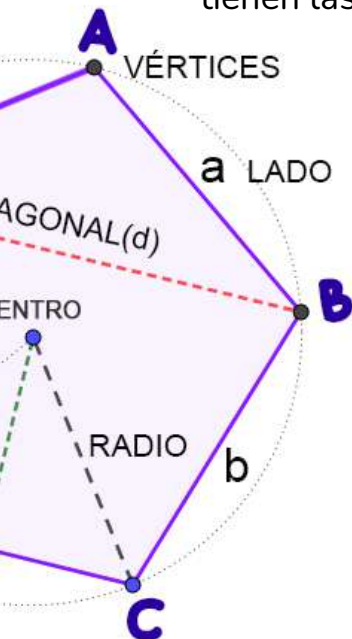
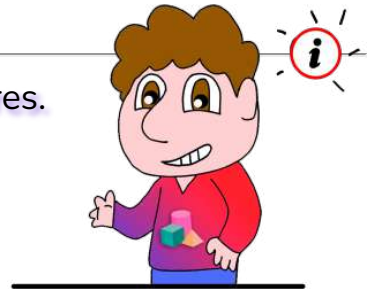
- 
Apotema: La apotema de un polígono regular es el segmento que cae perpendicular a un lado desde el centro de la circunferencia que forma el polígono. Es básica para conocer el área del polígono ya que es la altura de cada uno de los triángulos formados por cada dos radios y el lado.







Los polígonos, usualmente, se clasifican en:







- 
polígonos regulares: Todos sus ángulos y lados son iguales es regular
- 
polígonos irregulares: No cumple con alguna de las condiciones de ser regular.

Características de los polígonos regulares.



Todos los polígonos regulares tienen las siguientes características:



- 
 Todos sus lados son iguales.
- 
 Todos sus ángulos interiores miden lo mismo.
- 
 Todos sus ángulos exteriores miden lo mismo.
- 
 Tienen ángulos centrales y todos tienen igual medida.
- 
 Sus ángulos centrales y sus ángulos exteriores, son exactamente iguales.
- 
 Tienen varios ejes de simetría, el mismo número que los lados que tengan.

- 
 Todas sus diagonales miden lo mismo y son internas.
- 
 Tienen el mismo número de diagonales que un polígono irregular (siempre y cuando ambos tengan el mismo número de lados).
- 
 Todas sus diagonales miden lo mismo y todas son interiores.
- 
 Sus diagonales generan formas geométricas simétricas.
- 
 Todo polígono regular es cíclico o inscrito, o sea, se pueden inscribir dentro de una circunferencia.
- 
 Solo a los polígonos regulares se le atribuye un centro geométrico, apotemas, radios y ángulos centrales. Los polígonos irregulares no lo tienen, se les puede establecer un centro, o mediatrices de sus lados, o algún tipo de ángulo central según distintos criterios.

Otra clasificación que se puede hacer de los polígonos es según el tipo de ángulos que los componen:

- 
Polígonos convexos son aquellos en los que todos sus ángulos son menores que 180° .
- 
Polígonos cóncavos o no convexos son aquellos que al menos tienen un ángulo que mide más de 180° .

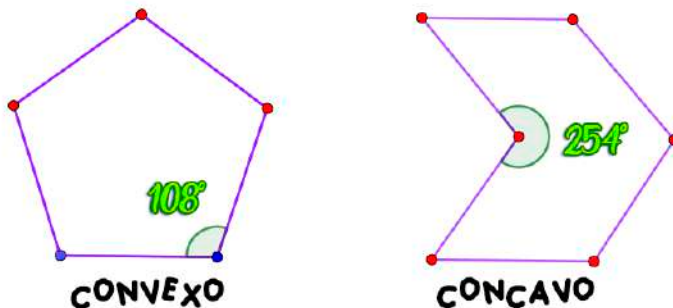


Figura 1.16. Representación gráfica.

Existen polígonos regulares con cualquier número de lados, desde un mínimo de tres lados (triángulo equilátero) hasta infinitos lados. De hecho, cuando el número de lados de un polígono regular es infinito, tiende a convertirse en un círculo, pues sus lados, teóricamente, pasarían a convertirse en un solo punto en el espacio, que estarían a la misma distancia de su centro. Esa es la misma definición de circunferencia y círculo.

Exploremos.

Clasificación de los polígonos según el número de lados.



GeoGebra. Escena interactiva, modifica los controles y las casillas de verificación, observa los polígonos y comprueba algunas de sus características.

Polígonos Regulares

Diagonales

Ángulo interno

Ángulo externo

Circunferencia Circunscrita

Home

Search

Search

Fullscreen

Dodecágono

LADOS = 12

Algunas precisiones de los polígonos regulares convexos.

La **circunferencia circunscrita** a un polígono es la que pasa por todos los vértices del polígono. Si es polígono es regular, el centro de la circunferencia circunscrita y el centro del polígono coinciden.

En todo polígono regular, la medida de cada ángulo interno, donde n es el número de lados del polígono, está dada por cualquiera de las dos expresiones equivalentes:

$$\text{Ángulo interno} = 180^\circ - \frac{360^\circ}{n} \quad (1)$$

$$\text{Ángulo interno} = \frac{(n - 2) \cdot 180^\circ}{n} \quad (2)$$

La suma de los ángulos interiores de un polígono convexo de n lados está dada por la expresión:

$$\text{Suma } \angle \text{internos} = (n - 2) \cdot 180^\circ \quad (3)$$

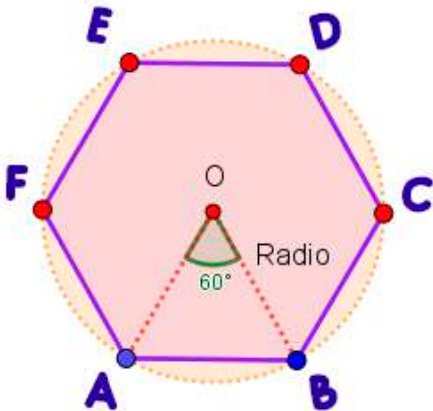


¡Geonota!

El **triángulo central** de un polígono regular, es el triángulo formado por el centro del polígono y dos vértices consecutivos del mismo polígono.



¡Piensa! Sabes... en un Dodecágono, ¿Cuál es la medida de los ángulos internos, externos y central, además, cuántas diagonales tiene? [Respuesta.](#)



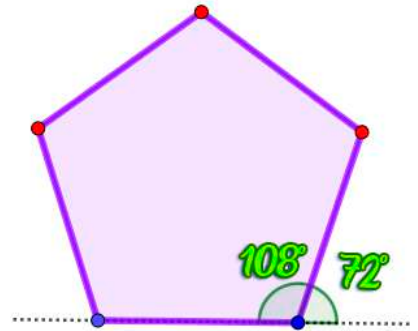
Cada lado del polígono determina un **ángulo central**, el cual está formado por dos radios, además, la medida del ángulo central es equivalente a un ángulo exterior, se determina mediante la expresión:

$$\text{Ángulo central} = \frac{360^\circ}{n} \quad (4)$$

La suma de todos los ángulos exteriores de cualquier polígono siempre es 360° , por ejemplo, para un pentágono regular, la medida del ángulo externo es 72° , por tanto,

$$72^\circ \cdot (5) \text{ lados} = 360^\circ$$

El ángulo interno y externo, son un par de ángulos adyacentes, entonces la suma siempre es igual a 180° .



Número de diagonales de un polígono.

Para encontrar la cantidad de diagonales de cualquier polígono convexo (sea o no regular) viene determinado por el número de lados n que tiene el polígono, para ello, se utiliza la expresión:

$$\text{Número diagonales} = \frac{n \cdot (n - 3)}{2} \quad (5)$$

$$\text{Número diagonales por vértice} = (n - 3) \quad (6)$$

Ejercicio 1.3.

¿Cuál ángulo corresponde a un polígono regular convexo?

Emparejamiento. Arrastra el punto de color de la columna izquierda a la columna derecha según corresponda el ángulo con el polígono regular dado, para finalizar oprime el botón verificar.

Conecta la columna izquierda con las expresiones correctas de la columna derecha

Dodecágono	Ángulo interno 150°
Eneágono	Ángulo externo $48,18^\circ$
Pentágono	Ángulo externo $51,43^\circ$
Decágono	Ángulo externo 40°
Heptágono	Ángulo central 66°
	Ángulo interno 108°
	Ángulo interno 124°
	Ángulo central 36°

1/0



Comprueba lo aprendido respondiendo a la pregunta.



Un polígono regular tiene un ángulo externo de 27.69° ,
¿Cuántos lados tiene el polígono regular?


Respuesta


Otros términos de los polígonos.

Los **Polígonos Simples** son un tipo de Polígonos en los que ninguno de sus lados se corta con otro lado.

Los **Polígonos Complejos** son aquellos en los que alguno de sus lados se corta con otro.

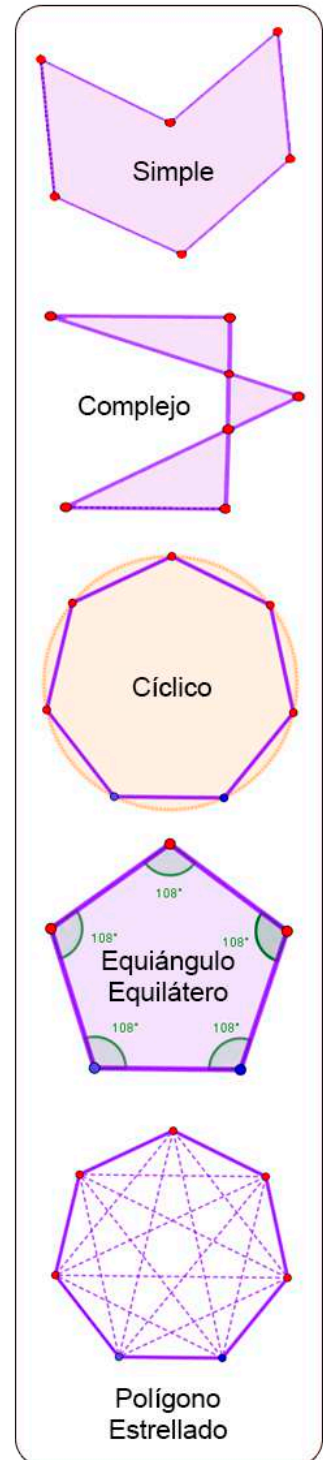
Los **Polígonos Cíclicos** son aquellos en los que todos sus vértices pasarían por una circunferencia. Si son polígonos regulares, son equiángulos y equiláteros

 Los **Polígonos Equiángulos** son un tipo de Polígonos cuyos ángulos interiores son todos iguales.

 Los **Polígonos Equiláteros** son un tipo de Polígonos cuyos lados son todos iguales.

Los **Polígonos Estrellados** es todo aquel que tiene una forma semejante a una estrella, así que pueden ser regulares o irregulares.

Un polígono regular estrellado puede construirse a partir del regular convexo uniendo vértices no consecutivos de forma continua. Los irregulares son aquellos que no son regulares



1.5 Evaluemos lo aprendido

Ejercicio práctico.

Prepárate para la evaluación y mide tus conocimientos de lo aprendido en este capítulo, responde las preguntas a continuación:



Califica cada enunciado como verdadero o falso



10 enunciados en 200 segundos


Comenzar




**Actividad
complementaria.**

[Descargar para imprimir](#)



 **Evaluación. 10 preguntas con límite de tiempo (Máx. 10 minutos)**
Clic en el link, responde y envía tus respuestas por correo.



Capítulo I: Conceptos preliminares.

Evalúa lo aprendido y envía resultados a tu profesor(a).



[Clic aquí.](#)

Evaluación:
Capítulo I



Escanéame con tu móvil



Tomada de la Red Educativa Digital Descartes.


[4] Plantillas con Descartes-JS



Capítulo II

*"Donde hay materia hay geometría".
Johannes Kepler*

Formas Geométricas



2.1 Figuras de dos dimensiones.

La Geometría es la rama de las matemáticas que estudia las figuras geométricas y sus propiedades.



¡Geonota!

¿Qué son las figuras geométricas?

Son figuras que limitan superficies planas a través de una serie de líneas que unen puntos. El orden y el número de dichas líneas es la que define una figura u otra.

Formas geométricas según su forma y número de lados.

Las formas geométricas más comunes y conocidas de las figuras planas, en dos dimensiones, son aquellas figuras que tienen un largo y ancho, por ejemplo, los polígonos.



Es posible clasificar las figuras geométricas de diferente manera, en este caso se clasificarán según en la dimensión que se encuentra, según su forma y número de lados.

Ahora veremos los polígonos principales y sus características un poco más a fondo, las cuales identificamos en el capítulo I.

2.2 El Triángulo

El triángulo es el polígono con menos lados que puede existir.



¡Geonota!

Los polígonos son las figuras geométricas planas que están delimitadas por tres o más lados (rectas) y tienen tres o más ángulos y vértices.

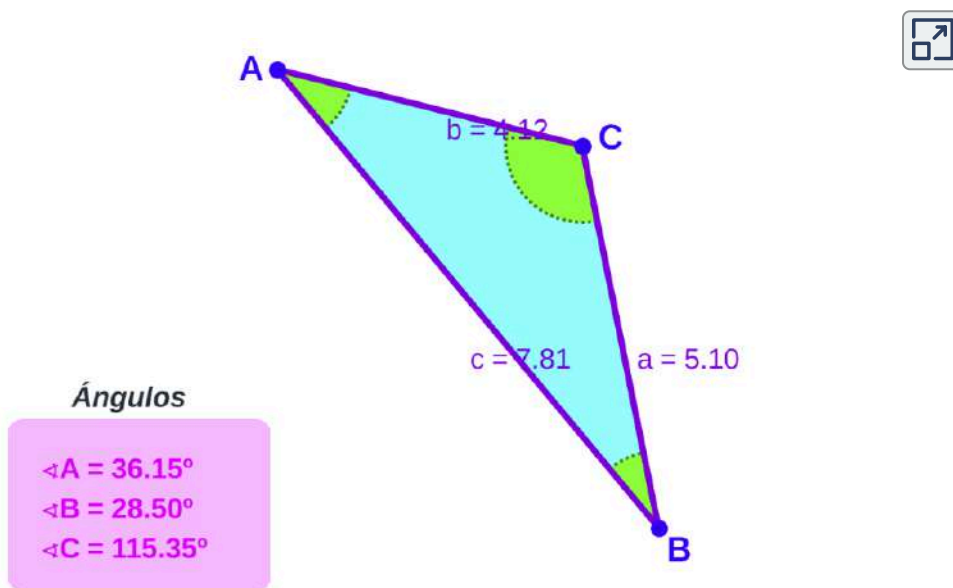
Los triángulos tienen: 3 lados (a , b y c), 3 vértices (A , B y C) y 3 ángulos interiores (\hat{A} , \hat{B} y \hat{C}). En el triángulo, el lado opuesto a un ángulo, se nombra con la misma letra, pero en letra minúscula.



Exploremos.

Las medidas de los lados y ángulos del triángulo.

Mueve los puntos (vértices) y observa las medidas en el triángulo.



Clasificación de los triángulos.

Los triángulos se clasifican según cómo sean sus ángulos y cómo sean sus lados entre sí, de esta forma, se clasifican en:

🌐 Según sus lados reciben el nombre de:

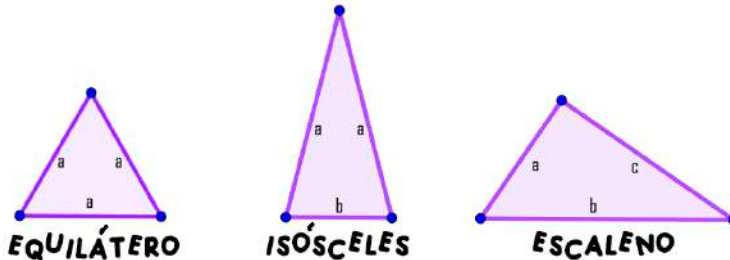


Figura 2.1. Representación gráfica.

- 🔺 **Triángulo equilátero:** Es aquel que tiene los tres lados de igual longitud (3 lados iguales).
- 🔺 **Triángulo isósceles:** Es aquel que tiene dos lados con igual longitud, y un lado llamado base (2 lados iguales).
- 🔺 **Triángulo escaleno:** Es aquel que presenta todos sus lados con longitudes diferentes.



¡Geonota!



Es relativamente fácil hallar cuánto mide un ángulo o un lado desconocido en un triángulo, incluso, se pueden hallar dos de sus lados o ángulos teniendo ciertos datos.

Cualquier polígono se puede subdividir en varios triángulos. Existen varias formas, una forma fácil es trazando sus diagonales.

🌐 Según sus ángulos reciben el nombre de:

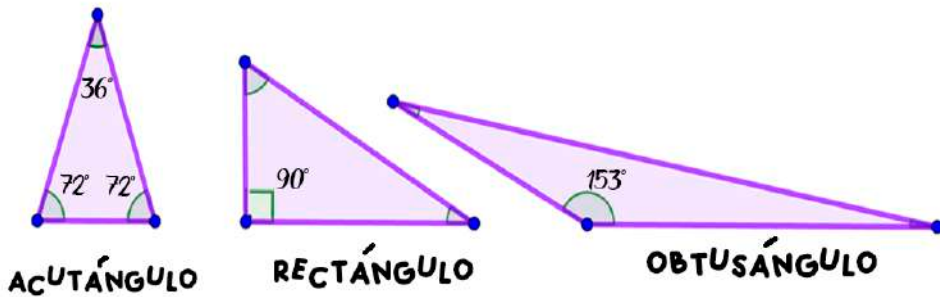


Figura 2.2. Representación gráfica.

- 🔺 **Triángulo acutángulo:** Es aquel que posee sus tres ángulos interiores menores de 90° (ángulos agudos).
- 🔺 **Triángulos rectángulos:** Es aquel que posee un ángulo interior de 90° (ángulo recto).
- 🔺 **Triángulo obtusángulo:** Es aquel que presenta un ángulo interior mayor de 90° (ángulo obtuso), y dos menores de 90° .




¡Geonota!

Llamamos “**Eje de simetría**” a la línea imaginaria que divide la figura y forma dos mitades iguales..., son iguales, pero diferentes, porque tienen orientaciones diferentes, como si una fuera el reflejo de la otra. Un polígono regular tiene tantos ejes de simetrías como lados tenga.



Propiedades de los triángulos.

- ⚠ Todos los triángulos son cíclicos o inscritos y tangenciales o circunscritos. Esta propiedad no la cumple ningún otro tipo de polígono.
- ⚠ En el triángulo, los ejes de simetría varían dependiendo de su forma, además, de ser el único tipo de polígono que no tienen diagonales. << **Comprueba**  >>

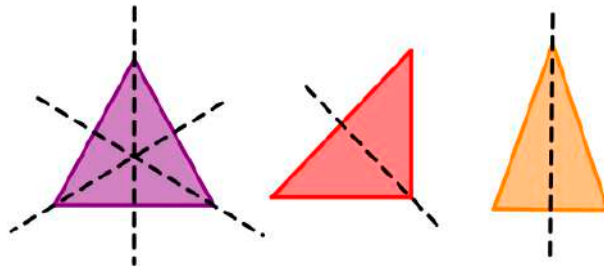



Figura 2.3. Representación gráfica. Ejes de simetrías

- ⚠ Al menos dos de los tres ángulos de un triángulo siempre serán agudos, dependiendo de cómo sea el tercer ángulo, recibirá un nombre u otro.
- ⚠ La suma de los ángulos interiores de todo triángulo siempre es 180° . << **Comprueba**  >>
- ⚠ En cualquier $\triangle ABC$, se tiene que el ángulo externo es igual a la suma de los ángulos internos no adyacentes.

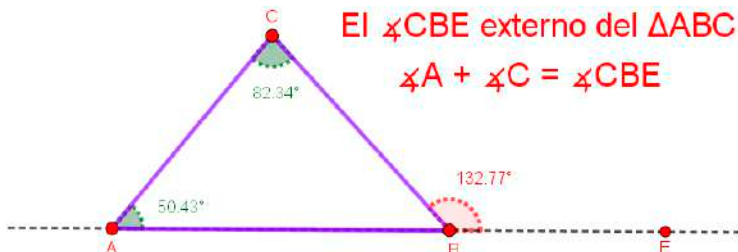


Figura 2.4. Representación gráfica.

Exploremos.

Suma de los ángulos interiores del triángulo.

Mueve los vértices y observa las medidas de los tres ángulos interiores (\hat{A} , \hat{B} y \hat{C}) del triángulo.

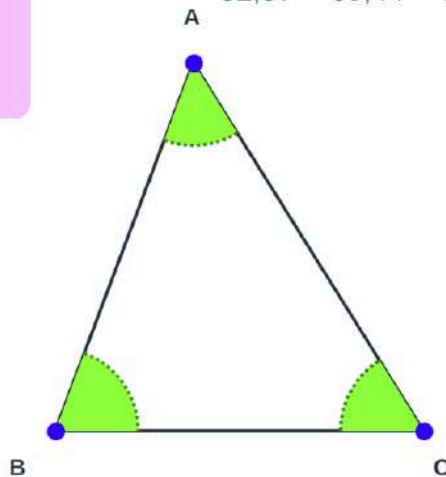
$$\angle A^\circ = 52,57^\circ$$

$$\angle B^\circ = 69,44^\circ$$

$$\angle C^\circ = 57,99^\circ$$

Suma de los ángulos internos

$$52,57^\circ + 69,44^\circ + 57,99^\circ = 180^\circ$$



¡Geonota!







Un triángulo no puede tener dos ángulos rectos (90°), ya que el tercero ángulo mediría 0° , tampoco, puede tener dos ángulos obtusos, ya que se sobrepasa la suma de los ángulos internos, como indica la propiedad.



¡Piensa! Si un $\triangle ABC$ tiene un ángulo de 76° y otro de 28° ¿Cuál es la medida del tercer ángulo? [Respuesta.](#)

Algunas precisiones de los triángulos.

Según cómo sean sus ángulos y sus lados entre sí, se puede tener:

-  Un triángulo **equilátero** siempre será **acutángulo**, ya que sus ángulos son agudos e iguales a 60° y este es único.
-  Un triángulo **isósceles** tiene 2 lados iguales y puede ser **acutángulo**, **rectángulo** o **obtusángulo** porque cumple todas las condiciones según los ángulos.
-  Un triángulo **escaleno** tiene todos sus lados diferentes y puede ser **acutángulo**, **rectángulo** o **obtusángulo** porque cumple todas las condiciones según los ángulos.
-  Un triángulo **acutángulo** que tiene solo ángulos agudos, puede ser **equilátero**, **isósceles** o **escaleno**.
-  Un triángulo **rectángulo** nunca puede ser un **equilátero**. Sí puede ser **isósceles** o **escaleno**.
-  Un triángulo **obtusángulo** nunca puede ser **equilátero**. Sí puede ser **isósceles** o **escaleno**.



¡Geonota!

Combinando los tres tipos de triángulos según sus lados y según sus ángulos, se presentan siete posibles tipos de triángulos.



¡Piensa! Sabes...

¿Cuál es la combinación de triángulos que se presentan según sus lados y ángulos? [Respuesta.](#)

Exploremos.

Posibles triángulos según sus lados y ángulos.

Mueve los vértices y observa los tipos de triángulos posibles.



$\triangle ABC$

Lados

$$a = 5.10$$

$$b = 4.12$$

$$c = 7.81$$

Escaleno

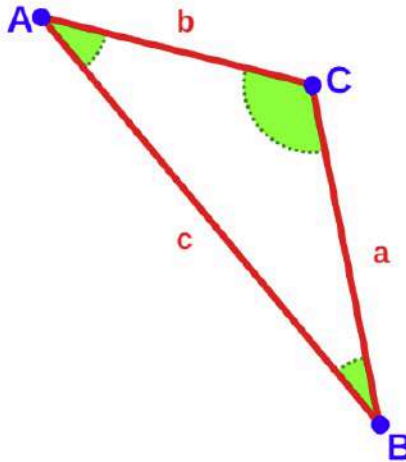
Ángulos

$$\sphericalangle A = 36.15^\circ$$

$$\sphericalangle B = 28.50^\circ$$

$$\sphericalangle C = 115.35^\circ$$

Obtusángulo



Comprueba lo aprendido respondiendo a la pregunta.



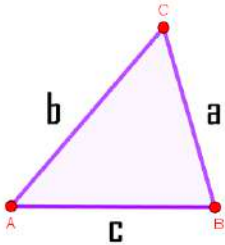
Si 2 ángulos internos de un $\triangle ABC$ son $\sphericalangle A = 171^\circ$ y $\sphericalangle B = 54^\circ$
¿Cuál es la medida del ángulo $\sphericalangle C$?

Respuesta

La desigualdad triangular, "La suma de dos de los lados del triángulo, siempre es mayor al tercer lado", veamos a continuación.

La desigualdad triangular.

Para cualquier triángulo tenemos que la suma de las longitudes de dos de sus lados es mayor que la longitud del tercer lado. Es decir, si llamamos a , b y c a las longitudes de los lados del triángulo, tenemos que las siguientes tres desigualdades se cumplen:



$$a + b > c$$

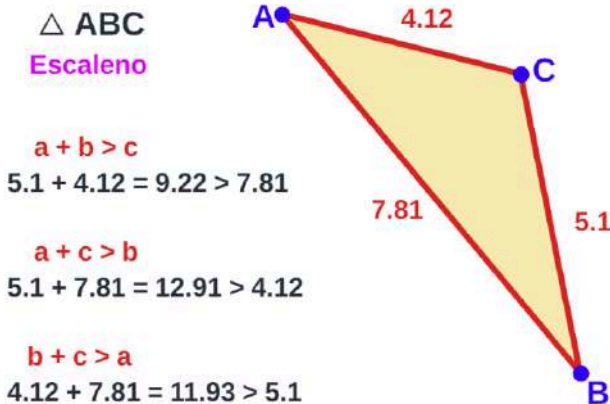
$$a + c > b$$

$$b + c > a$$

Exploremos.

Posibles triángulos según la medida de sus lados.

Mueve los vértices y observa que las desigualdades se cumplen.



En otras palabras, "Un lado cualquiera de un triángulo es menor que la suma de los otros dos".

Rectas y puntos notables del triángulo.

Las líneas notables del triángulo, tienen varias características que forman parte de un estudio amplio de la geometría, uno de los hechos notables es que por cada línea notable hay tres en el triángulo, y que estas se cortan en un solo punto.

En todo triángulo se puede trazar tres **alturas**, tres **mediatrices**, tres **medianas** y tres **bisectrices**, que se conocen como las líneas notables.



Exploremos.

Rectas y puntos notables del triángulo.



GeoGebra. Active una o más casillas de verificación para analizar el comportamiento de las líneas notables, teniendo en cuenta el tipo de triángulo.

Mostrar medida del ángulo C:
 Angulo_A = 80° Angulo_B = 60° Lado_c = 4.5

Para dibujar un triángulo cuando se tiene la medida de los tres ángulos internos, se debe conocer la medida de uno de sus lados.

Mostrar ALTURA sobre lado c:
 Mostrar ALTURA sobre lado b:
 Mostrar ALTURA sobre lado a:
 Mostrar Mediatriz sobre lado c:
 Mostrar Mediatriz sobre lado b:
 Mostrar Mediatriz sobre lado a:
 Mostrar MEDIANA sobre lado c:
 Mostrar MEDIANA sobre lado b:
 Mostrar MEDIANA sobre lado a:
 Mostrar BISECTRIZ del ángulo C:
 Mostrar BISECTRIZ del ángulo B:
 Mostrar BISECTRIZ del ángulo A:
 Mostrar RECTA DE EULER:

RECTAS Y PUNTOS NOTABLES DEL TRIÁNGULO

Triángulo ESCALENO ACUTÁNGULO

Mostrar ORTOCENTRO, punto O:
 Se ubica dentro del triángulo.

Mostrar CIRCUNCENTRO, punto Cc:

Mostrar BARICENTRO, punto G:





Mostrar INCENTRO, punto I:

Mostrar medidas de los lados:

Reiniciar

Escena en GeoGebra, Autor Profe Domingo Hely Perez con licencia [CC by-nc-sa](https://creativecommons.org/licenses/by-nc-sa/4.0/)

Definamos cada línea notable y sus puntos de corte:

-  **Altura** de un triángulo es el segmento de recta perpendicular trazado desde un vértice al lado opuesto o a su prolongación. **Ortocentro** es el punto de intersección de las tres alturas.
-  **Mediatriz** de un triángulo es la perpendicular trazada por el punto medio de cada lado del triángulo. **Circuncentro** es el punto de intersección de las tres mediatrices.
-  **Mediana** de un triángulo es el segmento de recta que une el punto medio de cada lado con el vértice opuesto. **Baricentro** es el punto de corte de las tres medianas.
-  **Bisectriz** de un ángulo interior de un triángulo es la recta que pasa por el vértice del ángulo y divide al ángulo en dos ángulos iguales. **Incentro** es el punto de intersección de las tres bisectrices.



¡Geonota!

Existe una recta, llamada la **Recta de EULER**, esta recta pasa por el ortocentro, el circuncentro y el baricentro. Por el incentro sólo se alinea la recta en los triángulos isósceles.



Comprueba lo aprendido respondiendo a la pregunta.



Verdadero o falso. Todas las medianas son perpendiculares en el punto medio de cada lado.



Respuesta

Un caso particular es el **triángulo equilátero**, por tener todos sus lados y ángulos iguales, esto permite clasificar al triángulo equilátero dentro de los polígonos regulares.

Las líneas notables, coinciden sobre una misma recta trazada, esto quiere decir, que, si se traza una línea notable cualquiera, esta es a su vez, altura, mediatriz, bisectriz y mediana.

Además, los puntos notables, ortocentro, baricentro, circuncentro e incentro, coinciden en un mismo punto.



Ejercicio 2.1.

¿Identificas las líneas notables del triángulo?

Arrastra el punto de color de la columna izquierda a la columna derecha, para finalizar oprime el botón verificar.

Conecta la columna izquierda con las expresiones correctas de la columna derecha


<div style="border: 1px solid gray; padding: 5px; margin-bottom: 5px;">Circunferencia que pasa por todos los vértices. ■</div>	<div style="border: 1px solid gray; padding: 5px; margin-bottom: 5px;">Ortcentro ■</div>
<div style="border: 1px solid gray; padding: 5px; margin-bottom: 5px;">Punto donde se cortan las alturas. ●</div>	<div style="border: 1px solid gray; padding: 5px; margin-bottom: 5px;">Ortcentro ■</div>
<div style="border: 1px solid gray; padding: 5px; margin-bottom: 5px;">Punto donde se cortan las medianas. ■</div>	<div style="border: 1px solid gray; padding: 5px; margin-bottom: 5px;">Circuncentro ■</div>
<div style="border: 1px solid gray; padding: 5px; margin-bottom: 5px;">Punto donde se cortan las mediatrices. ■</div>	<div style="border: 1px solid gray; padding: 5px; margin-bottom: 5px;">Medicentro ■</div>
<div style="border: 1px solid gray; padding: 5px; margin-bottom: 5px;">Punto donde se cortan las bisectrices. ■</div>	<div style="border: 1px solid gray; padding: 5px; margin-bottom: 5px;">Circunscrita ■</div>
	<div style="border: 1px solid gray; padding: 5px; margin-bottom: 5px;">Bariocentro ■</div>
	<div style="border: 1px solid gray; padding: 5px; margin-bottom: 5px;">Incentro ■</div>
	<div style="border: 1px solid gray; padding: 5px; margin-bottom: 5px;">Baricentro ■</div>

1/0

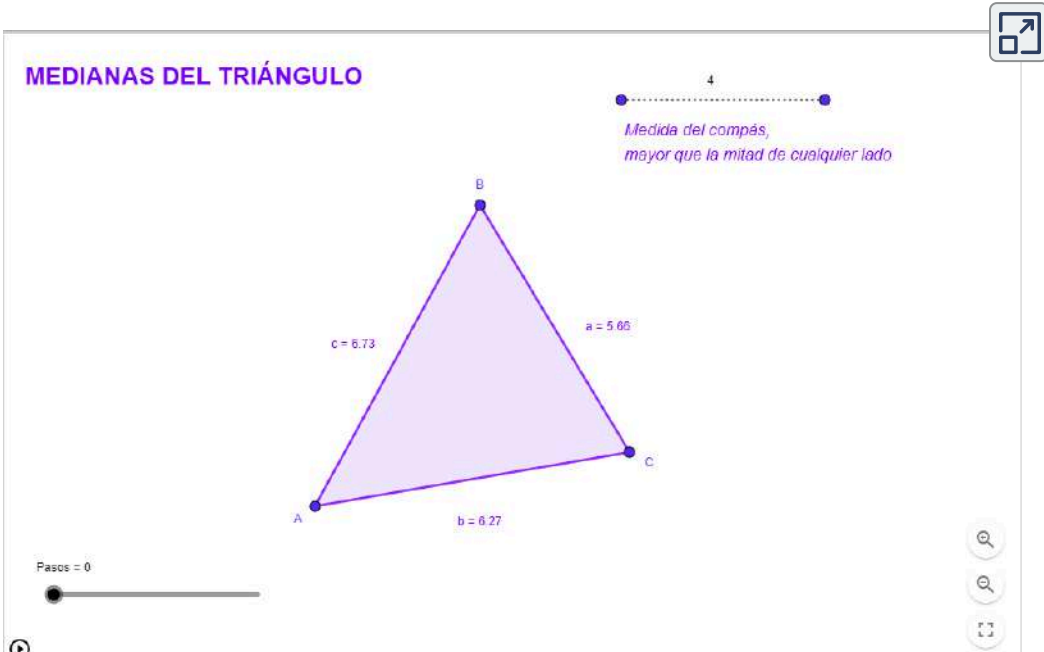
Exploremos.

Construcción. Medianas de un triángulo.



GeoGebra. Para ver la animación oprime el botón . Mueve el control para ver paso a paso la construcción.

MEDIANAS DEL TRIÁNGULO



4

*Medida del compás,
mayor que la mitad de cualquier lado*

B

c = 6.73 a = 5.65

A C

b = 6.27

Pasos = 0



¡Geonota!

Por “**construcciones geométricas**” se suele entender la geometría que se puede construir con regla y compás.



**Construcciones
geométricas.**

[Descargar para imprimir](#)



2.3 Los Cuadriláteros

Siguiendo el orden de los polígonos, deberíamos decir **Tetrágonos**, pero siguiendo el mismo razonamiento, y sabiendo que todos los polígonos simples tienen el mismo número de lados que de vértices o de ángulos interiores, los llamaremos **Cuadriláteros**.



¡Geonota!

Según la geometría planteada por Euclides, los cuadriláteros son polígonos que tienen cuatro vértices y cuatro lados.



Si definimos los cuadriláteros, podemos decir, que es un polígono de cuatro lados, dependiendo de sus ángulos interiores puede ser convexo o no convexo (posee un ángulo interior mayor de 180°).

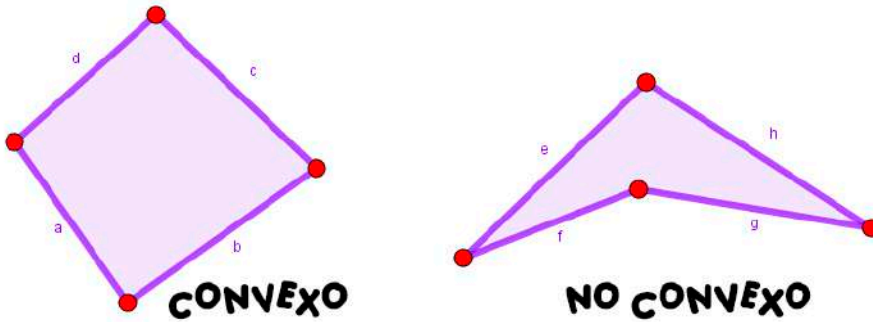


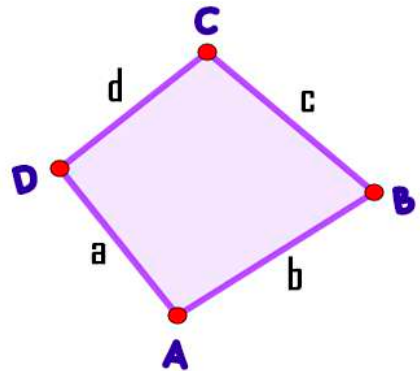
Figura 2.5. Representación gráfica.

Todos los cuadriláteros tienen cuatro lados, cuatro ángulos interiores, cuatro ángulos exteriores, cuatro vértices y dos diagonales (segmentos que unen los vértices opuestos).

Propiedades y características de los cuadriláteros.

📏 Todo cuadrilátero tienen 4 lados, 4 vértices y 4 ángulos internos o externos.

📏 Todo cuadrilátero tienen 2 diagonales. Si es convexo, ambas son interiores. Si es cóncavo, una es exterior y la otra interior.



📏 Las diagonales de un cuadrilátero convexo se cortan.

📏 Todo cuadrilátero convexo puede formarse como la unión de dos triángulos, con una de las diagonales lado común.

📏 Si hay un segmento por la intersección de las diagonales de un cuadrilátero y une dos lados opuestos, determina dos cuadriláteros con un lado común.

📏 Uniendo dos triángulos cualesquiera que tengan un lado igual, por dicho lado, se obtiene un cuadrilátero.

📏 En los cuadriláteros convexos, todos los ángulos interiores son menores de 180° . Si es cóncavo, tiene un ángulo interior mayor de 180° .

📏 La suma de los ángulos internos de un cuadrilátero convexo es 360° :

$$\hat{A} + \hat{B} + \hat{C} + \hat{D} = 360^\circ$$

📏 Si un cuadrilátero está circunscrito, la suma de sus lados opuestos son iguales:

$$\overline{AB} + \overline{CD} = \overline{BC} + \overline{DA}$$

- ✚ Si un cuadrilátero está inscrito en una circunferencia, la suma de sus ángulos opuestos es igual a 180° .
- ✚ En un cuadrilátero $ABCD$ inscrito, \overline{AB} es su diámetro, entonces las proyecciones de sus lados \overline{AD} y \overline{BC} sobre la recta \overline{CD} son iguales.



¡Geonota!

Las siguientes propiedades se mencionan cuadriláteros especiales como el cuadrado, el rectángulo, entre otros, estos serán más detallados y trabajados en la sección siguiente.



- ✚ En los cuadriláteros cíclicos (cuadrado, rectángulo, algunos trapecios y los trapezoides deltoides) los ángulos opuestos son suplementarios (entre los dos suman 180°).
- ✚ Si se unen con cuatro segmentos los puntos medios de todos los lados de un cuadrilátero, entonces dichos segmentos forman un paralelogramo.
- ✚ Los únicos cuadriláteros que puede ser cóncavos son los trapezoides



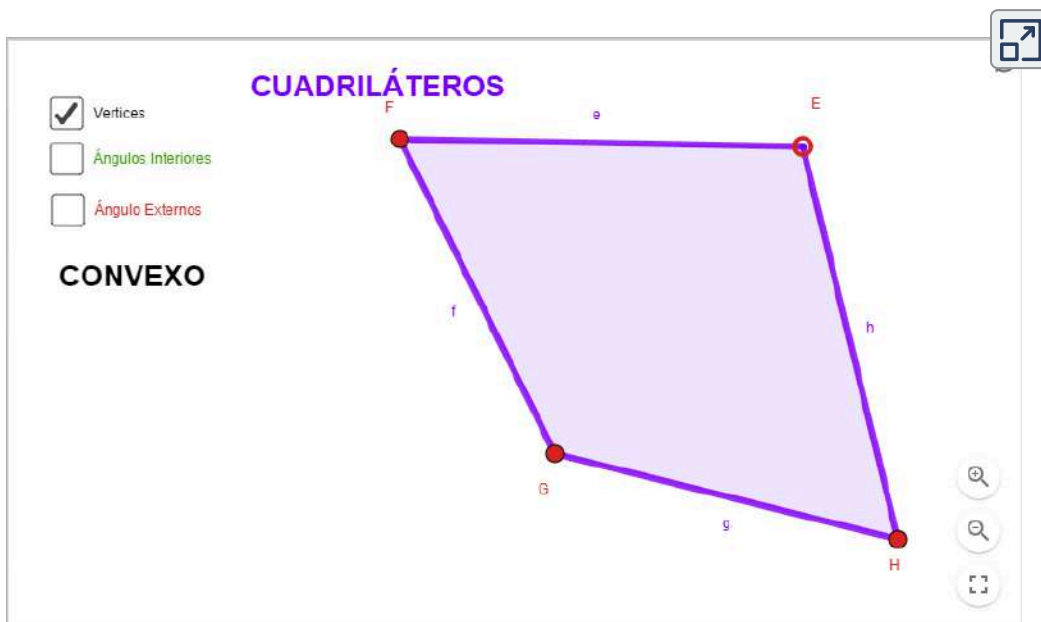
¡Piensa! Si dos ángulos internos de un cuadrilátero son rectos y un tercero es de 76° , ¿Cuál es la medida del cuarto ángulo del cuadrilátero? [Respuesta.](#)

Exploremos.

Cuadrilátero convexo o no convexo.



GeoGebra. Escena interactiva, active una o más casillas de verificación para analizar los elementos del cuadrilátero, mueve el vértice E y observa los cambios.



Los cuadriláteros varían en su forma diferenciándose varios tipos y figuras que se pueden clasificar según:

- 🌐 La medida de los ángulos interiores.
- 🌐 El paralelismo entre los lados.
- 🌐 La longitud de los lados.

La forma más representativa de clasificar los diferentes tipos de cuadriláteros en general, y teniendo en particular los cuadriláteros convexos, es de acuerdo al paralelismo de sus lados.

2.4 Cuadriláteros especiales.

Los cuadriláteros se clasifican en tres grupos, **Paralelogramos**, **Trapezios** y **Trapezoides**, según las medidas de lados y su paralelismo, además, de sus ángulos, al igual que en los triángulos. Veamos características representativas de cada grupo:

PARALELOGRAMOS

Son los cuadriláteros que tienen los lados opuestos paralelos e iguales. Además, todos los paralelogramos cumplen las siguientes propiedades:

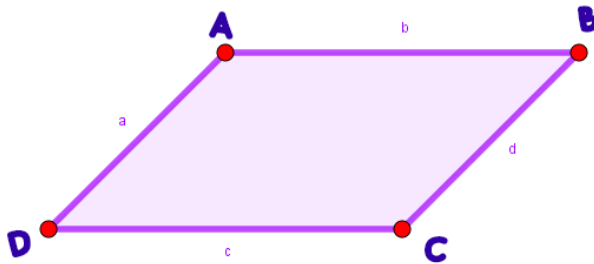





Figura 2.6. Representación gráfica.

-  Los ángulos opuestos son iguales.
-  Los lados opuestos tienen la misma longitud (medida).
-  Las diagonales se cortan en su punto medio.



¡Geonota!

En los **paralelogramos**, dos lados consecutivos siempre miden lo mismo que los otros dos, y dos ángulos consecutivos son suplementarios, miden 180° .

Los paralelogramos se dividen en cuatro tipos:

Cuadrados, Rectángulos, Rombos y Romboides.

Exploremos.

El cuadrado y sus características.



GeoGebra. Active una o más casillas de verificación para analizar las características del cuadrado.

EL CUADRADO

- Vértices
- Ángulos - Lados (Longitudes)
- Diagonales
- Circunferencia Circunscrita
- Circunferencia Inscrita
- Triángulos Rectángulos Isosceles

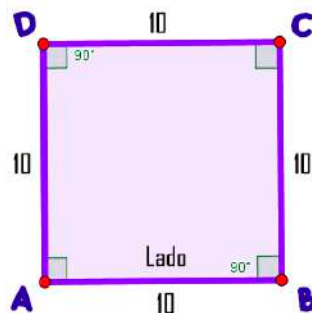


Sus 4 lados son iguales:

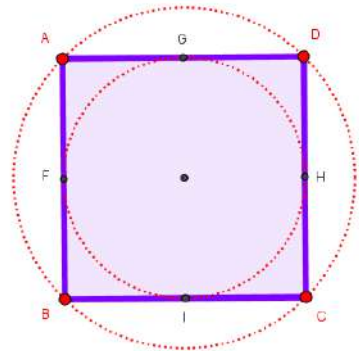
$$\overline{AB} = \overline{BC} = \overline{CD} = \overline{DA}$$

Sus ángulos son iguales:

$$\hat{A} = \hat{B} = \hat{C} = \hat{D} = 90^\circ$$



- ✚ Sus diagonales son iguales y perpendiculares entre sí, se cortan formando ángulos de 90° .
- ✚ Una de las diagonales divide al cuadrado en 2 triángulos rectángulos isósceles iguales. Si se trazan las 2 diagonales se obtienen 4 triángulos rectángulos isósceles iguales.
- ✚ Las diagonales se cortan en su punto medio, es decir, cada una corta en su punto medio a la otra formando ángulos de 90° , además, forman con los lados ángulos de 45° , por lo que al mismo tiempo, son bisectrices de los ángulos del cuadrado. El punto de corte de las diagonales es el centro del cuadrado.
- ✚ Por tener lados y ángulos iguales corresponde a un polígono regular, por lo tanto, tiene circunferencia circunscrita e inscrita, siendo su centro el centro del cuadrado.
- ✚ La altura del cuadrado coincide con la medida del lado.
- ✚ Posee cuatro ejes de simetría.



Comprueba lo aprendido respondiendo a la pregunta.



Un cuadrilátero ABCD tiene los ángulos internos $\sphericalangle A = 3^\circ$, $\sphericalangle B = 78^\circ$ y $\sphericalangle C = 133^\circ$ ¿Cuál es la medida del ángulo $\sphericalangle D$?



Respuesta

Exploremos.

El rectángulo y sus características.



GeoGebra. Active una o más casillas de verificación para analizar las características del cuadrado.

EL RECTÁNGULO

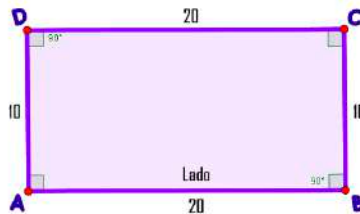
- Ángulos - Lados (Longitudes)
- Vertices
- Diagonales
- Ejes de Simetría
- Circunferencia Circunscrita
- Triangulos Rectángulos

Sus lados opuestos son paralelos e iguales:

$$\overline{AB} = \overline{DC} \parallel \overline{CB} = \overline{DA}$$

Sus ángulos son iguales:

$$\hat{A} = \hat{B} = \hat{C} = \hat{D} = 90^\circ$$



- ✚ Sus lados no consecutivos son iguales dos a dos.
- ✚ Todos sus ángulos son iguales a 90° , por tanto, es equiángulo.
- ✚ Sus diagonales son iguales y secantes (oblicuas) entre sí y lo dividen en 2 triángulos rectángulos escalenos o en 4 triángulos isósceles (2 acutángulos y 2 obtusángulos).
- ✚ Las diagonales pueden formar cualquier ángulo, excepto de 90° , es decir, no pueden ser perpendiculares entre sí; si lo fuesen no sería un rectángulo sino un cuadrado. Se cortan en su punto medio, es decir, cada una corta en su punto medio a la otra. El punto de corte de las diagonales es el centro del rectángulo
- ✚ Tiene circunferencia circunscrita, siendo su centro el centro del rectángulo. No tiene circunferencia inscrita, ya que esta no es tangente a todos los lados del polígono.

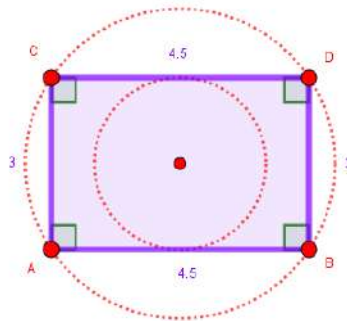


Figura 2.7. Circunferencia inscrita y circunscrita.

- ✚ La altura del rectángulo coincide con uno de sus lados, según su posición.
- ✚ Tiene dos ejes de simetría.



¡Piensa! ¿El cuadrado será un rectángulo? o ¿El rectángulo será un cuadrado? [Respuesta.](#)

El Rombo.

Paralelogramo que tiene sus lados iguales y sus ángulos diferentes de 90° .

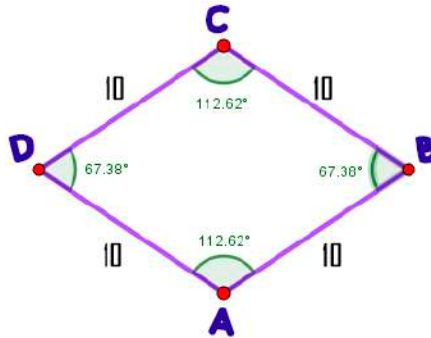
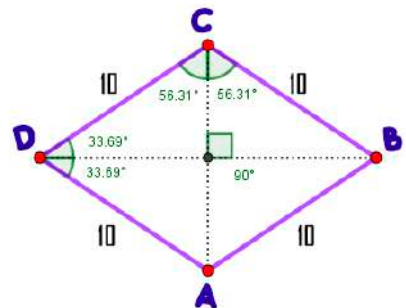



Figura 2.8. Representación gráfica del rombo.

- 📏 Lados iguales: $\overline{AB} = \overline{BC} = \overline{CD} = \overline{DA}$
- 📏 Sus ángulos opuestos son iguales dos a dos, posee dos ángulos obtusos y dos ángulos agudos:

$$\hat{A} = \hat{C} \quad \text{y} \quad \hat{B} = \hat{D}$$

- 📏 Las diagonales se cortan formando ángulos de 90° , son perpendiculares entre sí.
- 📏 Sus diagonales son de diferente longitud, se denominan diagonal mayor y diagonal menor.
- 📏 Si se trazan las 2 diagonales se obtienen 4 triángulos rectángulos iguales. Una de las diagonales divide al cuadrado en 2 triángulos isósceles acutángulos u obtusángulos.



- Las diagonales se cortan en su punto medio, es decir, cada una corta en su punto medio a la otra formando ángulos de 90° , además, son bisectrices de cada uno de los ángulos del rombo. El punto de corte de las diagonales es el centro del rombo.
- Tiene circunferencia inscrita  y su centro es el centro del rombo, pero no tiene circunferencia circunscrita ya que no pasa por los vértices del rombo.
- Por ser lados paralelos opuestos se presenta que dos ángulos contiguos siempre suman 180° , por ejemplo,

$$\hat{A} + \hat{B} = 180^\circ$$

- Tiene dos ejes de simetría y estos, corresponden a las mismas diagonales.



¡Geonota!

No se debe confundir las figuras geométricas por su ubicación o forma en la que estén, ya que a la figura la definen sus características, no cómo se encuentre situada.



¡Piensa! ¿El cuadrado será un rombo? o ¿El rombo será un cuadrado? [Respuesta.](#)

El Romboide.

Es el paralelogramo que tiene sus lados iguales dos a dos y sus ángulos distintos de 90° .




Figura 2.9. Representación gráfica del romboide.

- ✚ Sus lados opuestos son paralelos e iguales:

$$\overline{AB} = \overline{DC} \quad \parallel \quad \overline{BC} = \overline{AD}$$

Sus ángulos opuestos son iguales:

$$\hat{A} = \hat{C} \quad \hat{B} = \hat{D}$$

- ✚ las diagonales se cortan en su punto medio, estas son de diferente longitud, se denominan diagonal mayor y diagonal menor.
- ✚ El punto de corte de las diagonales es el centro del romboide.
- ✚ Las diagonales son de  diferente longitud y pueden formar cualquier ángulo excepto 90° , ya que entonces sería un rombo.

- ✚ Sus dos diagonales son oblicuas entre sí y lo dividen en 4 triángulos escalenos (2 acutángulos y 2 obtusángulos).
- ✚ Si se traza la diagonal mayor, se forman dos triángulos obtusángulos, si se traza la diagonal menor, se forman dos triángulos acutángulos.



Figura 2.10. Representación gráfica.

- ✚ No es posible hacer una circunferencia que sea tangente a los cuatro lados o que pase por los cuatro vértices.
- ✚ Por ser lados paralelos opuestos se presenta que dos ángulos contiguos siempre suman 180° , por ejemplo,

$$\hat{A} + \hat{B} = 180^\circ$$

- ✚ La altura es la distancia entre lados opuestos, según su posición puede tomarse como base un lado u otro, como en el rectángulo. No se debe confundir la altura con el lado, como sucede en el rectángulo.
- ✚ No tiene ejes de simetría.

Ejercicio 2.2.

 Propiedades de los cuadriláteros.

Desplaza las afirmaciones a la derecha si las considera ciertas o a la izquierda si no lo son, para finalizar oprime el botón verificar.

Arrastra hacia la derecha las afirmaciones que son correctas y hacia la izquierda las que no lo son

No todos los rombos son cuadrados porque no siempre tienen todos sus ángulos de 90° .

Los rectángulos también son paralelogramos porque tienen sus lados opuestos paralelos.

Ningún rectángulo es un cuadrado.

los cuadrados también son rectángulos pues tienen todos sus ángulos iguales.



Comprueba lo aprendido respondiendo a la pregunta.



16° , 144° , 141° y 59° son los ángulos internos de un cuadrilátero. ¿El cuadrilátero es concavo o convexo ?




Respuesta

TRAPECIOS

Los trapecios son cuadriláteros que tienen dos lados paralelos no consecutivos y de diferente longitud, o sea, dos lados, uno frente al otro, paralelos, y los otros dos no paralelos.




Figura 2.11. Representación gráfica.

-  Los lados paralelos se consideran las bases del trapecio y se denominan base mayor y base menor.
-  Como todos los cuadriláteros, tiene dos diagonales, y la suma de sus ángulos internos es siempre igual a 360° .
-  Podemos distinguir varios tipos de trapecios según la relación entre sus lados y sus ángulos.



¡Geonota!

La suma entre un ángulo interno y el ángulo externo adyacente a él es siempre igual a 180° . Esta propiedad se mantiene para cualquier polígono, por lo que es válida para los trapecios.



Un trapecio puede clasificarse como **trapecio rectángulo**, **trapecio isósceles** y **trapecio escaleno**, características que dependerán de sus ángulos.

El Trapecio Isósceles.

Es el trapecio que tiene los ángulos de la base iguales dos a dos, además, los lados no paralelos son de igual longitud. Se puede relacionar con el triángulo isósceles, cortándolo con una paralela a la base.

Exploremos.

El trapecio isósceles y sus características.



GeoGebra. Active una o más casillas de verificación para analizar las características del trapecio isósceles.

TRAPECIO ISÓSCELES

- Ángulos dos a dos
- Diagonales
- Altura del Trapecio
- Circunferencia Circunscrita
- Relación Δ Isósceles

El Trapecio Rectángulo.

Es el trapecio que tiene dos ángulos de 90° . Se puede relacionar con el triángulo rectángulo, cortándolo con una paralela a la base.

Exploremos.

El trapecio rectángulo y sus características.



GeoGebra. Active una o más casillas de verificación para analizar las características del trapecio rectángulo.

TRAPECIO RECTÁNGULO

- Ángulos
- Diagonales
- Relación Δ Rectángulo

Diagram illustrating a right trapezoid with vertices G, H, I, and C. The top base is GH, the bottom base is CI, and the right side HI is vertical. A right angle symbol is shown at vertex I. The vertical side HI is labeled "Altura".

- En el trapecio rectángulo, los dos lados no paralelos pueden ser iguales o desiguales.
- La altura del trapecio es la distancia entre las bases, sin importar la posición que tenga el trapecio.
- No tiene circunferencias ni inscrita ni circunscrita.

El Trapecio Escaleno.

Es el trapecio sin ninguna característica especial de ángulos. Se puede relacionar con el triángulo escaleno, cortándolo con una paralela a la base. Tiene todos los lados distintos

Exploremos.

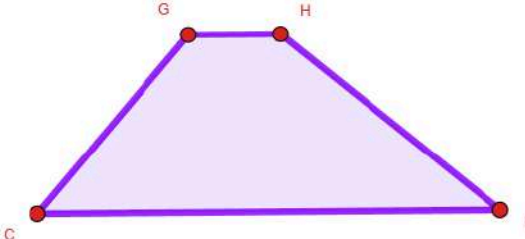
El trapecio rectángulo y sus características.



GeoGebra. Active una o más casillas de verificación para analizar las características del trapecio rectángulo.

TRAPECIO ESCALENO

Ángulos
 Diagonales
 Relación Δ Escaleno



- Sus diagonales son de diferente longitud y pueden formar cualquier ángulo.
- La altura, como en todos, es la distancia entre las bases.
- No puede tener circunferencia circunscrita, pero podría tener inscrita, según sean las dimensiones.



El trapezoide, también conocido como un cuadrilátero general, es un polígono irregular de cuatro lados, es decir, un cuadrilátero, cuyos lados no son paralelos. Por lo tanto, un trapezoide se define por lo que no tiene de los otros, aunque puede tener alguna característica aislada.




Se pueden distinguir dos tipos de trapezoides:

Trapezoides Simétricos.

Los trapezoides simétricos, son llamados también ***Deltoides*** o ***Cometas***, tienen un eje de simetría y sus lados consecutivos son iguales dos a dos.



Figura 2.12. Representación gráfica.

-  Si son convexos, se conocen como punta de lanza, pero si son cóncavos se conocen como punta de flecha, por sus semejanzas.
-  Los trapezoides simétricos, tienen un eje de simetría. Esto significa que, si partimos la figura, tendremos lo mismo, pero, al contrario.
-  Sus diagonales son perpendiculares, se cortan formando ángulos de 90° .

Trapezoides Asimétricos.

Los trapezoides asimétricos son escalenos, o sea, todos sus lados son distintos.







Figura 2.13. Representación gráfica.

No tienen lados paralelos y ninguna regularidad geométrica.

Cabe destacar también que existen los trapezoides cruzados, que son los trapezoides asimétricos (complejos) en los que dos de sus lados se cruzan. Estos tienen sus dos diagonales exteriores.

En general, los trapezoides:

- 
 Los lados, no pueden ser paralelos, aunque podrían ser dos o tres lados iguales, incluso ser dos iguales y los otros dos también entre sí.
- 
 Los ángulos, podrían tener dos ángulos iguales, pero los otros dos no, y no pueden ser rectos. Podría tener un ángulo de 90° .
- 
 Las diagonales, podrían formar ángulos de 90° y ser iguales, pero sin cortarse por el punto medio.
- 
 Pueden tener o no circunferencias inscrita y circunscrita, una sola de ellas o ambas. No podemos definir la altura de un trapecoide.



¡Geonota!

Los trapezoides se pueden mezclar entre sí, es decir, un trapezoide puede ser cóncavo y simétrico, por ejemplo, pero no puede ser cóncavo y convexo a la vez, ni simétrico y asimétrico al mismo tiempo.



Ejercicio 2.3.


Identifiquemos propiedades de los cuadriláteros.

Actividad. Arrastra al recuadro violeta los cuadriláteros que cumplen la condición indicada.



Arrastra al recuadro blanco los cuadriláteros que cumplen la condición indicada.

Condición
Todos los lados iguales



Ejercicio 2.4.

Problemas. Calcular área y perímetro.

Lea detenidamente el problema, realice los cálculos con su debido procedimiento. Para actualizar otros valores oprime el botón.



07

El Mundo de la Geometría

Libro interactivo. Autor: Carlos Alberto Rojas Hincapié

Nombres y Apellidos:

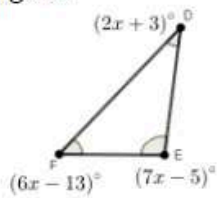
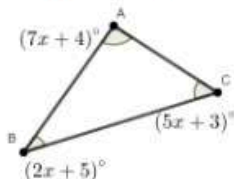
Ingresa tu nombre



PROBLEMAS

El triángulo y los cuadriláteros.

1. ¿Será posible? Construir un triángulo cuyos lados sean $a = 7$ cm y $b = 8$ cm y el ángulo comprendido entre ellos $C = 80^\circ$. justifique su respuesta.
2. Dibuja un triángulo rectángulo con un ángulo agudo de 42° . Dibuja la circunferencia inscrita.
3. Hallar el valor de la x y encuentra la medida de los ángulos internos de cada triángulo:



4. Dibuja un triángulo obtusángulo y las tres alturas. Señala el ortocentro.

2.5 La Circunferencia

La **Circunferencia**, es una de las figuras geométricas básicas y una pieza fundamental en el mundo que nos rodea, y es a partir de ella que se construyen o generan otras figuras. Es la única figura que no tiene ninguna línea recta, ¡las circunferencias se encuentran en todos lados!



¡Geonota!



Una **circunferencia** es una línea curva cerrada en la que todos sus puntos están a la misma distancia de otro llamado centro. En otras palabras, cualquier punto de la circunferencia es equidistante de su centro.

Al ser la circunferencia una línea, esta tiene una sola dimensión, su longitud. La línea curva cerrada que forma su contorno, mide algo más del triple que su diámetro. A esta relación se estableció con el nombre de **número pi** (π)

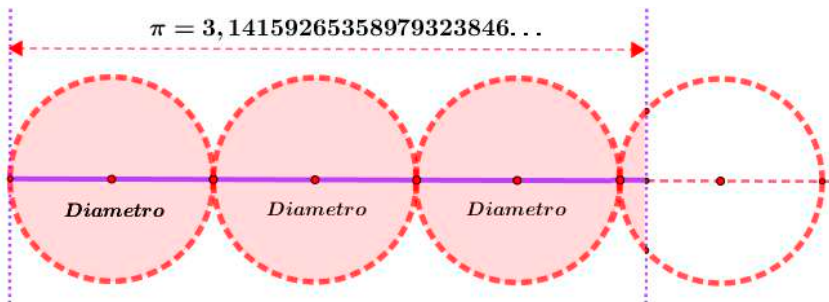

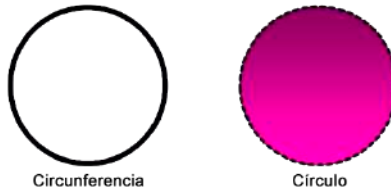




Figura 2.14. Representación gráfica del número pi (π).

No debemos confundir el concepto de círculo con el concepto de circunferencia,  que en realidad una circunferencia es la curva que encierra a un círculo (la circunferencia es una curva, el círculo una superficie).



Propiedades de la circunferencia.

La circunferencia tiene unas propiedades geométricas muy especiales, además, está muy relacionada con otros tipos de líneas curvas como: elipses, óvalos, parábolas, hipérbolas, entre otras.

-  La circunferencia tiene infinitos ejes de simetría, es la línea cerrada más simétrica que existe.
-  Los polígonos regulares están inscritos en una circunferencia, toca todos sus vértices, o están circunscritos en su interior con una circunferencia que toca el punto medio de cada uno de sus lados.

Elementos de la circunferencia.

En toda circunferencia encontramos los siguientes elementos:




Exploremos.


La circunferencia y sus elementos.




GeoGebra. Active una o más casillas de verificación para analizar los elementos de la circunferencia.







 **Centro**, el punto interior equidistante de todos los puntos de la circunferencia.

 **Radio** (r), el segmento que une el centro con un punto de la circunferencia.

 **Diámetro** (d), el mayor segmento que une dos puntos de la circunferencia, y pasa por el centro, equivale al doble del radio ($d = 2r$).



-  **Cuerda**, el segmento que va desde un punto a otro de la circunferencia, pero sin pasar por el centro. La cuerda de mayor tamaño es el diámetro y pasa por el centro.
-  **Arco**, el trozo de circunferencia que está entre dos puntos. Estos puntos los puede originar una cuerda, dos radios, u otros elementos.
-  **Recta secante**, toda recta que pasa por dos puntos de la circunferencia. La diferencia con la cuerda, es que una secante tiene sus extremos prolongados.
-  **Recta tangente**, recta que toca a la circunferencia en un sólo punto. Tiene la propiedad de ser perpendicular al radio trazado hacia el punto de tangencia.



¡Geonota!



El **círculo** es una figura geométrica delimitada por una circunferencia, por lo tanto, el círculo es el área que contiene la circunferencia.



Comprueba lo aprendido respondiendo a la pregunta.



El radio r_1 de un círculo es 6 veces el radio r_2 de otro, cuya medida $r_2 = 46$ cm. ¿Cuál es la diámetro de los círculos?



Respuesta

2.6 Evaluemos lo aprendido

Ejercicio práctico.

Prepárate para la evaluación y mide tus conocimientos de lo aprendido en este capítulo, responde las preguntas a continuación:



preguntas

Comenzar



Tomada de la Red Educativa Digital Descartes - [Plantillas con Descartes-JS](#)





**Actividad
complementaria.**

[Descargar para imprimir](#)





 **Evaluación. 10 preguntas con límite de tiempo (Máx. 5 minutos)**
Clic en el link, responde y envía tus respuestas por correo.



Capítulo II: Formas Geométricas.

Evalúa lo aprendido y envía resultados a tu profesor(a).



[Clic aquí.](#)

Evaluación:
Capítulo II



Tomada de la Red Educativa Digital Descartes.

[4] Plantillas con Descartes-JS



Capítulo III

Área y perímetro

“Sentir no es otra cosa que pensar”.

R. Descartes



3.1 ¿Todo se puede medir?

Para iniciar, reconozcamos cuáles son algunos atributos medibles de diferentes figuras, objetos y comprender que la medición conlleva a un proceso de comparación con una unidad establecida.

- 🌐 Medir implica comparar un atributo de un objeto con una unidad de referencia.
- 🌐 No todos los atributos son comparables.
- 🌐 Por qué es necesaria una unidad de medida establecida.

Usemos algún objeto que se pueda utilizar para tomar medidas, tales como: palos de diferentes longitudes, cuerdas, lápices, cartones, entre otros.

Exploremos.
! Medir objetos con diferente material.

Utilice diferente material para registrar medidas, complete la tabla.

Instrumento	Unidad de medida	Medida
Palo	Longitud del palo	3 Longitudes del palo
Cuerda	<input type="text"/>	<input type="text"/>
Lápiz	<input type="text"/>	<input type="text"/>
Clip	<input type="text"/>	<input type="text"/>



¡Piensa! ¿Con qué y cómo medimos? ¿Qué obtuvimos?



¡Geonota!

Cuando se comparan diferentes mediciones con objetos diferentes, surge la necesidad de establecer o fijar una unidad de medida.



¡Piensa! A partir de las siguientes figuras geométricas, responde:

Mover con el mouse



1. Describan los objetos (figuras geométricas)
2. ¿Cuál es más grande?
3. ¿Cuál es más bonito?
4. ¿Cuál es más largo?
5. ¿Cuál es más útil?

¿Existen atributos medibles y no medibles?

Cuando hablamos de **atributos medibles** nos referimos a las características de los objetos que pueden ser medidos, esto incluye longitud, altura, peso, masa, área o volumen.


Cuando **comparamos** dos objetos con **atributos medibles** tenemos que detectar qué objetos tienen más o menos del atributo que se compara.



¡Piensa! ¿Todos los atributos son comparables entre sí?,
¿Todos los atributos se pueden medir con el mismo instrumento?

En conclusión, podemos decir que:

- 🌐 Debemos asociar un instrumento de medida con el atributo que se desea medir.
- 🌐 Que medir implica comparar un atributo de un objeto con una unidad de referencia.
- 🌐 Que no todos los atributos son comparables entre sí.
- 🌐 Que es necesario establecer una unidad de medida.
- 🌐 Identifica atributos que se pueden medir en los objetos.
- 🌐 Diferencia atributos medibles (longitud, peso, capacidad, duración, cantidad de elementos de una colección, volumen, área o superficies), en términos de los instrumentos y las unidades utilizadas para medirlos.

 Existen muchos atributos medibles en un mismo objeto, cada uno de estos atributos tiene sus respectivas unidades e instrumentos de medición.

Esto nos conlleva a conocer e identificar las unidades de medida, entre ellas estudiaremos: las unidades que miden longitudes y áreas, las cuales se analizarán en la sección siguiente.



¡Geonota!

El primer paso que nos lleva al concepto de la medición:

"Los atributos medibles nos permiten comparar objetos o situaciones entre sí."



3.2 Unidades de medida

Es muy común que ocurra una confusión entre algunos conceptos, entonces, para no cometer este error, veamos las definiciones.

¿Qué se entiende por magnitud?

Magnitud es toda aquella propiedad o cualidad que se puede medir, por ejemplo, magnitudes como peso, masa, longitud, velocidad, tiempo, temperatura, presión, fuerza, área. Sin embargo, cada magnitud puede medirse en distintas unidades de medición que resultan comparables entre sí.



Figura 3.1. Ejemplos de magnitudes.

¿Que se entiende por medir?

Medir es comparar dos magnitudes de la misma especie, donde una se toma como patrón. Se trata de determinar la cantidad de una magnitud comparada con otra que se toma como unidad.

¿Que se entiende por unidad? 

Es el patrón que escogemos para realizar las medidas que deseamos, un metro, por ejemplo.

El Sistema Internacional de Unidades (SI).

Surgió de la necesidad de unificar y dar coherencia a una gran variedad de subsistemas de unidades que dificultaban la transferencia de resultado de mediciones en la comunidad internacional. Este se convirtió en un sistema que pudiera ser adoptado por todos los países en diferentes campos como: la ciencia, la tecnología, la producción, la investigación, entre otros.

El Sistema Internacional consta de 7 unidades básicas, definidas como magnitudes fundamentales, a partir de las cuales se definen las demás.

En este sistema, se identifican *las magnitudes fundamentales* o básicas, como aquellas magnitudes que no se pueden definir en función de ninguna otra magnitud, que servirán de base para deducir las demás magnitudes, algunas de ellas son: longitud, masa, tiempo, temperatura, entre otras.

Se identifican también otros tipos de unidades, que se conocen como unidades derivadas, son magnitudes que pueden ser expresar en función de las magnitudes fundamentales.

Unidades de longitud.



La unidad fundamental para medir longitudes es el **metro** y se simboliza con la letra minúscula *m*. Algunos instrumentos para medir longitudes son: la cinta métrica, el flexómetro, la regla, entre otros.

Definición de perímetro.

El perímetro de una figura geométrica es la distancia total alrededor de la figura geométrica, se calcula al sumar las longitudes de todos los lados de la figura. Dado que el perímetro es una longitud, usamos unidades de una dimensión (unidimensionales) como metros (*m*), centímetro (*cm*), entre otras, para obtener la medida.



Debido a la naturaleza del perímetro, es posible que dos figuras que tienen diferentes formas puedan tener el mismo perímetro dependiendo de las dimensiones de sus lados. Por ejemplo, es posible formar a un círculo usando una cuerda y luego, usar la misma cuerda para formar un cuadrado.

La fórmula del perímetro es diferente para diferentes figuras geométricas dependiendo en el número de lados y de su forma.

Exploremos.

Tomemos medidas con la regla.

Mueve la regla desde sus extremos, primero uno y después el otro.



Otra figura

Regla en centímetros (cm)



Medir con la regla



0 1 2 3 4 5

Escena de Eduardo Barbero Corral adaptada por el autor, con licencia [CC by-nc-sa](https://creativecommons.org/licenses/by-nc-sa/4.0/)



¡Geonota!

La longitud de un objeto es lo que mide el segmento de recta que va desde uno de sus extremos hasta el otro extremo.

Equivalencias entre las unidades de longitud.

El **metro** es la unidad principal de la cual se derivan otras unidades más grandes, los **múltiplos** o más pequeñas, los **submúltiplos**.

Cada unidad de longitud es 10 veces mayor que la unidad inmediata inferior y 10 veces menor que la unidad inmediata superior.



Figura 3.2. Unidad principal el metro (m).

Ejemplo. ¿A cuántos centímetros equivalen 12 Kilómetros?



$$12 \text{ km} = 12 \times 10 \times 10 \times 10 \times 10 \times 10 = 1.200.000 \text{ cm}$$



Comprueba lo aprendido respondiendo a la pregunta.



¿ 56 Mam son equivalentes a cuantos dm?



Respuesta

En la actualidad se conoce otro sistema de medidas que se utiliza en algunos campos, es el **Sistema Inglés de unidades** basado en unidades no-métricas, utilizado actualmente en los Estados Unidos y en otros territorios de habla inglesa.

Exploremos.

Unidades de longitud (Sistema Internacional y Sistema Inglés).

Oprime cualquier botón con el nombre de la unidad de medida y observa su equivalencia en las demás unidades.

The screenshot shows a web application for length conversion. At the top, a purple rounded rectangle contains the title "Conversión de medidas de longitud" in white text. To the right of this rectangle is a small icon of a square with an arrow pointing outwards. Below the title, the interface is divided into two main sections: "Sistema Ingles" and "Sistema Internacional". Under "Sistema Ingles", there are four yellow buttons labeled "in", "ft", "yd", and "mi", with their Spanish equivalents "pulgadas", "pies", "yardas", and "millas" written below them. Under "Sistema Internacional", there are seven yellow buttons labeled "mm", "cm", "dm", "m", "Dm", "Hm", and "Km", with their Spanish equivalents "milímetros", "centímetros", "decímetros", "metros", "decámetros", "hectómetros", and "kilómetros" written below them. A large, empty light purple rectangular area is positioned to the right of these buttons, intended for displaying conversion results.

Hoy en día, estas unidades están siendo lentamente reemplazadas por el Sistema Internacional de Unidades, aunque en Estados Unidos la inercia del antiguo sistema y el alto costo de migración ha impedido en gran medida el cambio.

Unidades de superficie o área.



La unidad principal para medir áreas es el **metro cuadrado** y se simboliza como m^2 , es una unidad derivada del metro.

La unidad de superficie corresponde a un cuadrado que tiene de lado un metro lineal por un metro lineal.

Definición de área o superficie.

El área de una figura geométrica está definida como la región cubierta por la figura, esta es una medida en 2 dimensiones (bidimensional), por lo que se usan unidades cuadradas como m^2 o cm^2 para medirla.

La fórmula para encontrar el área depende de la forma de la figura geométrica.



Figura 3.3. Representación gráfica.



¡Piensa! Si dos figuras geométricas tienen la misma área, ¿Tendrán la misma forma y las mismas dimensiones?

[Respuesta.](#)

Equivalencias entre las unidades de superficie.

Estas medidas aumentan y disminuyen de 100 en 100, cada unidad de superficie es 100 veces mayor que la unidad inmediata inferior y 100 veces menor que la unidad inmediata superior.



Figura 3.4. Unidad principal el metro cuadrado (m^2).



¡Geonota!

Medir una superficie es hallar el área, es comparar con otra superficie elegida como unidad, calculando el número de unidades que contiene.

Ejemplo. ¿ 12 km^2 son equivalentes a cuantos cm^2 ?




$$12 \text{ km}^2 = 12 \times 100 \times 100 \times 100 \times 100 \times 100$$


$$= 120.000.000.000 \text{ cm}^2$$

Exploremos.

Conversión de unidades de superficie.


Dada una medida expresada en una unidad, convertirla a la unidad de la derecha. Ingresas el valor de la conversión, oprime "enter \leftarrow" y verifica tu respuesta. Si deseas una ayuda, oprime en ayuda.





$\text{km}^2 \quad \text{hm}^2 \quad \text{dam}^2 \quad \text{m}^2 \quad \text{dm}^2 \quad \text{cm}^2 \quad \text{mm}^2$

$56 \text{ m}^2 = 0 \text{ cm}^2$



[Ayuda](#)

3.3 Perímetro y área de figuras planas

El área y el perímetro se estudian para las líneas cerradas o figuras planas cerradas.



¡Geonota!

Las líneas poligonales son aquellas que tienen segmentos de línea recta. Si una línea es poligonal cerrada da origen a lo que conocemos como polígonos.



Figura 3.5. Representación gráfica.

El cálculo de un área o superficie de una figura plana está basado en dos conceptos básicos: la multiplicación y el concepto de cuadrado o rectángulo.

¿Cuántos cuadrados tiene la imagen?



Se puede contar y sumar los 4 cuadros de cada fila ($4 + 4 + 4 + 4$), o multiplicar las filas por las columnas (4×4). En todos los casos, obtenemos que en la figura hay 16 cuadrados.

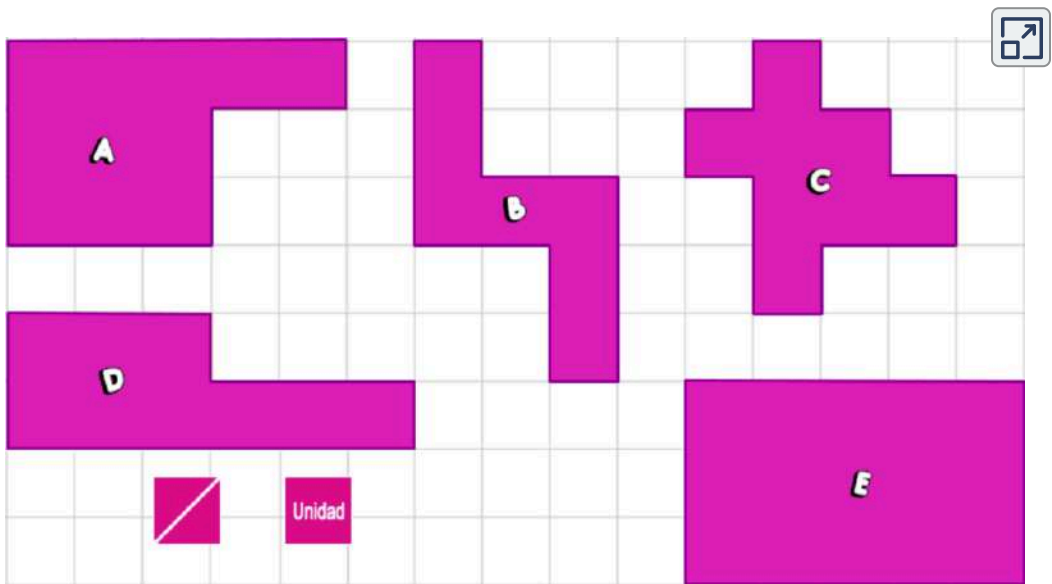
Si tomamos como **1 unidad de superficie** a cada cuadrado, obtenemos que este mide 16 unidades de superficie o unidades cuadradas, que expresamos como: $16 u^2$.

Ahora, consideremos un cuadrado de 1 cm de lado cuya área es $1 \text{ cm} \times 1 \text{ cm} = 1 \text{ cm}^2$, como referencia para encontrar el área de las figuras planas, para este caso, toda la imagen tiene 16 cuadrados, su superficie o área es de 16 cm^2 .

Exploremos.

Superficie de una figura plana.

Arrastra la unidad de medida, cuantas veces se necesite y cubra completamente la superficie a medir.



Se debe comprender que la medición directa de una superficie implica un proceso de recubrimiento con una unidad de medida dada.

Exploremos.

Superficie de una figura plana.

Arrastra la unidad de medida, cuantas veces se necesite y cubra completamente la superficie a medir. Responde a la pregunta.

The screenshot shows a software interface titled "FIGURAS GEOMÉTRICAS" with the instruction "Observa la solución para cada figura". A counter shows the number "1". The question is "¿Cuántas unidades tiene la superficie de cada figura?". Three purple shapes are shown: A (a house-like shape), B (a triangle with a trapezoid below it), and C (a complex polygon). A legend includes a red square labeled "Unidad" and two red squares with a diagonal line. Below the shapes are two red diamonds with a diagonal line. At the bottom, there are links for "Cuadrícula" and "Ayuda".

Fórmulas para determinar área y perímetro.


Los conceptos de perímetro y área se refieren a medidas de las figuras geométricas, el área a la superficie interna y el perímetro al borde que rodea dicha superficie de la figura.


Hay una gran variedad de figuras geométricas, por lo que necesitamos varias fórmulas para calcular su área y perímetro. Sin embargo, podemos familiarizarnos con las fórmulas de las figuras geométricas más comunes, las cuales son el cuadrado, el triángulo, el rectángulo y las ya mencionadas en secciones anteriores.


¿Cómo calcular área y perímetro en un cuadrado o rectángulo?

Hemos visto que en el concepto de multiplicación va implícito en el del cuadrado, y con igual procedimiento se tendría para un rectángulo, dado que, la superficie de un rectángulo se calcula de la misma forma, aplicando multiplicación:

$$\text{Ancho} \times \text{Largo}$$


Las unidades de medida que tiene el área,  como el área representa el espacio que ocupa una figura en dos dimensiones; es decir, largo y ancho, por esto, las unidades de longitud van al cuadrado.

Cuadrado		
Gráfico	Área (A)	Perímetro (P)
	Lado (L) $A = L \times L$	$P = L + L + L + L$ $P = 4L$

Rectángulo		
Gráfico	Área (A)	Perímetro (P)
	Base (b) Altura (h) $A = b \times h$	$P = b + h + b + h$ $P = 2b + 2h = 2(b + h)$



¡Geonota!

En el cuadrado, la base (b) y la altura (h) son de igual medida y corresponden a dos de los lados del cuadrado.

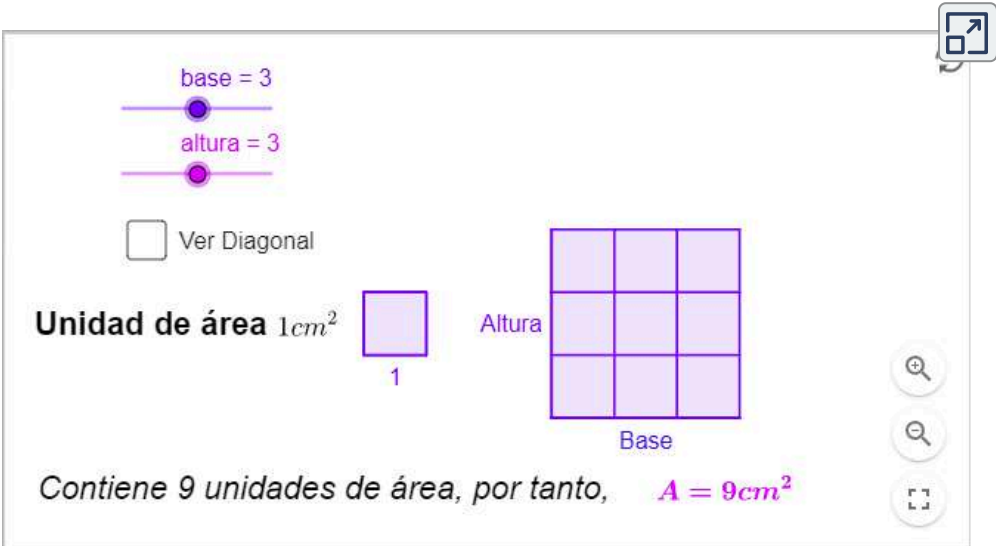


Exploremos.

¿Cuántas unidades de área contiene?



GeoGebra. Mueve los deslizadores (base o altura) y activa la casilla de verificación. Consideremos un cuadrado con unidad de área 1 cm^2 . Observa el área de la figura dada.



The screenshot shows the GeoGebra interface. At the top left, there are two sliders: "base = 3" and "altura = 3". Below them is a checkbox labeled "Ver Diagonal" which is currently unchecked. In the center, there is a small square labeled "Unidad de área 1 cm^2 " with the number "1" below it. To its right is a larger 3x3 grid of squares. The grid is labeled "Altura" on the left and "Base" at the bottom. At the bottom of the interface, there is a text box that says "Contiene 9 unidades de área, por tanto, $A = 9 \text{ cm}^2$ ". On the right side of the interface, there are three circular icons: a magnifying glass, a search icon, and a square icon.

¿Que sucede cuando se traza la diagonal en el cuadrado?, ¿Qué figura o figuras se forman? ¿puedes calcular el área de estas figuras? Estas preguntas nos van a llevar a deducir el área de los triángulos, que veremos más adelante.

Exploremos.

Calcular área de un cuadrado o rectángulo.

Mueve la regla desde sus extremos, primero uno y después el otro. Ingresar el valor obtenido para el área, oprime "enter \leftarrow" y desplaza las unidades de medida al círculo rosa.

Escena de Eduardo Barbero Corral adaptada por el autor, con licencia [CC by-nc-sa](https://creativecommons.org/licenses/by-nc-sa/4.0/)




¡Piensa!... Se desea construir una cancha de fútbol que tenga las dimensiones como se muestra en la figura. ¿Cuál es el perímetro que debe ocupar la cancha? ¿Cuál es el área del terreno que se debe adquirir para su construcción? [Respuesta.](#)



¿Como calcular área y perímetro en el paralelogramo?



¡Geonota!

El cuadrado y el rectángulo son cuadriláteros que tienen los lados opuestos paralelos e iguales, características o propiedades que los incluye como paralelogramos, por lo cual, la superficie o área del paralelogramo o romboide esta dada por: 

$$\text{Área} = \text{Ancho} \times \text{Largo}$$

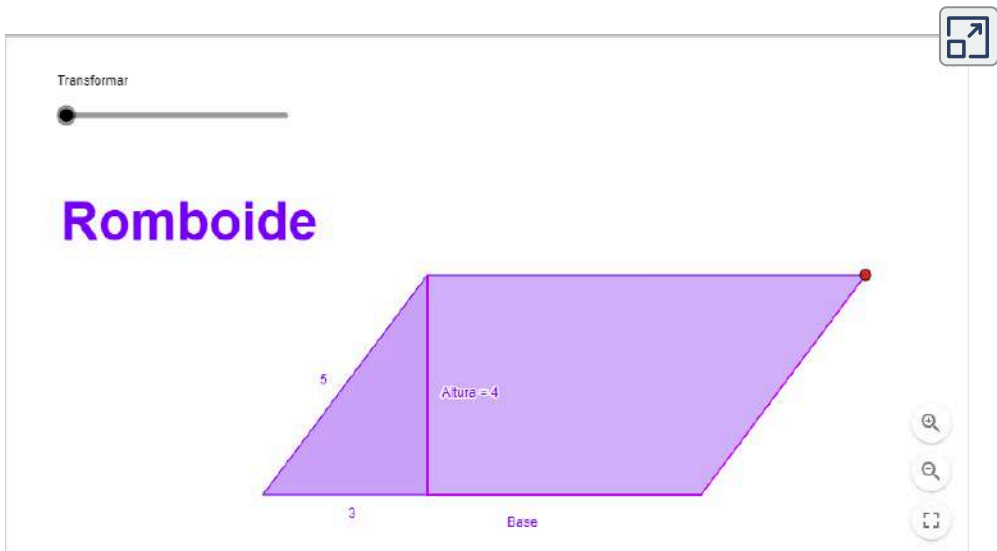


Exploremos.

Transformación de romboide a rectángulo.



GeoGebra. Mueve el deslizador y observa cómo se transforma un paralelogramo en un rectángulo, Puedes dar respuesta a la pregunta: ¿Serán de igual área?



Transformar

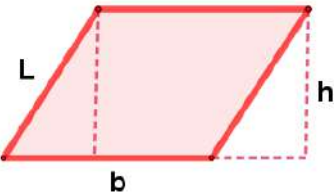
Romboide

5

3

Altura = 4

Base

Paralelogramo (Romboide)		
Gráfico	Área (A)	Perímetro (P)
	Lado(L) Base(b) Altura (h) $A = b \times h$	$P = b + L + b + L$ $P = 2b + 2L = 2(b + L)$

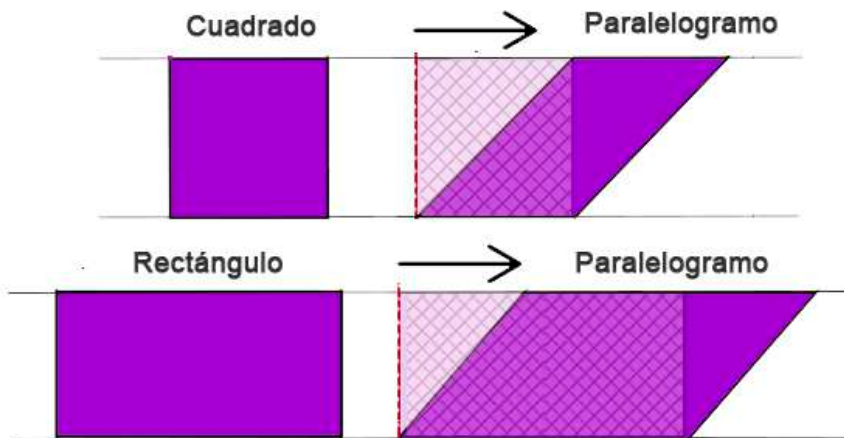
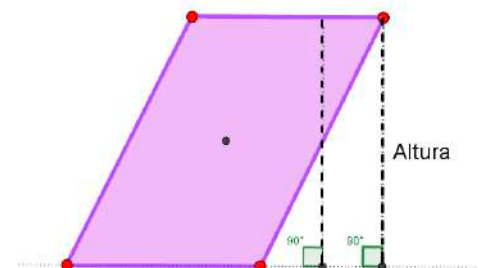


Figura 3.6. Representación gráfica.

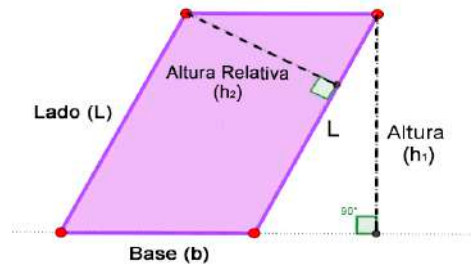
Según la forma del paralelogramo, el trazado de la altura puede quedar completa o parcialmente fuera de este, y seguimos utilizando "base x altura" para el hallar el área de paralelogramo.

Recordemos, la relación que existe entre la base y la altura es de perpendicularidad (forman ángulos de 90°). Para facilitar el trazo de la altura, se toma como base el lado horizontal inferior de las figuras.



Otra forma que se tiene para hallar el área del romboide es si se conoce su **altura relativa** y la medida del lado correspondiente a esta altura.

$$\acute{A}rea = Lado \times Altura_{relativa}$$



¡Geonota!

Se debe cumplir que el área o superficie es igual a:

$$\acute{A}rea = Base \times Altura = Lado \times Altura_{relativa}$$

Compruebemos con la siguiente figura los resultados del área:

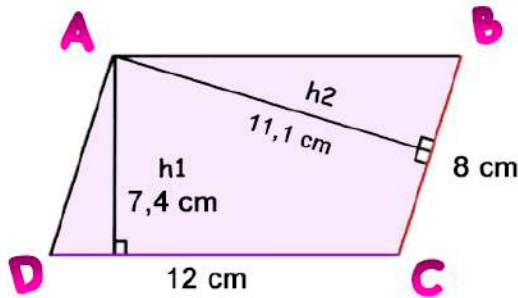


Figura 3.7. Representación gráfica.

$$\acute{A}rea = 12 \times 7,4 = 8 \times 11,1 = 88,8 \text{ cm}^2$$



¡Piensa!... Calcular el área de un paralelogramo que tiene forma de romboide cuya altura mide 12 cm y su base mide 3 veces su altura. [Respuesta.](#)

¿Cómo calcular área y perímetro del triángulo?

Partiendo de la siguiente pregunta: ¿Qué relación se presenta entre el área del paralelogramo y el área del triángulo?

Se tiene un paralelogramo, del cual ya conocemos como calcular su área. Para la deducción del área del triángulo trazamos una de las diagonales del paralelogramo.

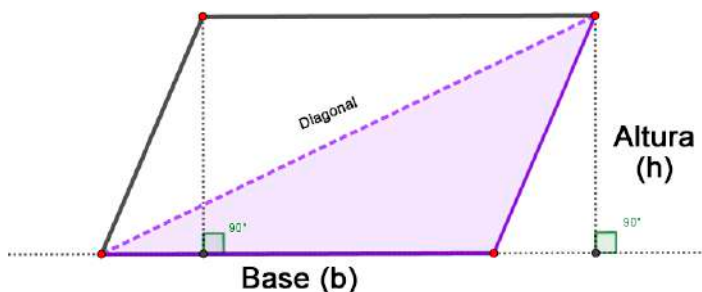
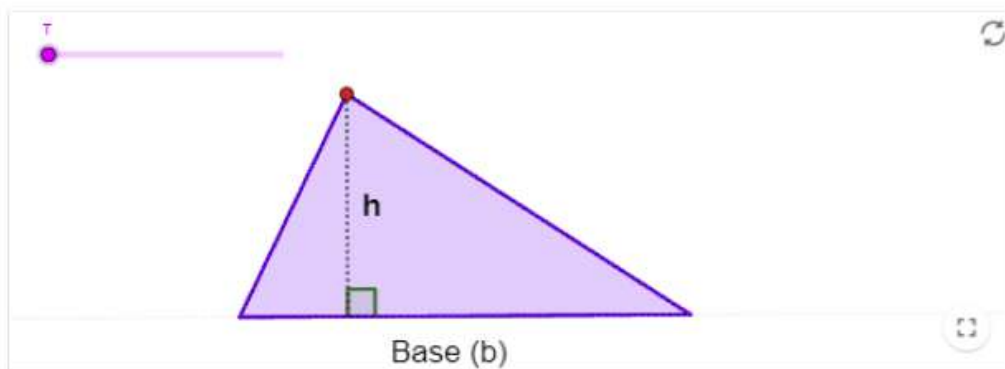
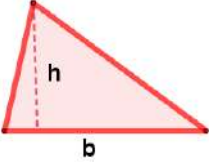


Figura 3.8. Representación gráfica.

Entre el triángulo y el paralelogramo se tiene como relaciones: Igual base, igual altura y el área del triángulo ocupa la mitad del área del paralelogramo construido.



Triángulo		
Gráfico	Área (A)	Perímetro (P)
	Base (b) Altura (h) $A = \frac{b \times h}{2}$	Lado (L) $P = L_1 + L_2 + L_3$



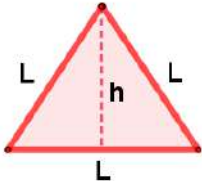
¡Geonota!

El **triángulo equilátero**, es aquel que tiene los tres lados de igual longitud, único triángulo que es polígono regular.

El triángulo equilátero es un triángulo especial, para el cual, si se conoce la medida de la base (lado) y altura, se calcula el área con la misma expresión de cualquier triángulo.

Pero si no se conoce la medida de la altura sino solo su lado, se puede expresar en función de la medida de su lado (la deducción de esta expresión, se verá un capítulo más adelante):



Triángulo Equilátero		
Gráfico	Área (A)	Perímetro (P)
	Lado (L) $A = \frac{\sqrt{3} \times L^2}{4}$	Lado (L) $P = L + L + L = 3L$

Recordemos que la altura en el triángulo, es la recta que pasa por un vértice y es perpendicular al lado opuesto, es por lo que a cada vértice le corresponde una altura. También utilizamos el nombre de altura para referirnos a la menor distancia entre un vértice y el lado opuesto (o su prolongación), pues es sobre esta recta en la que medimos esa distancia.

Algunas veces las alturas de un triángulo coinciden con uno de sus lados, en otras ocasiones incluso está por fuera del triángulo.

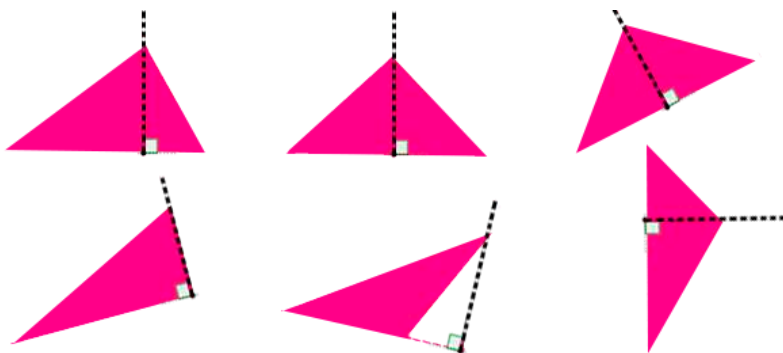


Figura 3.9. Representación gráfica de las alturas de un triángulo.

La altura correspondiente a un lado no cambia, aunque cambie la posición del lado, puede ser vertical, horizontal u oblicua, según la disposición del lado sobre el que se traza. << **Comprueba** 🔄 >>



Comprueba lo aprendido respondiendo a la pregunta.



El área A de un terreno **rectángular** de base $b = 58 \text{ Hm}$ y altura $h = 8 \text{ Hm}$ es?



Respuesta

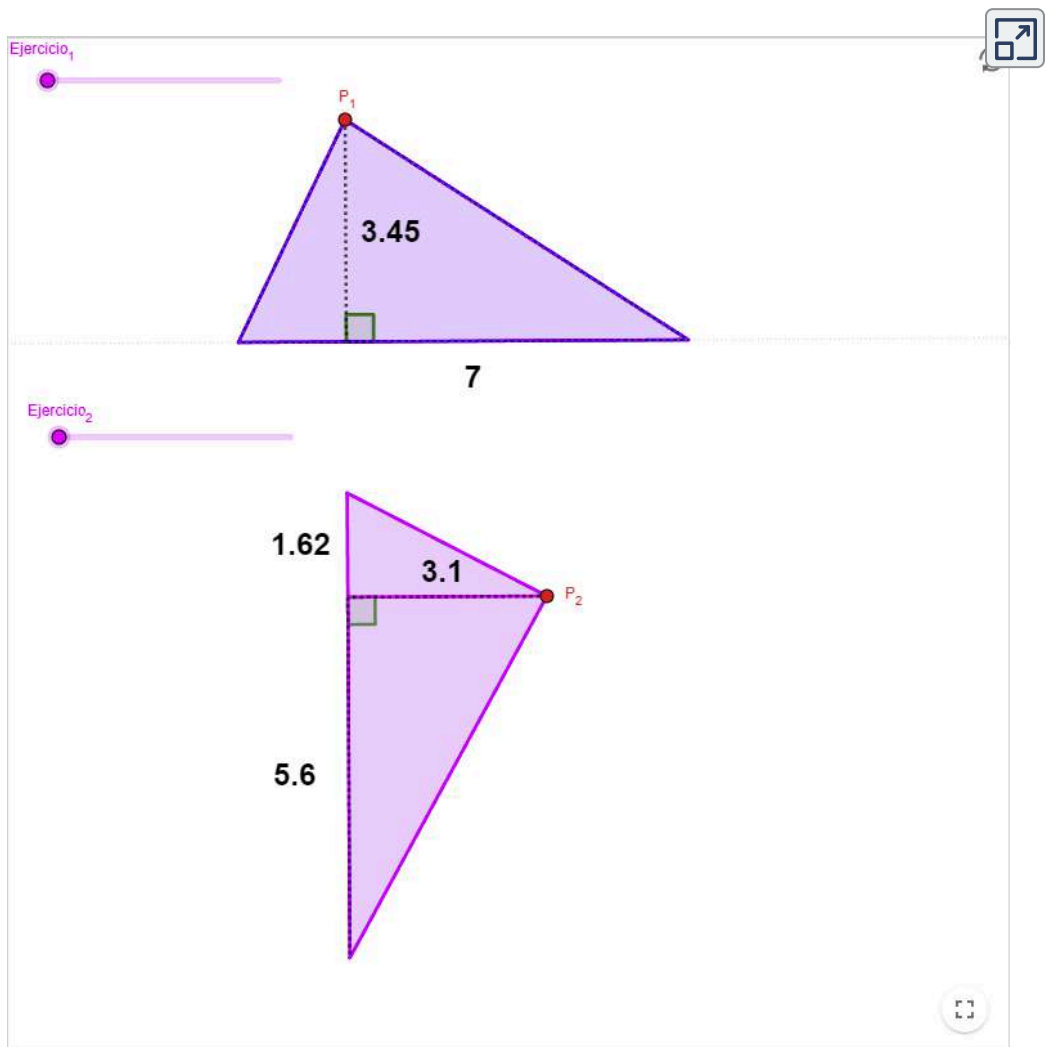
Exploremos.

El triángulo mitad de grande al paralelogramo que lo rodea.



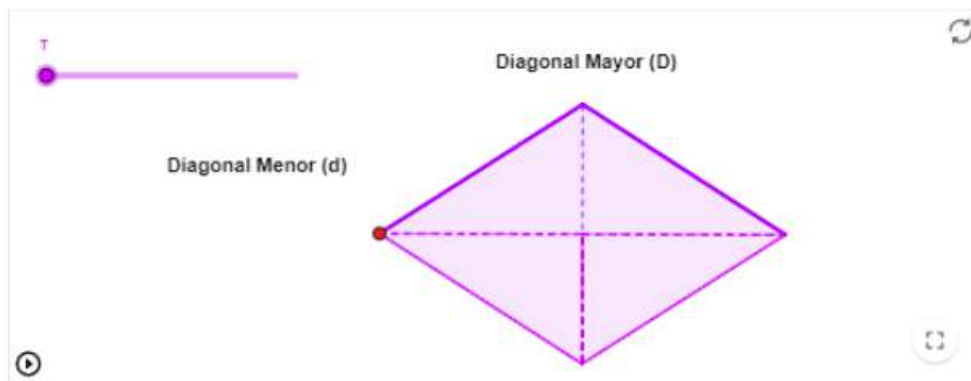
GeoGebra. Mueve el deslizador y observa el paralelogramo que rodea al triángulo como ayuda para calcular el área.

Arrastra el punto P_1 o P_2 para modificar los triángulos. Responde a la pregunta: ¿Cuál es el área para cada triángulo?



¿Cómo calcular área y perímetro de un rombo?

Veamos como deducir la fórmula para el rombo, en esencia se siguen los mismos procedimientos, por tanto, vamos a deducir su fórmula en términos de las diagonales, para ello vamos a transformar en este caso el rombo en un rectángulo, del cual ya conocemos como calcular su área.



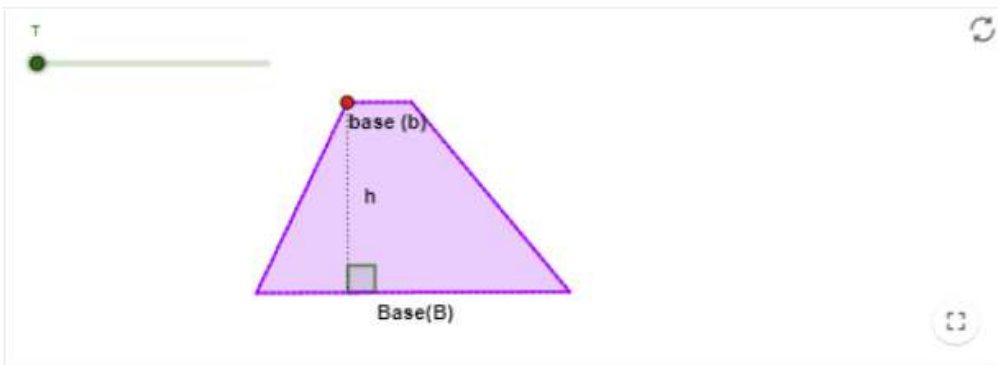
Observe que se presenta las siguientes características:

La diagonal mayor (D) del rombo coincide con el largo del rectángulo, la altura del rectángulo es la mitad de la diagonal mayor (d) y el área del rombo es igual al área del rectángulo formado.

Rombo		
Gráfico	Área (A)	Perímetro (P)
	Diagonal mayor (D) Diagonal menor (d) $A = \frac{D \times d}{2}$	Lados (L) Todos iguales $P = L + L + L + L = 4L$

¿Cómo calcular área y perímetro de un trapecio?

Siguiendo la misma deducción de la fórmula del área del triángulo, veamos como deducir la del trapecio, en esencia se sigue el mismo procedimiento, duplicamos el trapecio para construir un paralelogramo.




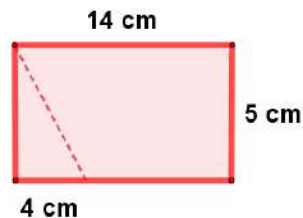
El paralelogramo que se forma tiene las siguientes características con respecto al trapecio:

Igual altura, la base del paralelogramo es igual a la suma de la base mayor (B) y la base menor (b) del trapecio, por tanto, el área del trapecio es la mitad del área del paralelogramo construido.

Trapecio		
Gráfico	Área (A)	Perímetro (P)
<p>El gráfico muestra un trapecio con una base superior etiquetada como 'b' y una base inferior etiquetada como 'B'. Una línea vertical punteada desde la base superior hasta la base inferior indica la altura, etiquetada como 'h'. El lado izquierdo del trapecio está etiquetado como 'L'.</p>	<p>Base mayor (B) Base menor (b) Altura (h)</p> $A = \frac{(B + b)}{2} \times h$	<p>Lados (L_1, L_2) No paralelos</p> $P = B + b + L_1 + L_2$

El **trapecio** no es un paralelogramo, es un cuadrilátero que tiene un par de lados paralelos llamados bases.

 **¡Piensa!...** Se tiene la siguiente figura, ¿Cuántas veces es mayor el área del trapecio que el área del triángulo? [Respuesta.](#)



¡Geonota!

Recordemos que el trapecio puede ser rectángulo, isósceles o escaleno y para calcular su perímetro es la suma de todos sus lados, para el caso del trapecio isósceles, los lados no paralelos son iguales.



Rectángulo



Isósceles



Escaleno

Figura 3.10. Representación gráfica de los trapecios.



Comprueba lo aprendido respondiendo a la pregunta.



Una figura en forma de trapecio con altura $h = 47 \text{ cm}$ y bases $B = 123 \text{ cm}$, $b = 21 \text{ cm}$ tiene como área A ?



Respuesta

¿Cómo calcular área y perímetro de un polígono regular?

Analizaremos el área y perímetro de los polígonos regulares de cinco o más lados, teniendo presente que el menor polígono regular es el triángulo equilátero ([página 113](#)), polígono regular de tres lados y el cuadrado ([página 107](#)), único cuadrilátero regular, el cual es rectángulo y rombo a la vez, fueron analizados en secciones anteriores.



¡Geonota!



Recordemos que un **polígono** es **regular** cuando todos sus lados son iguales y todos sus ángulos también y es irregular si no cumple con estas condiciones. << **comprueba** >>

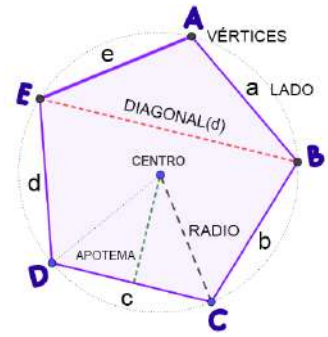
Elementos principales del polígono ([página 35](#)) que se deben tener presente para el cálculo del área y perímetro:

- 🌟 **Centro**, es el punto interior que equidista de cada vértice, es decir, la distancia del centro a cualquiera de sus vértices es igual, así como la distancia a cualquiera del centro de sus lados.
- 🌟 **Radio**(r), segmento que va del centro a cada vértice.
- 🌟 **Apotema**(a), distancia del centro al punto medio de cada lado. Representa la altura de cualquiera de los triángulos iguales en los que se puede descomponer el polígono, donde el lado es base.



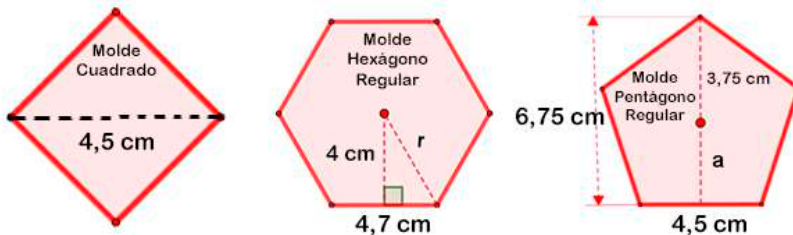
¡Piensa!... ¿Cómo se puede deducir la fórmula para calcular el área de un polígono regular? [Respuesta](#).

Representación gráfica de los elementos que componen el polígono regular en una circunferencia circunscrita, donde A, B, C, D, E vértices del polígono y a, b, c, d, e lados iguales.



Polígono regular		
Gráfico	Área (A)	Perímetro (P)
	Radio (r) Apotema (a) $A = \frac{P \times a}{2}$	Lados (L) Número de lados (n) $P = n \times L$


¡Piensa!... Un panadero, desea hacer galletas para vender en su panadería, y quiere usar el molde que tenga una mayor superficie para incrementar sus ganancias:



¿Qué molde le conviene usar?, ¿Por qué?, ¿Cuál es el perímetro de cada molde?, ¿Cuál es el área de cada molde?, ¿Qué procedimiento utilizaste para realizar los cálculos?

¿Como calcular área del círculo y longitud de la circunferencia?

Al igual que en los polígonos regulares, podemos medir el perímetro o el área de la circunferencia a través de una fórmula matemática. Para ello, necesitamos conocer el radio o diámetro de la misma.

Recordemos, la línea curva que forma el contorno de la circunferencia, mide algo más  del triple de su diámetro, que equivale a pi(π)

$$(\pi = 3, 14159265358979323846 \dots)$$



¡Geonota!

Si divides lo que mide la longitud de una circunferencia, medida de su línea curva, entre lo que mide su diámetro, se obtiene el número de pi:

$$\frac{\text{Longitud circunferencia}}{\text{Diámetro}} = 3, 141592653589 \dots \approx 3.1416$$

De aquí se obtiene longitud de la circunferencia conociendo su diámetro:

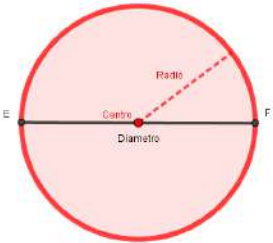
$$\text{Longitud de la circunferencia} = \text{Diámetro} \times \pi \quad (7)$$

Además, sabemos que el diámetro es dos veces el radio ($d = 2r$), donde, podemos calcular de nuevo la longitud de la circunferencia a partir del valor del radio:

$$\text{Longitud de la circunferencia} = 2 \cdot r \cdot \pi \quad (8)$$

Llamaremos longitud de la circunferencia al perímetro de la circunferencia, y se denota a la **longitud** con la letra L .

El **área de un círculo** se puede hallar considerándola como un polígono regular de muchos lados, en el cual la apotema coincide con el radio.

Circunferencia - Círculo		
Gráfico	Área del Círculo (A)	Longitud (Perímetro) de la Circunferencia (L)
 <p>El diagrama muestra un círculo con un centro marcado con un punto rojo. Una línea roja discontinua que va desde el centro hasta la periferia está etiquetada como 'Radio'. Una línea roja sólida que atraviesa el centro desde un punto 'E' hasta un punto 'F' en la periferia está etiquetada como 'Diámetro'. El interior del círculo está sombreado en un tono de rosa claro.</p>	<p>Radio (r) Diámetro (d)</p> $A = \pi \times r^2$ $A = \pi \times \frac{d^2}{4}$	<p>Longitud (L) $\pi \approx 3.1416$</p> $L = 2 \times r \times \pi$ $L = d \times \pi$

Algunas regiones importantes que se presentan en el círculo:

1. Sector circular:



2. Segmento circular:



3. Corona Circular:



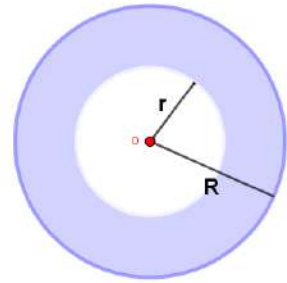
4. Trapecio circular:



Figura 3.11. Representación gráfica de las regiones del círculo.



¡Piensa!... Una piscina tiene una forma de corona circular (anillo de color azul en la figura), delimitada por dos circunferencias de radio interior $r = 2\text{ m}$ y radio exterior $R = 4\text{ m}$, ver figura:



¿Cuál es el perímetro y área de la piscina? (la corona circular es el área que corresponde a la región sombreada) [Respuesta.](#)



Exploremos.

Calcular área y longitud de la circunferencia.

Mueve la regla desde sus extremos, primero uno y después el otro, verifica el valor del radio, oprime el botón y observa los cálculos.

Área y longitud de la circunferenciaCalcular

Verifica el radio con la regla

Regla en centímetros (cm)



Comprueba lo aprendido respondiendo a la pregunta.



Si el diámetro de una circunferencia es $D = 142 \text{ Km}$.
¿Cuál es el área A del círculo?



Respuesta

3.4 Figuras geométricas compuestas

La geometría tiene numerosas aplicaciones prácticas en la vida diaria. Desde la construcción de edificios y la planificación urbana hasta la fabricación de objetos y la resolución de problemas cotidianos, es allí donde encontramos gran combinación de figuras planas, formando las figuras compuestas, que pueden incluir: cuadrados, círculos, triángulos, rectángulos, trapecios, entre otras.

El área de figuras compuestas se puede calcular determinando el área de las figuras que la componen, sumándolas o restándolas según sea el caso. Es de gran ayuda descomponer la figura o transponer partes de un lado a otro para completar figuras planas conocidas.

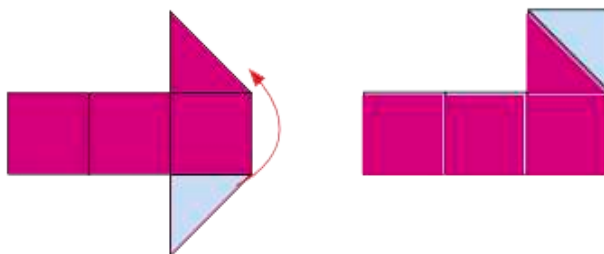


Figura 3.12. Representación gráfica.



Ejercicio 3.1.

Calcular el área y perímetro de figuras compuestas.

Lea detenidamente el problema, realice los cálculos y verifique tu respuesta, oprime el botón solución y un nuevo ejercicio.



Área y perímetro de figuras compuestas

En una urbanización hay un jardín rectangular de 30 m de largo por 25 m de ancho. En el jardín hay una piscina circular de radio 5 m. ¿Cuál es el área del jardín alrededor de la piscina?



[Ver diagrama](#)

Solución



Formulas.
perímetros

Áreas

y



[Descargar pdf](#) [imprimir](#)

Ejercicio 3.2.

Problemas. Calcular área y perímetro.

Lea detenidamente el problema, realice los cálculos con su debido procedimiento. Para actualizar otros valores oprime el botón.



09

El Mundo de la Geometría

Libro interactivo.
Autor: Carlos Alberto Rojas Hincapié

Nombres y Apellidos:

Ingresa tu nombre



PROBLEMAS

Calcular área y perímetro.

1. Una pileta con forma circular y de 74π m de perímetro, tiene una isla de radio 5 m en su centro. Calcular la superficie que ocupa el agua de la pileta.
2. Luis hizo 10 portavasos de forma circular de 5 cm de radio y a cada uno les pegó cinta sólo en los bordes. ¿Cuánta cinta usó en total?
3. Se quiere construir un cuadrado que tenga igual perímetro que un rectángulo cuya área mide 66 cm^2 , en el que sus lados están en la razón 1:4. ¿Cuál es el área del cuadrado?
4. En una pared cuadrada de 3 m de lado se ha colocado un tapiz triangular de 8 m de largo y 0,5 m de ancho. ¿Qué área de pared ha quedado sin cubrir?
5. Johanna tiene una cartulina de 96 cm de largo y 50 cm de ancho. Recorta un cuadrado de 12 cm de lado y un triángulo de 20 cm de largo y 10 cm de alto. ¿Qué área de cartulina le queda?
6. Una señal de tránsito tiene forma de un polígono regular de 10 lados. Si sus lados miden 30 cm cada uno, ¿cuál es la medida del perímetro y la del área del polígono?

3.5 Evaluemos lo aprendido



Ejercicio práctico.

Prepárate para la evaluación y mide tus conocimientos de lo aprendido en este capítulo, responde las preguntas a continuación:



preguntas

Comenzar




Tomada de la Red Educativa Digital Descartes - [Plantillas con Descartes-JS](#)



**Actividad
complementaria.**

[Descargar para imprimir](#)



 **Evaluación. 10 preguntas con límite de tiempo (Máx. 15 minutos)**
Clic en el link, responde y envía tus respuestas por correo.



Capítulo III: Área y perímetro.

Evalúa lo aprendido y envía resultados a tu profesor(a).



[Clic aquí.](#)

Evaluación:
Capítulo III



Escanéame con tu móvil



Tomada de la Red Educativa Digital Descartes.

[4] Plantillas con Descartes-JS



Capítulo IV

“No sabe hablar quien no sabe callar”.

Pitágoras

Aplicaciones de la geometría



4.1 El teorema de Pitágoras

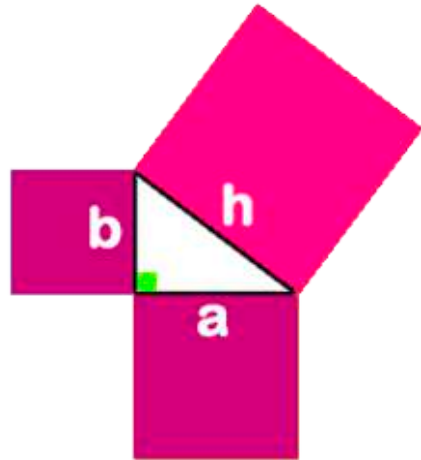


El Teorema de Pitágoras es uno de los teoremas que más ha maravillado a todas las civilizaciones a lo largo de la historia. Algunos historiadores sugieren que en Babilonia por el año 1600 a.C., se calculaban las diagonales de ciertas figuras utilizando este teorema, sin embargo, la primera demostración formal conocida se le otorga usualmente al filósofo matemático griego Pitágoras de Samos, considerado el primer matemático puro.

Este teorema cuenta con una gran cantidad de demostraciones realizadas por personajes importantes de la ciencia y la matemática a lo largo de toda la historia.

En la antigüedad se utilizaba el teorema de Pitágoras para medir terrenos en agricultura, la altura de ciertos objetos, obtener el volumen de sólidos como pirámides y conos.

En la matemática, el teorema permitió el fortalecimiento de algunas áreas como la geometría y el cálculo, además del descubrimiento de los números irracionales



En la actualidad, el teorema sigue siendo indispensable en toda área donde es necesario el cálculo de longitudes, como en ingeniería, agricultura, física, astronomía y hasta en las artes.

El Teorema de Pitágoras solo se cumple en los **triángulos rectángulos**, los lados menores son los que forman el ángulo recto y se llaman **catetos**, el lado mayor se llama **hipotenusa**.

En general, llamaremos la hipotenusa h y los catetos a, b .



¡Geonota!

Teorema de Pitágoras

"El cuadrado de la hipotenusa (h) es igual a la suma de los cuadrados de los catetos (a) y (b)".

$$h^2 = a^2 + b^2$$

En otras palabras, el área del cuadrado construido sobre la hipotenusa de un triángulo rectángulo, es igual a la suma de las áreas de los cuadrados construidos sobre los catetos.

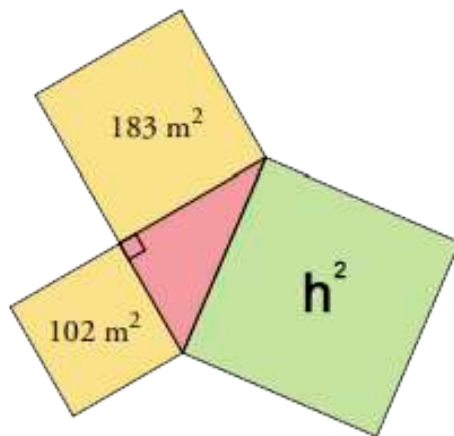


(9)

En el triángulo, como es triángulo rectángulo, se debe cumplir que:

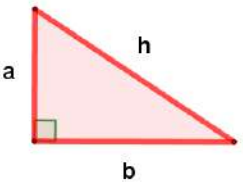
$$h^2 = 183m^2 + 102m^2 = 285m^2$$


El área del cuadrado mayor es igual a la suma de las áreas de los cuadrados menores.

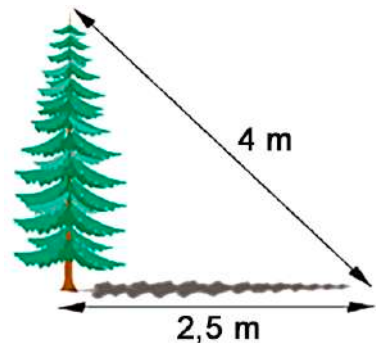


¿Como calcular un lado del triángulo conocidos los otros dos?

Si sabemos que un triángulo es rectángulo, el teorema de Pitágoras nos permite calcular la longitud del tercero lado si conocemos la longitud de dos de sus lados.

Teorema de Pitágoras		
Triángulo Rectángulo Hipotenusa (h) catetos (a), (b)	Cálculo de la hipotenusa conociendo los dos catetos	Cálculo de un cateto conociendo el otro y la hipotenusa
	Conocidos a, b $h^2 = a^2 + b^2$ $h = \sqrt{a^2 + b^2}$	Conocidos h, b $a^2 = h^2 - b^2$ $a = \sqrt{h^2 - b^2}$ Conocidos h, a $b^2 = h^2 - a^2$ $b = \sqrt{h^2 - a^2}$

 **¡Piensa!...** En un atardecer, un árbol proyecta una sombra de 2,5 metros de longitud. Si la distancia desde la parte más alta del árbol al extremo más alejado de la sombra es de 4 metros. ¿Cuál es la altura del árbol? [Respuesta.](#)



Tener presente que, en el triángulo rectángulo, la hipotenusa siempre es el lado de mayor longitud y corresponde al lado opuesto del ángulo recto (90°).



¡Geonota!

Si tres números naturales, a, b, c , cumplen que $c^2 = a^2 + b^2$, es decir, si pueden ser las medidas de los lados de un triángulo rectángulo, entonces decimos que forman una **terna pitagórica**, por ejemplo:

$$3^2 + 4^2 = 5^2, \quad 9^2 + 40^2 = 41^2, \quad 12^2 + 35^2 = 37^2$$

Si tomamos una terna pitagórica a, b, c y la multiplicamos por un número natural k , obtenemos otra terna pitagórica, por tanto, se cumple que:

ka, kb, kc es una terna pitagórica.

$$3, 4, 5 \rightarrow 2(3), 2(4), 2(5) \rightarrow 6, 8, 10$$



Comprueba lo aprendido respondiendo a la pregunta.



En un \triangle rectángulo, la longitud de la hipotenusa $h = 101.24$ y el cateto $a = 68$ ¿Cuál es la longitud del cateto b ?



Respuesta



Ejercicio 4.1.

Teorema de Pitágoras. Tomemos medidas con la regla.

Observa la figura dada, utiliza la regla para medir sus lados, y selecciona la casilla de verificación para realizar los cálculos, aplica el teorema de Pitágoras para hallar la diagonal.

Oprime el botón verificar y comprueba tus resultados. Oprime el botón otra figura para otro ejercicio. (El resultado verifícalo midiendo la diagonal con la regla).

Mueve la regla desde sus extremos, primero uno y después el otro.

Otra figura

Aplicar Teorema de Pitágoras

Calcular Diagonal

Medir con la regla

Regla en centímetros (cm)


0 1 2 3 4 5

Escena de Eduardo Barbero Corral adaptada por el autor, con licencia [CC by-nc-sa](https://creativecommons.org/licenses/by-nc-sa/4.0/)

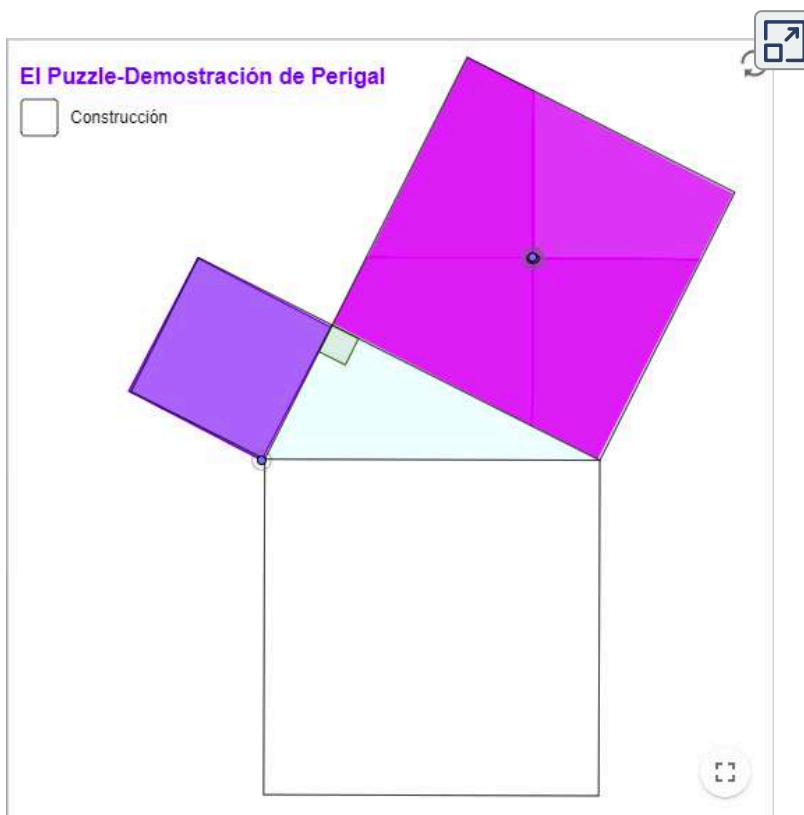
Exploremos.

Puzzle Pitagórico - Demostración de Perigal.

Se utilizan para comprobar el Teorema de Pitágoras. Son construcciones de piezas en los cuadrados sobre los catetos y luego con todas las piezas se forma el cuadrado sobre la hipotenusa, esto comprueba que ambas áreas son iguales.



GeoGebra. Arrastra las piezas y rotarlas desde el punto si es necesario. [Ver construcción](#)



Puzzles Pitagóricos.

[Descargar para imprimir](#)





Ejercicio 4.2.

Problemas. Aplicación teorema de Pitágoras

Lea detenidamente el problema, realice los cálculos con su debido procedimiento. Para actualizar otros valores oprime el botón.



El Mundo de la Geometría

Libro interactivo.

Autor: Carlos Alberto Rojas Hincapié

Nombres y Apellidos:

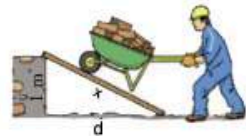
Ingresar tu nombre



PROBLEMAS

El teorema de Pitágoras.

1. En un triángulo rectángulo, la hipotenusa mide 46 cm de longitud, y uno de los catetos 4 cm. Halla la longitud del otro cateto.
2. En un triángulo rectángulo, sus catetos miden 64 m y 72 m. Calcula es la longitud de la hipotenusa.
3. En un triángulo rectángulo, la hipotenusa mide 26 cm de longitud, y uno de los catetos 9 cm. Halla la longitud del otro cateto.
4. En un triángulo rectángulo, sus catetos miden 42 m y 58 m. Calcula es la longitud de la hipotenusa.
5. Se quiere hacer un escalón de 1 m de altura para pasar con una carretilla de arena. Disponemos de una tabla de 5.4 m. ¿A qué distancia del escalón empieza la rampa?



4.2 Teoremas de Thales



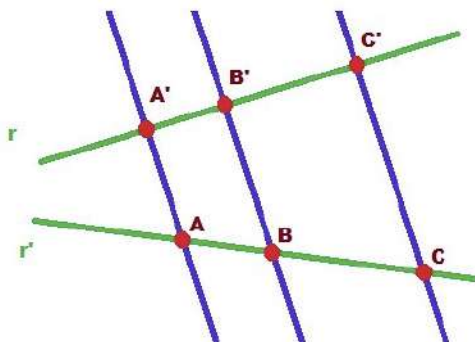
¡Geonota!

1º Teorema de Thales

"Si dos rectas cualesquiera son cortadas por rectas paralelas, los segmentos que determina en una de las rectas son proporcionales a los segmentos correspondientes de la otra recta." Thales



Observa que, hay tres rectas paralelas, las rectas A, B y C. Las rectas paralelas son aquellas que guardan la misma distancia entre sí, es decir, por más que se prolonguen nunca se van a intersectar, juntar o tocar.



$$\frac{\overline{A'B'}}{\overline{AB}} = \frac{\overline{A'C'}}{\overline{AC}} = \frac{\overline{B'C'}}{\overline{BC}}$$

Figura 4.1. Representación gráfica. Imagen de [Arturo Mandly](#) en Flickr

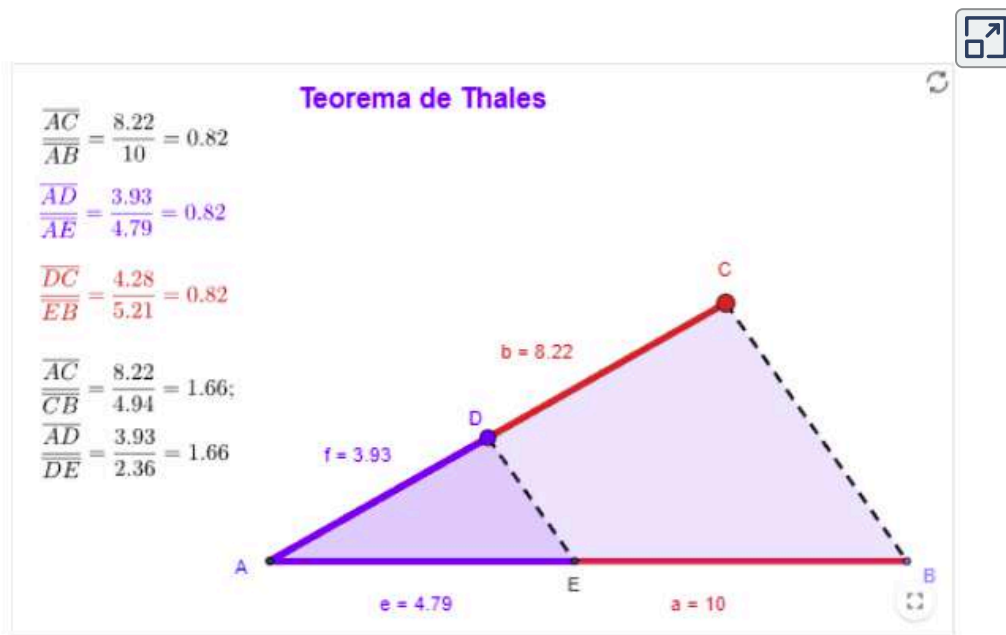
Ahora, llevemos el teorema a los triángulos, para esto, hablaremos de semejanza, como definición previa, es necesario establecer que dos triángulos son semejantes si tienen los ángulos correspondientes iguales y sus lados son proporcionales.



¡Geonota!

Si en un triángulo dado se traza un segmento paralelo a uno de sus tres lados, el nuevo triángulo generado será semejante al primero.

Dado un ΔABC , si se traza un segmento paralelo, \overline{DE} , a uno de los lados del triángulo, se obtiene otro triángulo ΔADE , cuyos lados son proporcionales a los del triángulo ΔABC .



De acuerdo con el teorema, se verifica que:



$$\frac{\overline{AB}}{\overline{AE}} = \frac{\overline{AC}}{\overline{AD}} = \frac{\overline{BC}}{\overline{DE}}$$


El **Teorema de Thales** recoge uno de los **postulados** más básicos de la geometría: Si en un triángulo se traza una línea paralela a cualquiera de sus lados, se obtienen dos triángulos semejantes.



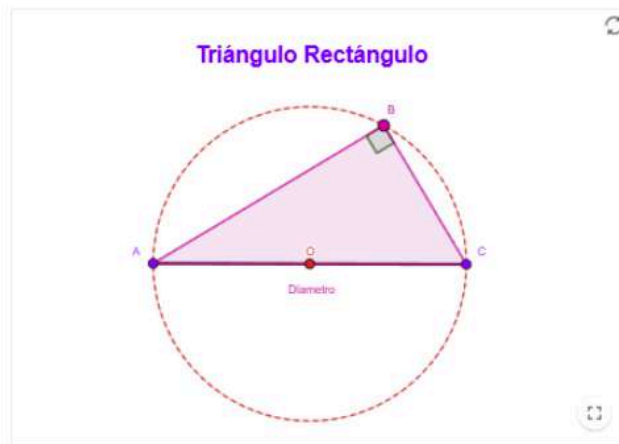
¡Geonota!

2° Teorema de Thales

"En una circunferencia de centro en O y diámetro AC , cualquier punto B de esa circunferencia no perteneciente a AC determina un triángulo rectángulo ΔABC con el ángulo de 90° en B ." Thales



El centro O de la circunferencia es el circuncentro del triángulo rectángulo ΔABC .



 **Video.** Construcción utilizando el software de GeoGebra.



Teorema de Pitágoras aplicando el teorema de Thales en la construcción de triángulo rectángulo.

 **Exploremos.**
Demostremos el teorema de Pitágoras.

Observa el video y responde a las preguntas que se muestran, algunas se responden escribiendo verdadero o falso.



Escena de Juan Guillermo Rivera adaptada por el autor, con licencia [CC by-nc-sa](https://creativecommons.org/licenses/by-nc-sa/4.0/)

 **GeoGebra.** Utiliza el software y realiza la  construcción como ayuda para verificar la demostración del teorema de Pitágoras. [Clic aquí.](#)

4.3 Relaciones métricas del triángulo



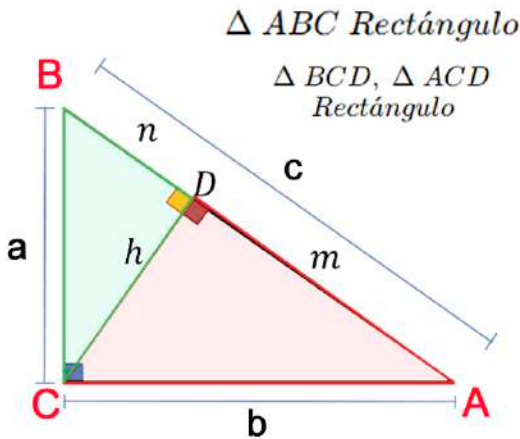
¡Geonota!

Teorema de Euclides

"En un triángulo rectángulo, cuando se traza la altura que corresponde al vértice del ángulo recto con respecto a la hipotenusa, se forman dos triángulos rectángulos."
Euclides



Ilustración de los principales elementos del triángulo rectángulo:




- c es hipotenusa, b cateto mayor y a cateto menor,
- h altura relativa a la hipotenusa,
- m proyección del cateto b y n proyección del cateto a .

Las relaciones métricas del triángulo rectángulo son cuatro. Los tres triángulos formados al trazar la altura relativa a la hipotenusa son rectángulos y semejantes.

La hipotenusa es igual a la suma de las proyecciones.

$$c = n + m \quad (10)$$

Por semejanza de triángulos, tenemos que:

 **Teorema de la Altura.** El cuadrado de la altura relativa es igual al producto de los catetos.

$$\frac{h}{m} = \frac{n}{h} \rightarrow h^2 = nm \quad (11)$$

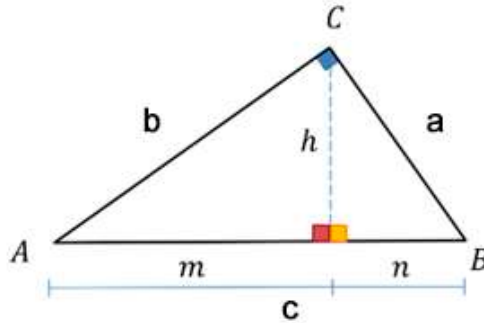




Figura 4.2. Representación gráfica.

 **Teorema del Cateto.** El cuadrado de un cateto, es igual al producto entre su proyección (que se encuentra de su lado) y la hipotenusa.

$$\frac{b}{c} = \frac{m}{b} \rightarrow b^2 = mc \quad (12)$$

$$\frac{a}{c} = \frac{n}{a} \rightarrow a^2 = nc \quad (13)$$

 El producto entre la hipotenusa y la altura relativa a ella, es igual al producto de los catetos.

$$\frac{c}{a} = \frac{b}{h} \rightarrow hc = ab \quad (14)$$



¡Piensa!... Situación-Problema. La casa de Charlie, su amigo, su tío Nando y el estadio de futbol se encuentran ubicados de la siguiente forma:

La distancia donde se encuentra el tío Nando al estadio es de $10,76 \text{ km}$, y del tío Nando a la casa de Charlie es $3,38 \text{ km}$, como se muestra en la siguiente imagen:

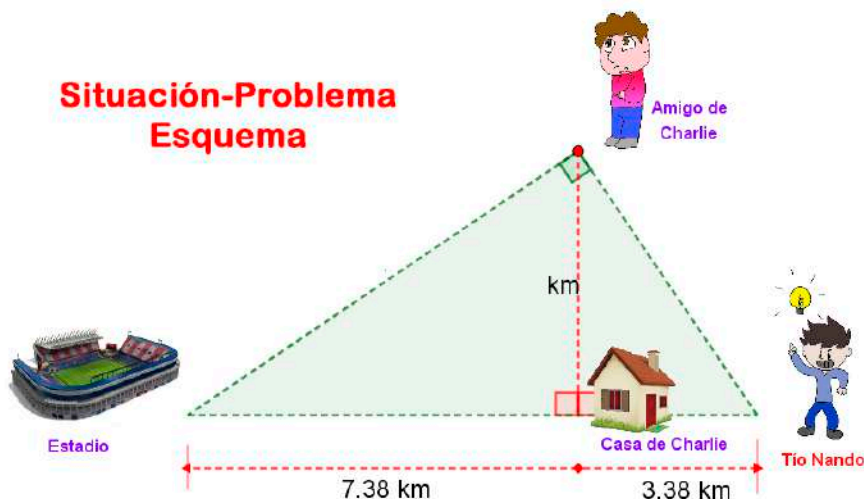


Figura 4.3. Representación gráfica.

Además, su amigo afirma que la distancia donde se encuentra ubicado a la casa de Charlie es mayor que la de casa de Charlie a donde se encuentra el tío Nando, pero menor que la distancia de la casa de Charlie al estadio de futbol.

De este modo, se debe identificar que la figura es un triángulo rectángulo, y que la distancia entre la casa de Charlie a donde se encuentra su amigo corresponde a la altura que está trazada en el triángulo rectángulo mayor. Con estos datos, se puede aplicar el teorema de la altura, encuentra las distancias de todos los puntos.

Respuesta.

Comprueba

4.4 Evaluemos lo aprendido



Ejercicio práctico.

Prepárate para la evaluación y mide tus conocimientos de lo aprendido en este capítulo, responde las preguntas a continuación:



preguntas

Comenzar



Tomada de la Red Educativa Digital Descartes - [Plantillas con Descartes-JS](#)





**Actividad
complementaria.**

[Descargar para imprimir](#)





 **Evaluación.** 10 preguntas con límite de tiempo (Máx. 15 minutos)
Clic en el link, responde y envía tus respuestas por correo.



Capítulo IV: Aplicaciones de la geometría.

Evalúa lo aprendido y envía resultados a tu profesor(a).



[Clic aquí.](#)

Evaluación:
Capítulo IV



Escanéame con tu móvil



Tomada de la Red Educativa Digital Descartes.

[4] Plantillas con Descartes-JS




Capítulo V

“El juego es condición fundamental para ser serio”.

Arquímedes

Exploremos,
juguemos y
aprendamos



¿Por qué jugar con la geometría?



Para enseñar geometría se puede partir de la experiencia propia del estudiante, en primer lugar, investigando todo a su alrededor, para identificar y reconocer, las características y propiedades de las diferentes formas geométricas, además, invitarlo a la observación de todo lo que lo rodea en su entorno, para ir adquiriendo una serie de habilidades lógico-matemáticas que son fundamentales.

Desde la cotidianidad se puede entender poco a poco el estudio de la geometría, esto se puede hacer también a partir de diferentes juegos que involucren las figuras geométricas.

Hay que tener en cuenta la importancia de las geometrías en la vida diaria y presentar estas desde un enfoque globalizado cuyo objetivo es relacionar los distintos campos de las matemáticas con conocimientos de otras materias, así como utilizar las habilidades para resolver problemas de la vida cotidiana. Por ello, es esencial ver que la geometría está presente en multitud de situaciones del entorno más cercano.

Mover con el mouse



En síntesis, para mejorar la enseñanza-aprendizaje de la Geometría, se deben poner en práctica recursos educativos y motivadores para el estudiante, pues serán oportunos para crear ambientes favorables para comprender conceptos y desarrollar actitudes positivas hacia esta materia.

En este aspecto, presenta una especial relevancia el juego como recurso didáctico, ya que además de ofrecer un carácter divertido a su aprendizaje, permite partir del propio error y el de los demás.




Figura 5.1. Representación gráfica. Rompecabezas del Tangram Chino.

Esto implica para el estudiante afrontar nuevos conocimientos sin tener miedo; promueve la socialización y la autonomía, y también, se pueden desarrollar la atención, la concentración, la memoria y la resolución de problemas. "Alsina, 2004" [\[11\]](#).

Por lo tanto, es fundamental conocer la principal finalidad de la enseñanza-aprendizaje de la geometría, para después saber cómo aplicar sus contenidos mediante el uso de recursos educativos y actividades innovadoras, a partir de diferentes juegos.

5.1 El Tangram Chino

¿Que es el Tangram Chino?

El Tangram es un puzle o rompecabezas formado por un conjunto de piezas de formas poligonales que se obtienen al fraccionar una figura plana y que pueden acoplarse de diferentes maneras para construir distintas figuras geométricas. Las figuras que se obtienen con este puzle llamado Tangram estarán formadas siempre por todas las piezas en las que se disecciona la figura plana que lo origina, por tanto, las formas geométricas que se obtienen podrán ser distintas, pero siempre tendrán la misma área. El Tangram es de origen chino y su gran popularidad en Europa y en los Estados Unidos surgió a principios del siglo XIX; ésta fue creciendo con el tiempo debido a su carácter lúdico y educativo, de forma que en la actualidad existen numerosos juegos y juguetes infantiles basados en el tangram.




Figura 5.2. Representación gráfica. Tangram Chino.

El Tangram es un juego chino muy antiguo llamado "Chi Chiao Pan" que significa "juego de los siete elementos" o "tabla de la sabiduría". Existen varias versiones sobre el origen de la palabra Tangram, una de la más aceptada cuenta, que la palabra la inventó un inglés uniendo el vocablo cantones "tang" que significa chino con el vocablo latino "gram" que significa escrito o gráfico.[\[13\]](#)



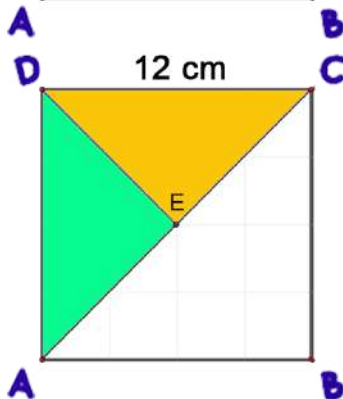
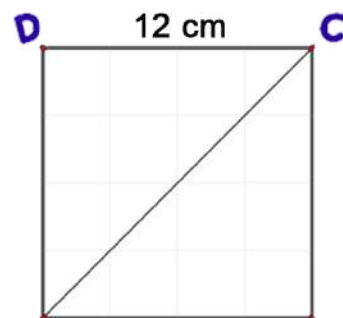
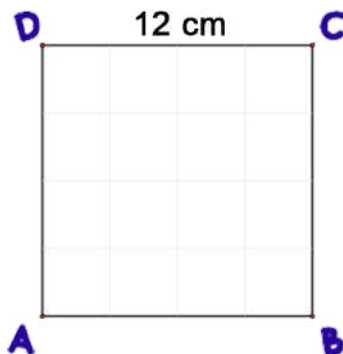
Construcción del Tangram Chino utilizando la regla.

Tomemos una hoja de papel, cartulina o cualquier material fácil de recortar:

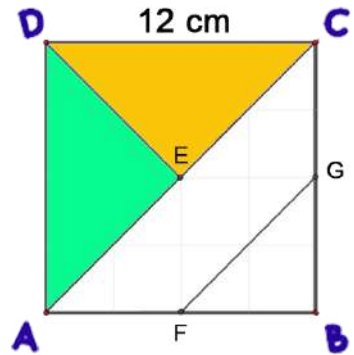
1. Construyamos un cuadrado $ABCD$ de cualquier tamaño. (Sugerencia: de $12 \times 12 \text{ cm}$)
2. Tracemos con el lápiz una cuadrícula de 4×4 . (Sugerencia: Divida el cuadrado en 4 filas y 4 columnas, formando una cuadrícula de espacios iguales $3 \times 3 \text{ cm}$.)
3. Tracemos una diagonal del cuadrado $ABCD$ (en este caso, la diagonal AC) y, de esta manera, éste se descompone en dos triángulos isósceles rectángulos: $\triangle ADC$ y $\triangle ABC$.

Con ayuda de la cuadrícula puedes conseguir un patrón para realizar los trazos.

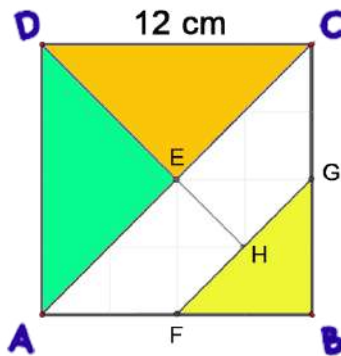
4. Trazamos el segmento \overline{DE} , siendo E punto medio de la diagonal AC . El triángulo $\triangle ACD$ se descompone en dos triángulos isósceles rectángulos: $\triangle ADE$ y $\triangle DCE$



5. Se traza el segmento \overline{FG} , siendo F y G puntos medios de los lados AB y BC respectivamente en el triángulo isósceles rectángulo ΔABC , el cual se descompone en un triángulo isósceles rectángulo ΔFGB y un trapecio isósceles $AFGC$.



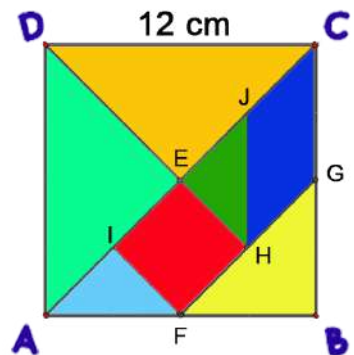
6. Se traza el segmento \overline{EH} , siendo H el punto medio del segmento FG en el trapecio isósceles $AFGC$, el



cual se descompone en dos trapecios rectángulos $BFHE$ y $EHGC$

7. Se trazan los segmentos \overline{FI} y \overline{HJ} , siendo I y J los puntos medios de los segmentos \overline{AE} y \overline{EC} respectivamente en el trapecio isósceles $AFGC$.

El trapecio isósceles $AFGC$ se descompone en dos triángulos isósceles rectángulos, un cuadrado y un paralelogramo. De esta forma, se obtiene la construcción del Tangram Chino.



¡Piensa!... ¿Cuáles ¹⁵⁴ definiciones o propiedades geométricas están involucradas en esta construcción?

Ejercicio 5.1.

Juguemos y aprendamos con el Tangram.

Lea detenidamente cada actividad y responda las preguntas.



07
09

El Mundo de la Geometría

Libro interactivo.

Autor: Carlos Alberto Rojas Hincapié

Juguemos con el Tangram.



¡Actividad 1!

Hablemos de las figuras planas, para ello, hagamos referencia a las piezas que forman el Tangram.



¡Piensa!... Responde las preguntas a continuación:

1. ¿Cómo se clasifican las figuras del Tangram? ¿que tipo de polígonos son?, defina cada polígono.
2. ¿Qué relación hay entre los lados de algunas piezas del Tangram? ¿Identificamos alguna medida como referencia?
3. ¿Cómo determinar el perímetro y área de cada figura, será posible?

¡Actividad 2!

Secuencias utilizando las piezas del Tangram Chino.



¡Piensa!... Responde las preguntas a continuación:

1. Utilizando dos piezas, ¿que figuras geométricas se forman?, dibuja las figuras que se forman.
2. Ahora, con el mismo proceso de la pregunta anterior, utiliza 3, 4, 5, 6 y 7 piezas del tangram. Encuentra la secuencia para cada figura, si es posible.

Exploremos.

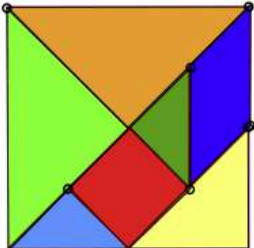
Las siete piezas del Tangram.



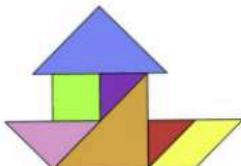
GeoGebra. Activa la casilla de verificación para obtener la silueta de una figura. Arrastrar cada pieza y rotar desde el punto según la posición deseada para formar la figura.

Si deseas obtener una ayuda, activa la casilla de verificación correspondiente a la ayuda. Activa una figura a la vez

El Tangram (7 Piezas)



Arrastrar / Rotar desde el punto



Active una figura a la vez

Fig.1 Fig.2 Fig.3 Fig.4 Fig.5



¡Piensa!... Según cada silueta, ¿Será posible arrastrar solo algunas piezas para formar la figura sin rotarlas?, si es posible, ¿Cuántas piezas serían necesarias en cada silueta para formar la figura?

El Tangram y las fracciones.


¿Te has dado cuenta cómo de grandes son cada una de las piezas del Tangram? ¿qué fracción del total del cuadrado ocupa cada una de ellas? ¿Podrías decir cuántos triángulos grandes se necesitan para rellenar todo el cuadrado? ¿Y triángulos medianos? Pensemos las mismas preguntas para los triángulos pequeños, el cuadrado y el paralelogramo.

Si no has tenido problema para esto, te va a resultar muy fácil saber ¿qué fracción del total del cuadrado ocupa un triángulo grande? ¿Y el triángulo mediano? ¿Y los demás?

EL TANGRAM CHINO



¿Que fracción corresponde a cada pieza del Tangram?



(Si no identificas la fracción, haz clic en cada pieza y observa).



¡Piensa!... Observa el Tangram, y responde: ¿Qué parte del cuadrado que forma el Tangram corresponde en fracción cada una de las siete piezas?

Ejercicio 5.2.

Calculando los lados del Tangram.



¡Piensa!... Para hacer este ejercicio no puedes utilizar regla, pero si puedes manipular las fichas del Tangram Chino.

Responde las preguntas a continuación:

1. ¿Cuánto miden los tres lados de uno de los triángulos grandes (amarillo o verde)?
2. ¿Cuánto miden los tres lados del triángulo mediano?
3. ¿Cuánto miden los tres lados de uno de los triángulos pequeños (verde o azul)?
4. Dibuja el triángulo grande y traza las tres alturas del triángulo. ¿Cuál es la longitud de cada altura del triángulo?
5. ¿Cómo se llama el punto donde se cortan las tres alturas de un triángulo?
6. Repite las preguntas anteriores con el triángulo mediano y el triángulo pequeño.
7. Calcular la diagonal del cuadrado que forma el Tangram y de a pieza cuadrada.
8. Calcula la altura de la pieza del paralelogramo.



Descarga a continuación los dos ejercicios y forma un pequeño cuadernillo de trabajo:



**Actividad
complementaria.**

[Descargar para imprimir](#)



Área y perímetros utilizando el Tangram.

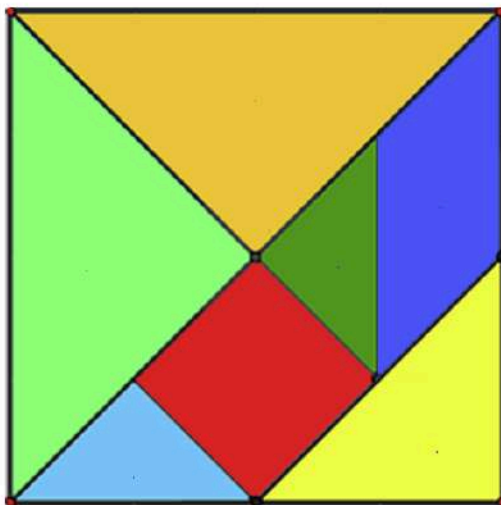
¿Qué relación existe entre el área de cada una de las piezas del Tangram Chino con respecto al área del cuadrado original?

Exploremos.

Área de las siete piezas del Tangram.

Ingresar el valor de la longitud del lado del cuadrado y oprime "enter ↵". ¿Identificas el área?, haz clic en cada pieza y observa.

Ingresar la longitud del lado del cuadrado ↵



[Cuadrícula](#)

Recordemos, que unidades de área son unidades cuadradas (u^2).



¡Piensa!... ¿Cuál es el área de un cuadrado cuyos lados miden 12 cm ? ¿Cuál es el área de cada una de las piezas que componen el Tangram construido a partir de dicho cuadrado?

¿Qué relación encontramos entre el Tangram Chino (cuadrado original) y las construcciones de diferentes figuras geométricas?



¡Geonota!

Con el Tangram Chino pueden identificarse: figuras congruentes, figuras semejantes y figuras equivalentes.

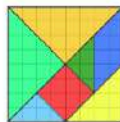
Si se tienen dos figuras geométricas cualesquiera, se puede tener:

- **Figuras congruentes**, la misma forma y el mismo tamaño.
- **Figuras semejantes**, la misma forma y diferentes tamaños.
- **Figuras equivalentes**, el mismo tamaño y diferentes formas.
- **Figuras diferentes**, diferentes formas y diferentes tamaños.














Perímetro y área Utilizando el Tangram

Construyamos figuras geométricas con las siete piezas que conforman el Tangram Chino y comparemos sus áreas y perímetros.



En conclusión, el Tangram Chino en primer lugar se puede utilizar para jugar libremente con él, familiarizarse y conocer las distintas piezas. Luego se puede convertir en un gran aliado para la enseñanza y aprendizaje de la Geometría.

El tangram, a través de la percepción visual, nos ayuda a despertar el desarrollo del sentido espacial, así como su imaginación y fantasía, además, desde lo didáctico podemos trabajar:

-  Reconocer las distintas figuras que lo componen y otras formas geométricas.
-  Reconocimiento de figuras simples en una figura más compleja.
-  Copiar contornos de figuras y rellenarlas con las figuras del tangram.
-  Composición y descomposición de figuras geométricas.
-  Estudio de los conceptos de paralelismo y perpendicularidad.
-  Clasificación de polígonos, además, de la construcción de polígonos convexos y cóncavos.
-  Introducir el concepto de longitud y de perímetro de figuras planas.
-  Desarrollar la noción de área y perímetro.
-  Estudio de polígonos con áreas iguales o perímetros iguales.
-  Establecimiento de una tabla de equivalencia entre las figuras del tangram.
-  Calcular las áreas de cada una de las piezas del tangram por equivalencia entre ellas, utilizando como unidad, el triángulo pequeño, el cuadrado...

- 🎨 Calcular áreas de figuras a partir de los recubrimientos realizados con las piezas del tangram.
- 🎨 Calcular los perímetros de las piezas del tangram y de las figuras construidas.
- 🎨 Comparar los perímetros de las piezas con sus respectivas áreas
- 🎨 Deducir las fórmulas para calcular el área de polígonos más sencillos: cuadrado, rectángulo, triángulo, paralelogramo y trapecio.
- 🎨 Relaciones de adición y sustracción entre piezas.
- 🎨 Estudio de figuras con áreas equivalentes, concluir que, para figuras con la misma área, tenemos perímetros distintos.
- 🎨 Estudio de fracciones
- 🎨 Desarrollar la creatividad con la composición de figuras libres.
- 🎨 Se pueden trabajar además conceptos como: la comprobación del Teorema de Pitágoras, el estudio de triángulos semejantes, introducción de $\sqrt{2}$, entre otros.



Comprueba lo aprendido respondiendo a la pregunta.



El área A de un terreno **cuadrado** de lado $l = 87 \text{ mm}$ es?



Respuesta

Ejercicio 5.3.

Resolvamos problemas utilizando el Tangram Chino.

Lea detenidamente el problema, realice los cálculos con su debido procedimiento. Para actualizar otros valores oprime el botón.



7

El Mundo de la Geometría

Libro Interactivo.
Autor: Carlos Alberto Rojas Hincapié

Nombres y Apellidos:


Ingresa tu nombre



EL TANGRAM. PROBLEMAS


Utilizando las piezas del Tangram Chino, resolver lo siguiente problemas:

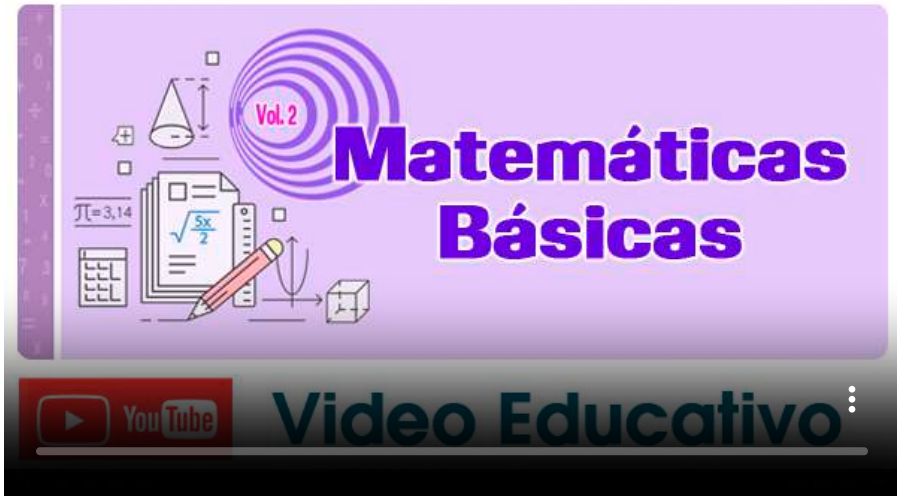
1. Haciendo uso de todas las piezas del tangram, construye y representa dos figuras geométricas de 5 lados que tengan igual perímetro e igual área. ¿Será posible?
2. Construir un triángulo y un trapecio con todas las piezas del tangram. Compara sus perímetros y área, y describe que se observa.
3. Al medir con una regla el lado más largo de uno de los triángulos grandes del Tangram, se obtienen como longitud $L = 15$ cm, ¿cuáles son las medidas, aproximadas, de los lados de cada pieza? (Utiliza una cifra decimal).





5.2 Los Pentominós

Un poco sobre los pentominós y los geniales rompecabezas que pueden armarse con ellos.

 **Video.** Los pentominós.



Creado por Ever Salazar, Tomado de: <https://www.youtube.com/watch?v=DoXs5PeXm7I> 

 [Canal./everst88](https://www.youtube.com/channel/UC...). Este video está bajo una licencia Creative Commons Reconocimiento 3.0

Los pentominós o pentaminós son figuras geométricas compuestas por cinco cuadrados del mismo tamaño unidos por sus lados. Son por tanto unas curiosas formas de polígonos que recubren, por ejemplo, cinco cuadros de un tablero de ajedrez. Así al menos fueron presentados por Solomon Wolf Golomb en 1954 al mundo matemático, como subformas de un concepto más general llamado poliominó. Debido a sus propiedades y características, tienen diversas aplicaciones en matemáticas, geometría, diseño, y juegos, entre otras áreas.

Con esas condiciones, estos son los 12 pentominós posibles:

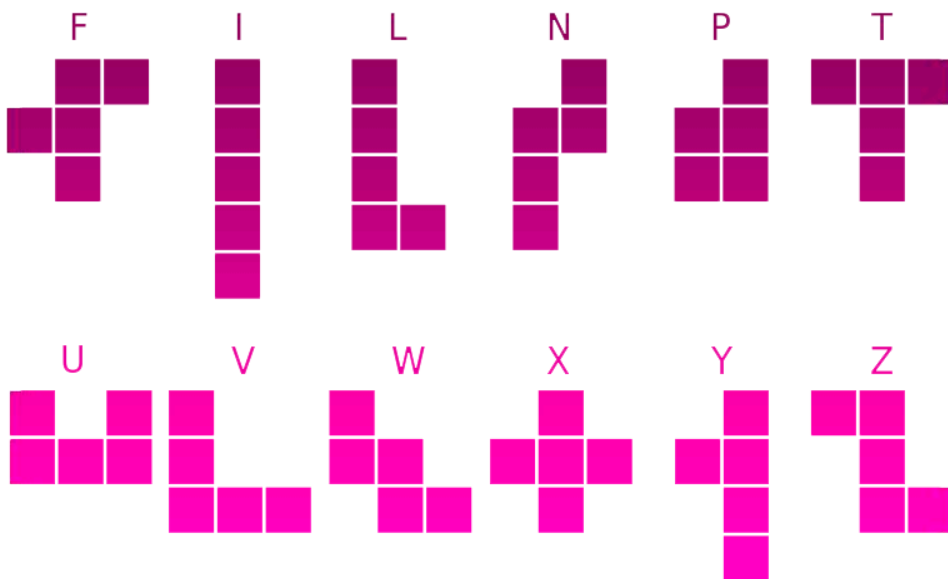


Figura 5.3. Representación gráfica. Pentominó.



¡Geonota!

Los pentominós obtenidos a partir de otros por reflexión o volteado (simetría axial) o por rotación no cuentan como un pentominó diferente.



Plantillas para recortar.

[Descargar para imprimir](#)



Exploremos.

Las doce piezas del pentominó.



GeoGebra. Arrastra, invierte o gira cada pieza desde el punto según las instrucciones dadas. Con estas 12 piezas se pueden armar diferentes figuras de distintas formas.

Escena de [Cristina Masotta](#), TheMadMathematician_1, con licencia [CC by-nc-sa](#)



¡Piensa!... ¿Los Pentominós, tienen todos la misma superficie(área)? ¿Tienen el mismo perímetro? [Respuesta.](#)

Para responder a las preguntas, tomemos como una unidad cuadrada un cuadrado de un pentominó y observemos los siguientes pentominós.

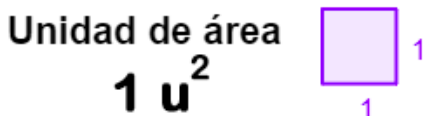


Figura 5.4. Representación gráfica. Unidad cuadrada.



¡Geonota!

"Unidad cuadrada, es un cuadrado, donde todos sus lados miden una unidad lineal".

Si cada lado de un cuadrado es una unidad lineal, entonces el perímetro de los pentominós P y T serán diferentes:

$$P = 10u \neq T = 12u$$

Pasa el mouse sobre la siguiente imagen y observa:

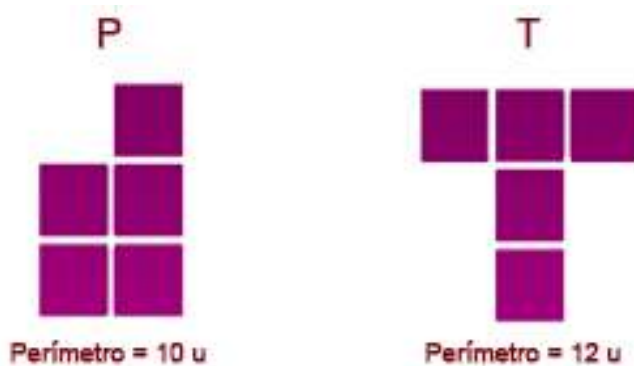


Figura 5.5. Representación gráfica. Pentominó P y T.

Ejercicio 5.4.

Construir figuras de igual área.



GeoGebra. Utilizando el interactivo con los 12 pentominós, construir los posibles rectángulos que tienen igual área, donde sus lados se representan en unidades.

¿Cuál debería ser el área de cualquiera de los rectángulos formados por todos los pentominós?

Pentominós

Instrucciones

Construir rectángulos que tienen igual área

Con la 12 fichas del pentominó o algunas de ellas, se pueden construir diferentes figuras geométricas, por lo cual, se puede afianzar el concepto de área y perímetro, además, de estimular la imaginación y las habilidades del pensamiento creativo.





Observa la construcción de todos los posibles rectángulos con todas las 12 fichas del Pentominó.

- 6 unidades x 10 unidades. [\(Solución\)](#)
- 5 unidades x 12 unidades. [\(Solución\)](#)
- 4 unidades x 15 unidades. [\(Solución\)](#)
- 3 unidades x 20 unidades. [\(Solución\)](#)



¡Piensa!... ¿Estas construcciones de los rectángulos serán únicas o se tienen otras posibilidades diferentes para construir cada rectángulo?

Son muchos los beneficios que en la educación puede aportar el Pentominó, tales como el desarrollo de la creatividad, la atención, memorización, planificación, el desempeño intelectual, la implementación de la lógica matemática, la eficiencia, el autocontrol y las múltiples habilidades que se pueden desarrollar, además de trabajar temas como:

-  Calcular y obtener fracciones.
-  Construir diversas clases de rectángulos, además, calcular sus áreas.
-  Establecer equivalencias entre áreas.
-  Realizar simetrías y giros.





Ejercicio 5.5.

Resolvamos problemas utilizando el Pentominó.

Lea detenidamente el problema, realice los cálculos con su debido procedimiento. Para actualizar otros valores oprime el botón.



07 **El Mundo de la Geometría**
Libro interactivo. Autor: Carlos Alberto Rojas Hincapié

Nombres y Apellidos:

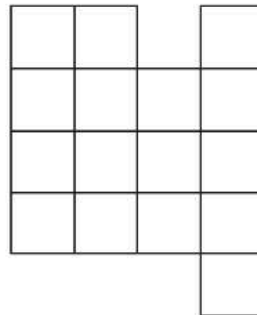
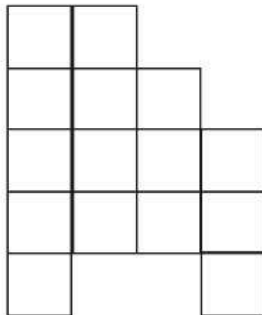
Ingresar tu nombre



EL PENTOMINÓ. PROBLEMAS

Utilizando los pentominós, resolver los siguiente problemas:

1. Haciendo uso de solo tres pentominós, construye y representa las siguientes figuras (utiliza diferentes colores para representar el pentominó utilizado):



2. Si se sabe que la medida de uno de los lados de un cuadrado que componen una de las figuras del punto anterior tiene como longitud $L = 29$ cm, ¿Cual es el área y perímetro de cada figura?.

5.3 Juguemos con la Geometría

Beneficios de jugar con las figuras geométricas.

El juego y la manipulación de las figuras geométricas ayuda a desarrollar habilidades cognitivas como el razonamiento lógico y la resolución de problemas, esto, ayuda a reconocer patrones y simetrías, lo que estimula el pensamiento. Al manipular figuras geométricas, se desarrollan habilidades motoras finas, mejorando la coordinación motriz entre los sentidos visuales y corporales.

Las figuras geométricas son la base de las matemáticas. Comprenderlas desde temprana edad facilita el aprendizaje de conceptos más avanzados, como la geometría y la trigonometría, repasemos las figuras geométricas con algunos juegos.



PUZLE TETRIS

Tetris es el rompecabezas más famoso del mundo, diseñado por el matemático Ruso Alexei Pajitno en el año de 1984, como buen aficionado a los rompecabezas, recreo en un ordenador un juego similar a un pentominó.

Tetris está centrado en elegir la forma idónea de las piezas que van apareciendo en la pantalla con el fin de conseguir que todas encajen, y todo ello en tan solo unos pocos segundos. Es por este motivo que uno de los beneficios es la capacidad que esta actividad tiene para poner el cerebro en funcionamiento y mejorar el pensamiento crítico, vital para escoger la forma correcta en todo momento.




Además, estimula la memoria, ya que, se deben colocar las piezas que van apareciendo mientras se observa cuál será la siguiente forma y retenerla en la memoria para saber cómo se colocará está.

Exploremos. Rompecabezas Tetris.

Para iniciar, oprime el botón jugar y utiliza las flechas del teclado para desplazar o cambiar de posición las piezas del Tetris.



Puzle Tetris






TORRE DE HANOI

Las Torres de Hanói es un rompecabezas o juego matemático inventado en 1883 por el matemático francés Édouard Lucas. El juego, en su forma más tradicional, consiste en tres varillas verticales. En una de las varillas se apila un número indeterminado de discos (elaborados de madera) que determinará la complejidad de la solución, por regla general se consideran ocho discos. Los discos se apilan sobre una varilla en tamaño decreciente. No hay dos discos iguales, y todos ellos están apilados de mayor a menor radio en una de las varillas, quedando las otras dos varillas vacías.



Figura 5.6. Representación gráfica.

El juego consiste en pasar todos los discos de la varilla ocupada (es decir la que posee la torre) a una de las otras varillas vacantes. Para realizar este objetivo, es necesario seguir tres simples reglas:

-  Sólo se puede mover un disco a la vez.
-  Un disco de mayor tamaño no puede descansar sobre uno más pequeño que él mismo.
-  Sólo puedes desplazar el disco que se encuentre arriba en cada varilla.

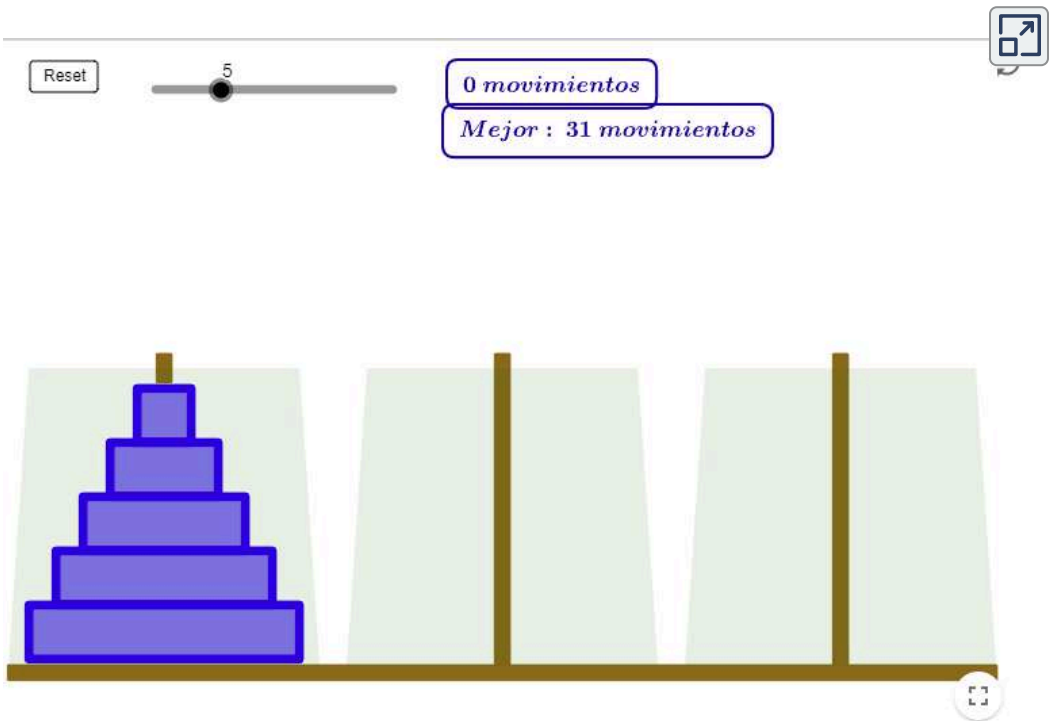
Este juego desarrolla habilidades tales como: la agilidad mental pasando rápidamente una pieza de un lugar al otro, pensamiento lógico matemático contando y contando, la autonomía por el juego, estimula la concentración, desarrollando la paciencia, la coordinación visual espacial, potencia la imaginación y creatividad: creando muchas historias diferentes alrededor de este juego.

Exploremos.
La Torre de Hanoi.



GeoGebra. Author: Matematicaula, 侯杰材

Haz clic en los discos para moverlos, y de una varilla a otra, clic en la varilla a mover.



Escena de [Matematicaula, 侯杰材](#), 河内塔 (Tower of Hanoi), con licencia [CC by-nc-sa](#)



Comprueba lo aprendido resolviendo la sopa de letras.

Sopa de letras. [Descargar para imprimir](#)



SOPA DE LETRAS

10 TÉRMINOS DEL CAPÍTULO. Pueden estar en dirección horizontal o vertical, al derecho o al revés.

U	D	U	T	A	N	G	R	A	M	Z	S	Y	U	Ñ
P	K	Y	G	E	U	R	B	L	W	B	B	N	E	R
E	O	G	E	O	M	E	T	R	I	A	T	M	A	Q
R	P	H	A	T	E	T	R	I	S	T	Y	G	Y	C
I	W	O	N	I	M	O	T	N	E	P	U	O	Ñ	O
M	S	Ñ	M	C	O	X	L	H	P	Y	L	L	S	L
E	P	D	P	A	E	R	A	H	H	N	S	U	O	U
T	J	Q	S	E	D	A	D	I	N	U	S	G	A	C
R	F	L	H	Q	F	G	N	D	P	X	F	N	Ñ	R
O	S	L	U	J	Q	U	Y	S	P	R	H	A	K	I
I	V	I	S	E	S	S	O	C	S	T	P	I	J	C
U	F	M	S	V	O	X	Ñ	T	I	I	E	R	Y	K
F	H	D	G	W	F	W	P	O	I	M	Y	T	D	X
K	Z	U	E	H	A	N	O	I	P	V	J	I	Y	R
A	O	Q	O	U	N	G	H	G	Z	A	S	G	W	Z

Haz clic en la primera letra de la palabra, luego dirige el ratón a la última letra y vuelve a hacer clic. Palabra colorada es incorrecta, palabra verde es un acierto.

PALABRAS

MOstrar

5.4 Evaluemos lo aprendido

Ejercicio práctico.

Prepárate para la evaluación y mide tus conocimientos de lo aprendido en este capítulo, responde las preguntas a continuación:



preguntas

Comenzar




Tomada de la Red Educativa Digital Descartes - [Plantillas con Descartes-JS](#)




**Actividad
complementaria.**

[Descargar para imprimir](#)



 **Evaluación.** 10 preguntas con límite de tiempo (Máx. 15 minutos)
Clic en el link, responde y envía tus respuestas por correo.



Capítulo V: juguemos con la Geometría.

Evalúa lo aprendido y envía resultados a tu profesor(a).



[Clic aquí.](#)

Evaluación:
Capítulo V



Escanéame con tu móvil



Tomada de la Red Educativa Digital Descartes.

[4] Plantillas con Descartes-JS

Referencias Bibliográficas



Referencias Bibliográficas

- [1] **Rivera, J. y Galo, J.** *Proyecto Descartes iCartesiLibri* La Institución Universitaria Pascual Bravo de Medellín (Colombia), a través de su Unidad de Educación Virtual.. Recuperado de: <https://proyectodescartes.org/iCartesiLibri/>
- [2] **García, M., Galo, J.** *Proyecto "EDAD" (Educación Digital con Descartes)*. Recuperado de: <https://proyectodescartes.org/EDAD/>
- [3] **Abreu, J., Galo, J. y Rivera, J.** *Proyecto Telesecundaria*. México. Recuperado de: <https://proyectodescartes.org/Telesecundaria/>
- [4] **Rivera, J. y Galo, J.** *Plantillas con Descartes JS*. La Red Educativa Digital Descartes, proyectodescartes.org. Recuperado de: <https://proyectodescartes.org/plantillas/>
- [5] **Rojas Hincapié, C.A.** (2023). *Matemáticas Básicas*. 1.^a Ed. Medellín, Colombia. Institución Universitaria Pascual Bravo. Recuperado de: [Matemáticas_Basicas-JS](#)
- [6] **Rojas, C.** (2020). *Función Lineal y Cuadrática*. (1.^a ed.). Editorial Red Educativa Digital Descartes, Córdoba (España). Recuperado de: [Función lineal y cuadrática](#).
- [7] **Ministerio de Educación Nacional (MEN)**. (2016). *Derechos Básicos de Aprendizaje*. V2°. Panamericana Formas E Impresos S.A. Recuperado de: [DBA_matemáticas.pdf](#). 88 pag.
- [8] **Ministerio de Educación Nacional (MEN)**. (2016). *Estándares Básicos de Competencias*. Ed. Ministerio de Educación Nacional. Recuperado de: [Estándares Básicos de Competencias - Matemáticas](#). 46 pag.

- [9] **Quintero, L.** (2020). *Estrategias de Mejoramiento de Componentes Curriculares*. Cali: 1° Ed. [Los Tres Editores S.A.S.](#) 56 pag.
- [10] Rojas, C., et al. (2012). *Función lineal, cuadrática y volúmenes*. (1.ª ed.). Fondo Editorial ITM. Recuperado de <https://dx.doi.org/10.22430/9789588743226>
- [11] **Alsina, À.** (2004). *Desarrollo de competencias matemáticas con recursos lúdico-manipulativos para niños y niñas de 6 a 12 años*. Madrid, España. Ed. Narcea.
- [12] Rojas Hincapié, C. (2002). *Software Educativo para la Enseñanza de la Geometría en la Educación Básica Primaria*. Tesis de Especialización. Universidad de San Buenaventura.
- [13] **Pérez, M., Mandly, A. y Muñoz, J.** *Proyecto EDIA. Movimientos*. Cedec (Centro de desarrollo curricular en sistemas no propietarios). Recuperado de: http://descargas.pntic.mec.es/cedec/mat3_2/contenidos/M3_U7/
- [14] **Rodríguez S, Benjamín y otros** (1996). *Matemáticas con Tecnología Aplicada*. Bogotá: Ediciones Prentice Hall. 220 pag.
- [15] **Barnett, A.** (1989). *Álgebra y Geometría*. Bogotá: 2° Ed. Ediciones MC Graw-Hill. 384 pag.
- [16] **Uribe, J.** (1989). *Elementos de Matemáticas*. Medellín: 2° Ed. Ediciones Bedout. 401 pag.
- [17] **Uribe Calad, Julio A.** (1989). *Elementos de Matemáticas*. Medellín: 2° Ed. Ediciones Bedout. pág 401.

- [18] **Guarin, H. Wills, D. y Takeuchi, Y.** (1983). *Hacia la Matemática 4*. Medellín, Colombia. 2° Ed. Grupo Editorial Andino. 480 pag.

Otras Ciberweb

<https://www.diferenciador.com/ciencias/>

<https://edu.gcfglobal.org/es/geometria-basica/#>

<https://www.matematicas10.net/2015/12/ejemplos-de-poligonos-simples.html>

https://calculo.cc/temas/temas_geometria/fig_geometrica/teoria/triangulos1.html

<https://nuevaesuelamexicana.sep.gob.mx/detalle-ficha/8188/>



